

السلطان

مذكرات

الدراسات الإجتهادية

الصف الثاني الإعدادي



إعداد
محمد مفتحي

012 000 28 345

EL Sultan



السسلطان مذكرات

الدراسات الإجتماعية الصف الثاني الإعدادي

- شرح وافى ومبسط لجميع النقاط.
- أسئلة على أهم النقاط.
- مراجعة شاملة بعد كل درس.



www.facebook.com/EL.Sulttan

تابعنا على صفحتنا



تابع جديد زاكروولي على موقعنا
<https://www.zakrooly.com>

الوطن العربي (الموقع والمساحة)

* تنتمي بلدنا مصر إلى وطن أكبر هو الوطن العربي الذي يضم كل الدول العربية التي قامت على أرضها حضارات عريقة وكانت مهبطاً للديانات السماوية ويجمعها: مكان واحد - لغة واحدة - تاريخ مشترك.

أولاً موقع الوطن العربي

الموقع الجغرافي

هو الموقع بالنسبة لليابس والماء.

- يقع الوطن العربي في قلب العالم وسط قارات العالم القديم (آسيا - أفريقيا - أوروبا)
- يمتد الوطن العربي في قارتي: آسيا - أفريقيا. ويفصل بينهما البحر الأحمر.
- يطغى الوطن العربي على:
 - محيطين: المحيط الهندي - المحيط الأطلنطي.
 - ثلاث بحار: البحر المتوسط - البحر الأحمر - البحر العربي.
 - ثلاثة خلجان: الخليج العربي - خليج عمان - خليج عدن.
- * كل الدول العربية تمتلك سواحل تطل على بحار أو محيطات أو الاثنين معاً.

الموقع الفلكي

هو الموقع بالنسبة لخطوط الطول ودوائر العرض.

- يمتد الوطن العربي (ما عدا دولة جزر القمر) فيما بين:
 - خطي طول: ٦٠° شرقاً إلى ١٧° غرباً. (أي يشغل ٧٧ خط طول).
 - دائرتي عرض: ٣٧° ٥' شمالاً إلى ٢° جنوباً. (أي يشغل ٣٩,٥ دائرة).
- يمر في الوطن العربي:
 - دائرتي عرض رئيسيتين: خط الاستواء - مدار السرطان.
 - خط طول رئيسي: خط جرينتش.
- * دولة جزر القمر: تقع في المحيط الهندي وهي الدولة العربية الوحيدة التي تقع خارج نطاق الموقع الفلكي للوطن العربي حيث تقع جنوب خط الاستواء عند تقاطع دائرة عرض ١٢° جنوباً مع خط طول ٤٤° شرقاً.



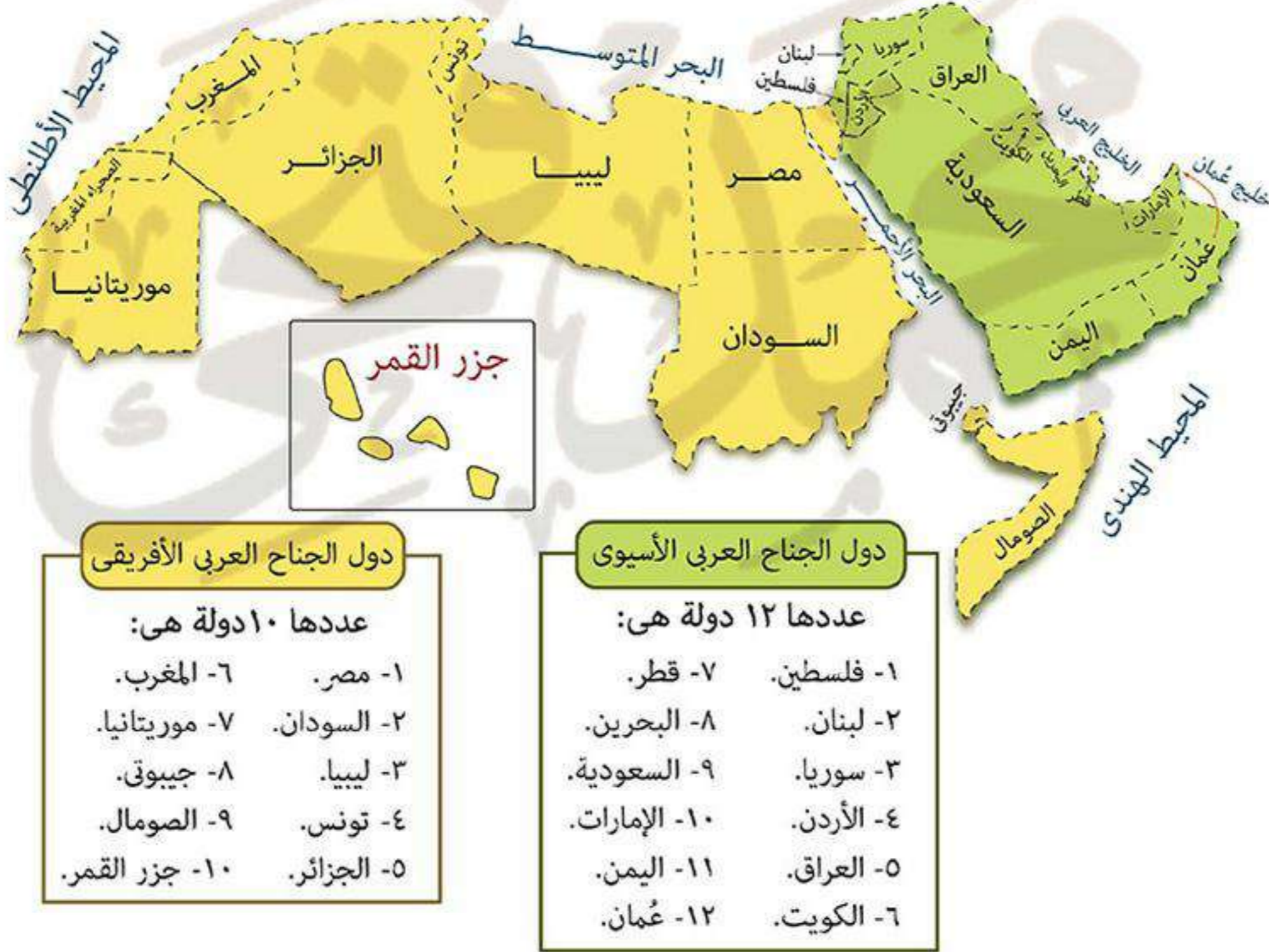
ثانياً حدود الوطن العربي

- * يحد الوطن العربي من:
 - الشمال الشرقي: جبال زاغروس - جبال كردستان.
 - الشمال: جبال طوروس - البحر المتوسط.
 - الجنوب: المحيط الهندي - دول وسط أفريقيا.
 - الشرق: البحر العربي - خليج عمان - الخليج العربي.
 - الغرب: المحيط الأطلنطي.

ما النتائج المترتبة على: امتداد حدود الوطن العربي مع ظواهر طبيعية في معظم الجهات؟
 كم ترتب على ذلك: (١) احتفاظ الوطن العربي بشخصيته العربية المميزة بين الأمم.
 (٢) اتصاله الوطن العربي بالعالم الخارجي.

ثالثاً مساحة ودول الوطن العربي

- * تبلغ مساحة الوطن العربي نحو ١٣ مليون كم^٢.
- * يضم الوطن العربي ٢٢ دولة تتوزع بين قارتي آسيا - أفريقيا كالتالي:



رابعاً أهمية موقع الوطن العربي

١ الأهمية الحضارية للوطن العربي

بم تفسر: الأهمية الحضارية للوطن العربي؟

كم بسبب: قيام حضارات قديمة على أرض الوطن العربي:

- (١) الحضارة المصرية القديمة (الفرعونية).
- (٢) حضارات بلاد الشام.
- (٣) حضارات بلاد العراق القديم (بلاد ما بين النهرين).
- (٤) حضارات بلاد اليمن.





مسجد قبة الصخرة



الكعبة المشرفة

٢ الأهمية الدينية للوطن العربي

بم تفسر: الأهمية الدينية للوطن العربي؟
 كم بسبب أن الوطن العربي:

- (١) مهد للديانات الساموية الثلاث (اليهودية - المسيحية - الإسلامية) ومنه انتشرت إلى العالم.
- (٢) يوجد به أماكن مقدسة يقصدها الناس لزيارتها مما جعل له قيمة روحية عظيمة مثل:
 - الكعبة المشرفة: في السعودية.
 - المسجد الأقصى ومسجد قبة الصخرة - كنيسة المهد: في فلسطين.

٣ الأهمية الاقتصادية والاستراتيجية للوطن العربي

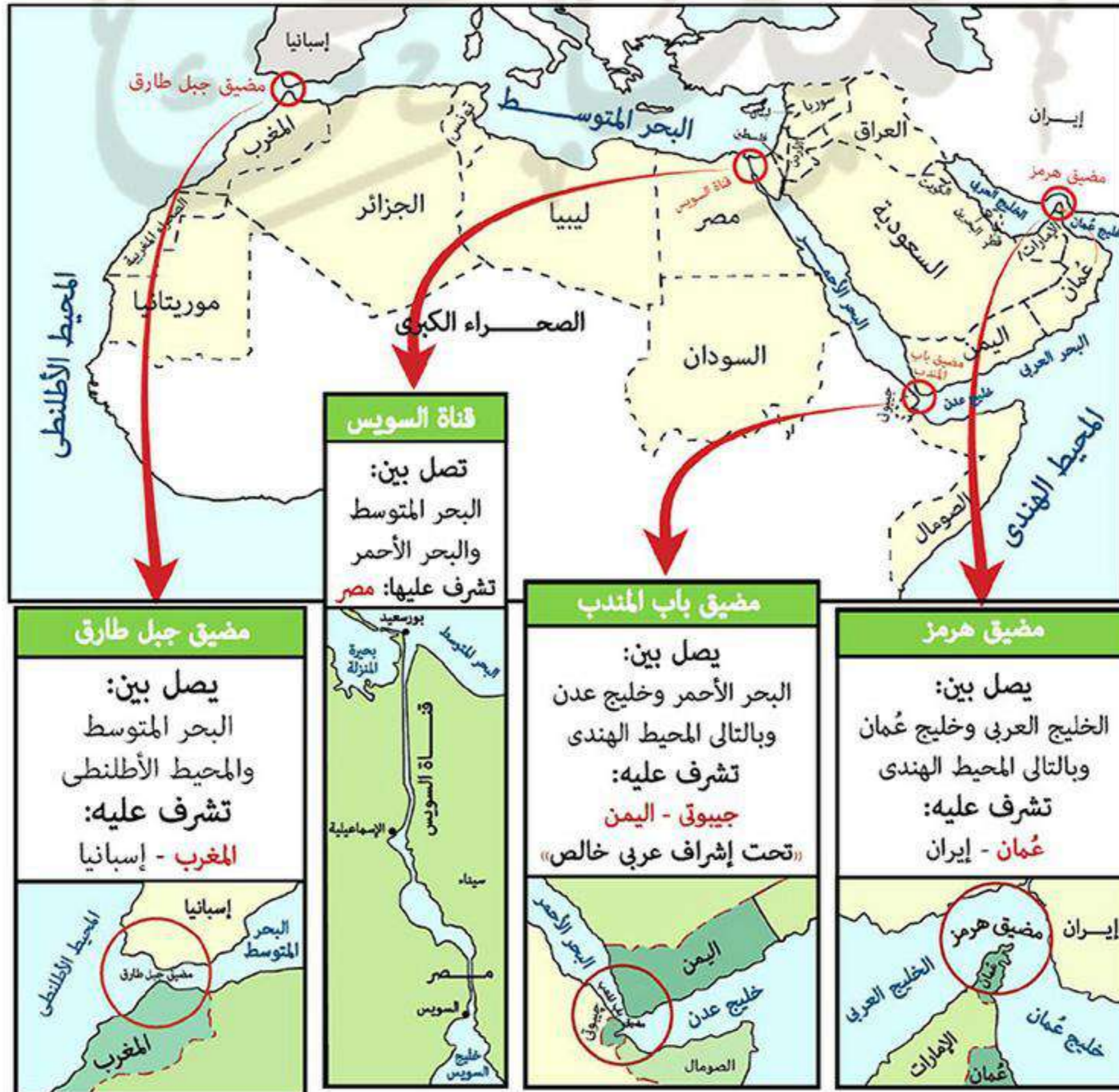
بم تفسر: الأهمية الاقتصادية والاستراتيجية للوطن العربي؟

- (١) تنوع موارده الاقتصادية بسبب: تنوع الأقاليم المناخية والحياة النباتية والتكوينات الجيولوجية به.
- (٢) وجود البترول والغاز الطبيعي على أرضه.
- (٣) تحكمه في طرق التجارة العالمية على مر العصور بسبب:
 - موقعه المتوسط بين قارات العالم.

الأهمية الاستراتيجية

هي الأهمية وقت الحروب والأزمات والسلام.

- إشرافه على ثلاثة أذرع مائية (البحر المتوسط - البحر الأحمر - الخليج العربي).
- تحكمه في أربع ممرات مائية مهمة زادت من أهميته الاقتصادية والاستراتيجية هي: (مضيق هرمز - مضيق باب المندب - مضيق جبل طارق - قناة السويس).



ما النتائج المترتبة على: أهمية الوطن العربي الاستراتيجية؟
كم ترتب على ذلك: تعرض الوطن العربي للاستعمار الأوربي الذي قام:
 (١) بنهب خيرات الوطن العربي.
 (٢) تقسيم الوطن العربي إلى دول مختلفة في المساحة وعدد السكان
 يفصل بينها حدود سياسية مصطنعة.

لاحظ!

حملت جميع الدول العربية على استقلالها ماعدا:
 - فلسطين يكافح شعبها للحصول على الاستقلال.
 - سبتة ومليلة من المدن المغربية.
 - بعض الجزر الإماراتية.

ما النتائج المترتبة على: الاستعمار الأوربي للوطن العربي؟
كم ترتب على ذلك: حدوث بعض المشكلات السياسية مثل:
 (١) مشكلة فلسطين: واحتلال اليهود لها.
 (٢) مشكلتي جنوب السودان و دارفور.
 (٣) مشكلة بعض المدن المغربية مثل سبتة ومليلة.

أختبر

أكمل:

١. يقع الوطن العربي بين دائرتي عرض شمالاً إلى جنوباً.
٢. تمتد أراضي الوطن العربي في قارتي و ويفصل بينهما
٣. يجد الوطن العربي غرباً
٤. من الأماكن المقدسة في الوطن العربي بالسعودية.
٥. من الممرات المائية المهمة التي تشرف عليها مصر
٦. من المشكلات التي ظهرت في الوطن العربي نتيجة الاستعمار مشكلة واحتلال اليهود لها.
٧. يقع الوطن العربي بين قارات العالم القديم و و
٨. يمتد الوطن العربي بين خطي طول شرقاً و غرباً.
٩. من المدن المغربية التي ما زالت غير مستقلة حتى الآن و
١٠. يمر في الوطن العربي دائرتي عرض رئيسيتين هما و
١١. تقع دولة جزر القمر عند تقاطع دائرة عرض جنوباً مع خط طول شرقاً.
١٢. الأهمية الاستراتيجية تكون وقت والأزمات ووقت

ما النتائج المترتبة على:

١. تعرض الوطن العربي للاستعمار؟

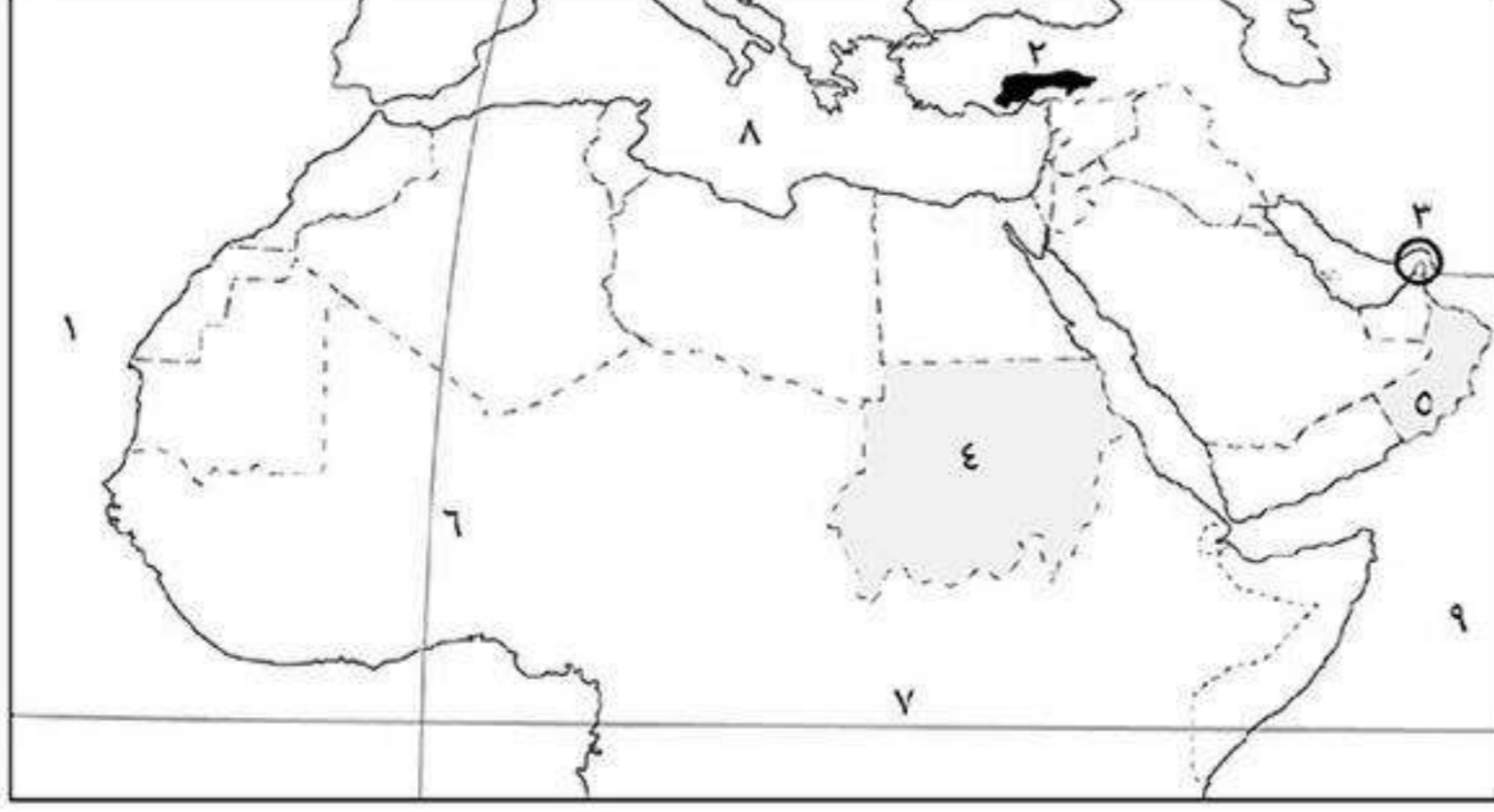
.....

٢. إشراف الوطن العربي على ممرات مائية مهمة؟

.....

٣. امتداد ظواهر طبيعية مع حدود الوطن العربي؟

.....

أكتب ما تشير إليه الأرقام الآتية :

- (١) المحيط :
- (٢) جبال
- (٣) مضيق:
- (٤) دولة
- (٥) دولة
- (٦) خط طول رئيسي
- (٧) دائرة عرض رئيسية
- (٨) البحر
- (٩) المحيط

بم تفسر :

١. للوطن العربي أهمية دينية ؟

.....
.....

٢. تقسيم الوطن العربي إلى دول مختلفة المساحة ؟

.....
.....

٣. للوطن العربي أهمية اقتصادية واستراتيجية ؟

.....
.....

٤. حدوث مشكلة فلسطين ؟

.....
.....

٥. تنوع موارد الوطن العربي ؟

.....
.....

ضع علامة (✓) أو (×) مع التصويب:

- () ١ كل الدول العربية تمتلك سواحل تطل على البحار والمحيطات.
- () ٢ يجد الوطن العربي من الشمال الشرقي جبال طوروس وكردستان.
- () ٣ يمر خط جريتش غرب الوطن العربي في دولة المغرب.
- () ٤ يضم الوطن العربي ٢٢ دولة في آسيا وأفريقيا وأوروبا.
- () ٥ يقع مضيق باب المندب تحت اشراف عربي تام.
- () ٦ يربط مضيق هرمز بين خليج عمان والخليج العربي.
- () ٧ يربط مضيق جبل طارق بين البحر الأحمر والمحيط الهندي.

ما المقصود بالمصطلحات الآتية:

١. الأهمية الاستراتيجية:

٢. الموقع الفلكي:

٣. الموقع الجغرافي:

تضاريس الوطن العربي

* تضاريس يوجد بالوطن العربي تضاريس متنوعة وهي لا تمثل عائقاً أمام وحدته بل عامل يسهم في الوحدة بين أبنائه.

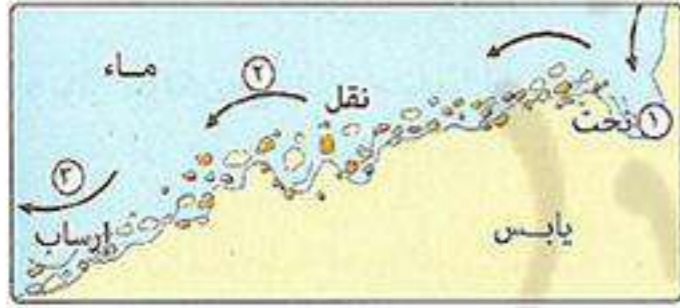
عوامل تشكيل سطح الوطن العربي

١ العوامل الباطنية تحدث من باطن الأرض وتتمثل فـهـ:

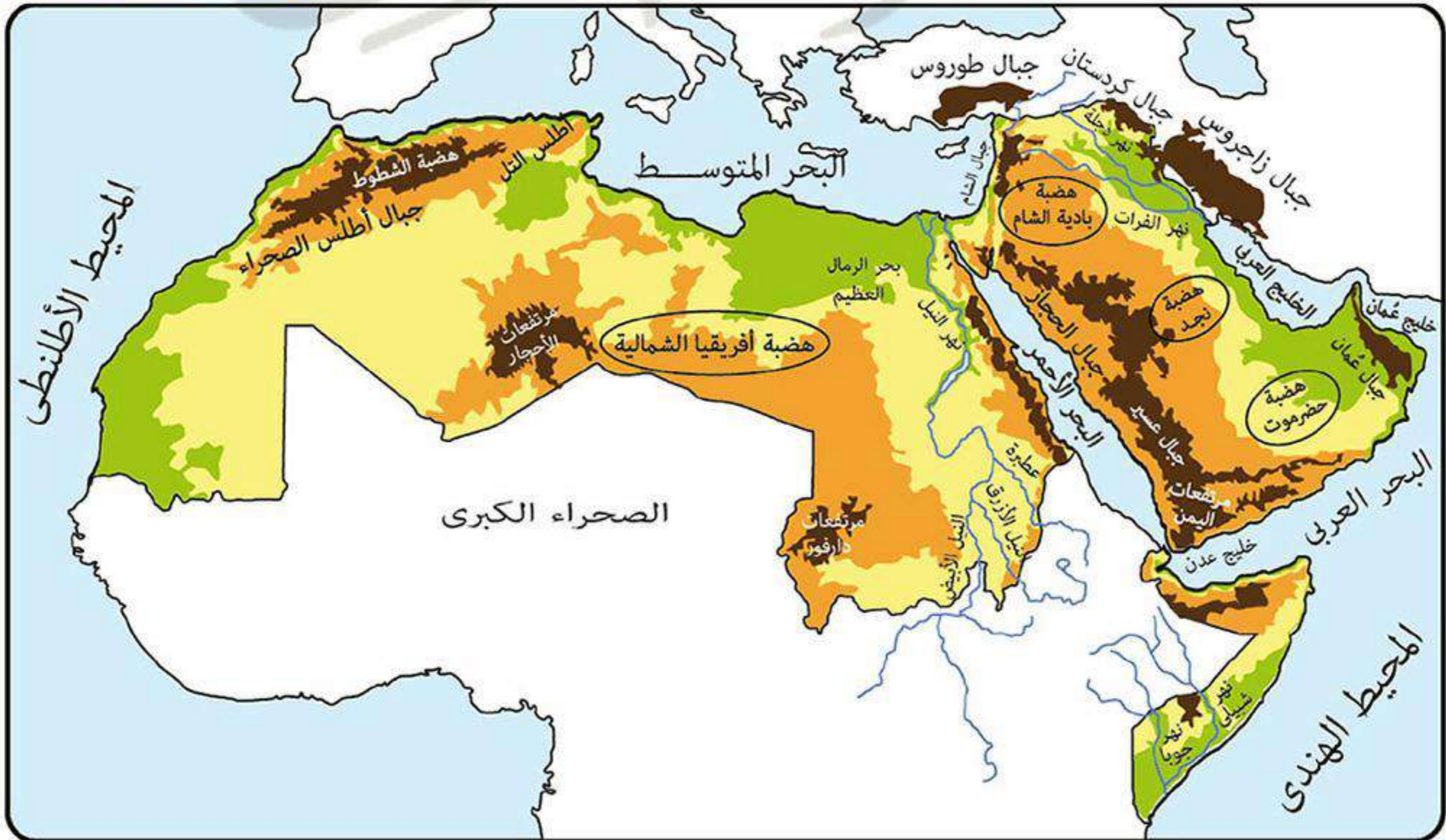


الحركات الالتوائية	أدت إلى تكون سلاسل جبلية مرتفعة.
الحركات الانكسارية	هي حركات أصابت الصخور الصلبة وأدت إلى: انخفاض بعض الصخور مكونة بحار وارتفاع بعض الصخور مكونة جبال.
الثورات البركانية	أدت إلى ظهور الجبال والهضاب البركانية. مثل: هضبة اليمن.

٢ العوامل الخارجية تحدث فوق سطح الأرض وتتمثل فـهـ:



التعرية المائية (نهرية - بحرية)	تقوم المياه بنحت الصخور ونقلها وإرسائها مما يؤدي إلى تكوين أشكال سطح متعددة مثل: الشواطئ - الدالات.
التعرية الهوائية (الرياح)	تقوم الرياح بنحت الصخور ونقلها وإرسائها مما يؤدي إلى تكوين أشكال سطح متعددة مثل: الكثبان الرملية.



أهم مظاهر سطح الوطن العربي

أولاً الجبال

تنقسم الجبال حسب تكوينها إلى:

الجبال الانكسارية	الجبال الالتوائية
هي جبال نشأت نتيجة الحركات الإنكسارية التي أصابت الصخور الصلبة من القشرة الأرضية. مثل: (١) جبال البحر الأحمر. (٢) جبال الشام.	هي جبال نشأت نتيجة الحركات الالتوائية التي تعرضت لها صخور القشرة الأرضية. مثل: (١) جبال زاغروس. (٢) جبل كردستان. (٣) جبال أطلس. (٤) جبال عُمان.

١ الجبال الالتوائية من أمثلتها:

جبال أطلس: الامتداد: تمتد من الغرب إلى الشرق في (المغرب - تونس - الجزائر).

تتكون من: مجموعة سلاسل جبلية أهمها: - أطلس التل في الشمال.
- أطلس الصحراء في الجنوب.

تنحصر بينهما
هضبة الشطوط

٢ الجبال الانكسارية من أمثلتها:

جبال البحر الأحمر: الامتداد: تمتد على جانبي البحر الأحمر.

تتكون من: عدة مرتفعات في: • الجناح الأفريقي تعرف في مصر والسودان بجبال البحر الأحمر.
• الجناح الآسيوي تعرف في: - السعودية: باسم جبال الحجاز وجبال عسير.
- اليمن: باسم مرتفعات اليمن.

جبال الشام: الامتداد: تمتد على طول الساحل الشرقي للبحر المتوسط في (سوريا - لبنان - فلسطين).

تتكون من: سلاسل جبلية تحصر بينها عدة سهول تجرى فيها عدة أنهار مثل:

• نهر الليطاني: في لبنان.

• نهر العاصي: في سوريا.

ثانياً الهضاب

هضاب الجناح الآسيوي	هضاب الجناح الأفريقي
هضبة حزموت: تمتد في جنوب شبه الجزيرة العربية. هضبة نجد: تمتد في وسط شبه الجزيرة العربية. هضبة بادية الشام: تمتد في شمال شبه الجزيرة العربية.	هضبة أفريقيا الشمالية: • تمتد من: - جبال البحر الأحمر شرقاً إلى المحيط الأطلنطي غرباً. - البحر المتوسط شمالاً إلى وسط أفريقيا جنوباً. * تعتبر هضبة الشطوط أهم مظاهرها.

* تنتشر بعض الظواهر الطبيعية فوق هضاب الوطن العربي مثل:

هي أرض منخفضة في الصحراء صالحة للحياة وتعتمد على المياه الجوفية من الآبار والعيون العذبة.

الواحات

- مثل: • واحة سيوة: في مصر.
- واحة الكفرة: في ليبيا.

بم تفسر: أهمية الواحات؟

■ لأنها: يوجد بها مياه جوفية وأرضها خصبة صالحة للزراعة ويعمل سكانها بالزراعة وتربية الحيوانات.



هي أودية كانت تجري بها المياه قديماً ثم جفت.

الأودية الجافة

- مثل: وادي العلاقي: في مصر.

بم تفسر: أهمية الأودية الجافة؟

■ لأنها: (١) تستخدم كطرق للمواصلات. (٢) يسهل الحصول منها على المياه الجوفية.



هي أراضي سهلية منبسطة من سطح اليابس (القارات) تتميز باستواء سطحها.

السهول

ثلاثاً

* تنقسم السهول في الوطن العربي إلى:

١ السهول الفيضية

تربتها	أراضي مستوية أو شبه مستوية السطح كونتها الأنهار عن طريق ترسيب المواد العالقة بمياهها على جانبي الأنهار.
أهميتها	تربتها خصبة صالحة للزراعة. لذلك يرتفع بها كثافة السكان. • سهول نهر النيل: في مصر والسودان.
مثل	• سهول نهري دجلة والفرات: في العراق. • سهول نهري جوبا وشبيلي: في الصومال. • سهول نهر الأردن: في الأردن.

٢ السهول الساحلية

تربتها	أراضي منخفضة مستوية السطح مختلفة الاتساع وتمتد على سواحل البحار والمحيطات.
أهميتها	بعضها صالح للزراعة وبعضها مليء بالثروات المعدنية ومصادر الطاقة.
مثل	• سهول البحر المتوسط: وهي صالحة للزراعة. • سهول البحر الأحمر: يستخرج منها الثروات المعدنية ومصادر الطاقة. • سهول الخليج العربي:

هي سهول كونتها الرياح عن طريق النحت أو الإرساب.

٣ السهول الصحراوية

- أنواعها: • سهول صخرية.
- إرسابات رملية.



كثبان رملية

تدريبات (1)

أكمل:

- ١) تتكون جبال أطلس من سلسلة جبال في الشمال وجبال في الجنوب وتُحصر بينهما هضبة
- ٢) من الجبال الانكسارية في السعودية جبال و.....
- ٣) من الهضاب البركانية في الجناح العربي الآسيوي
- ٤) من العوامل الباطنية التي شكلت سطح الأرض الحركات والحركات والثورات البركانية.
- ٥) من أشكال سطح الأرض الناتجة عن التعرية المائية و.....
- ٦) من هضاب الجناح العربي الأفريقي هضبة ومن أهم مظاهرها
- ٧) من أمثلة الواحات في الوطن العربي واحة في مصر وواحة في ليبيا.
- ٨) من أمثلة التكوينات الرملية بين مصر وليبيا
- ٩) من السهول الساحلية التي تصلح للزراعة سهول
- ١٠) من السهول الفيضية في دولة الصومال سهول نهري و.....

ضع علامة (✓) أو (×) مع التصويب:

- ١) تكونت هضبة اليمن نتيجة حركات التوائية. ()
- ٢) من هضاب الجناح العربي الأفريقي هضبة الشطوط. ()
- ٣) جبال عُمان تعتبر من الجبال الالتوائية بالوطن العربي. ()
- ٤) تضاريس الوطن العربي تمثل عائقاً أمام وحدته. ()
- ٥) من السهول الساحلية التي يستخرج منها مصادر طاقة سهول نهر الأردن. ()
- ٦) كون نهري دجلة والفرات سهل فيضي في العراق. ()
- ٧) وادي العلاقي من أمثلة الأودية الجافة في مصر. ()
- ٨) توجد هضبة نجد جنوب شبه الجزيرة العربية. ()

بم تفسر:

- ١) تكون السلاسل الجبلية ؟
- ٢) أهمية الواحات في الوطن العربي ؟
- ٣) أهمية السهول الفيضية الخصبة لسكان الوطن العربي ؟
- ٤) أهمية الأودية الجافة ؟

أكتب ما تشير إليه العبارات الآتية:

- ١) نحت الماء للصخور ونقلها وإرسابها.
- ٢) أراضي مستوية أو شبه مستوية تمتد على سواحل البحار والمحيطات.
- ٣) أودية كانت تجري بها المياه في العصور القديمة ثم جفت.
- ٤) أراضي منخفضة في الصحراء يعيش بها السكان وتربى فيها الحيوانات.
- ٥) سهول كونتها الانهار عن طريق ترسيب المواد العالقة بمياهها.

ماذا يحدث إذا:

- ١) لم يتعرض الوطن العربي للحركات الالتوائية ؟

اختبار

أكمل:

- (١) نشأت جبال البحر الأحمر نتيجة حركات بينما نشأت جبال عُمان نتيجة حركات
- (٢) تعرف جبال البحر الأحمر في السعودية باسم جبال وجبال
- (٣) تمتد هضبة أفريقيا الشمالية من غرباً إلى شرقاً.
- (٤) من أشهر قبائل العرب بمكة
- (٥) تمتد هضبة وسط شبه الجزيرة العربية.
- (٦) من أسواق العرب سوق وسوق
- (٧) من النساء اللاتي اشتهرن بالطب في المجتمع العربي قديماً السيدة من بني

بم نفيسر:

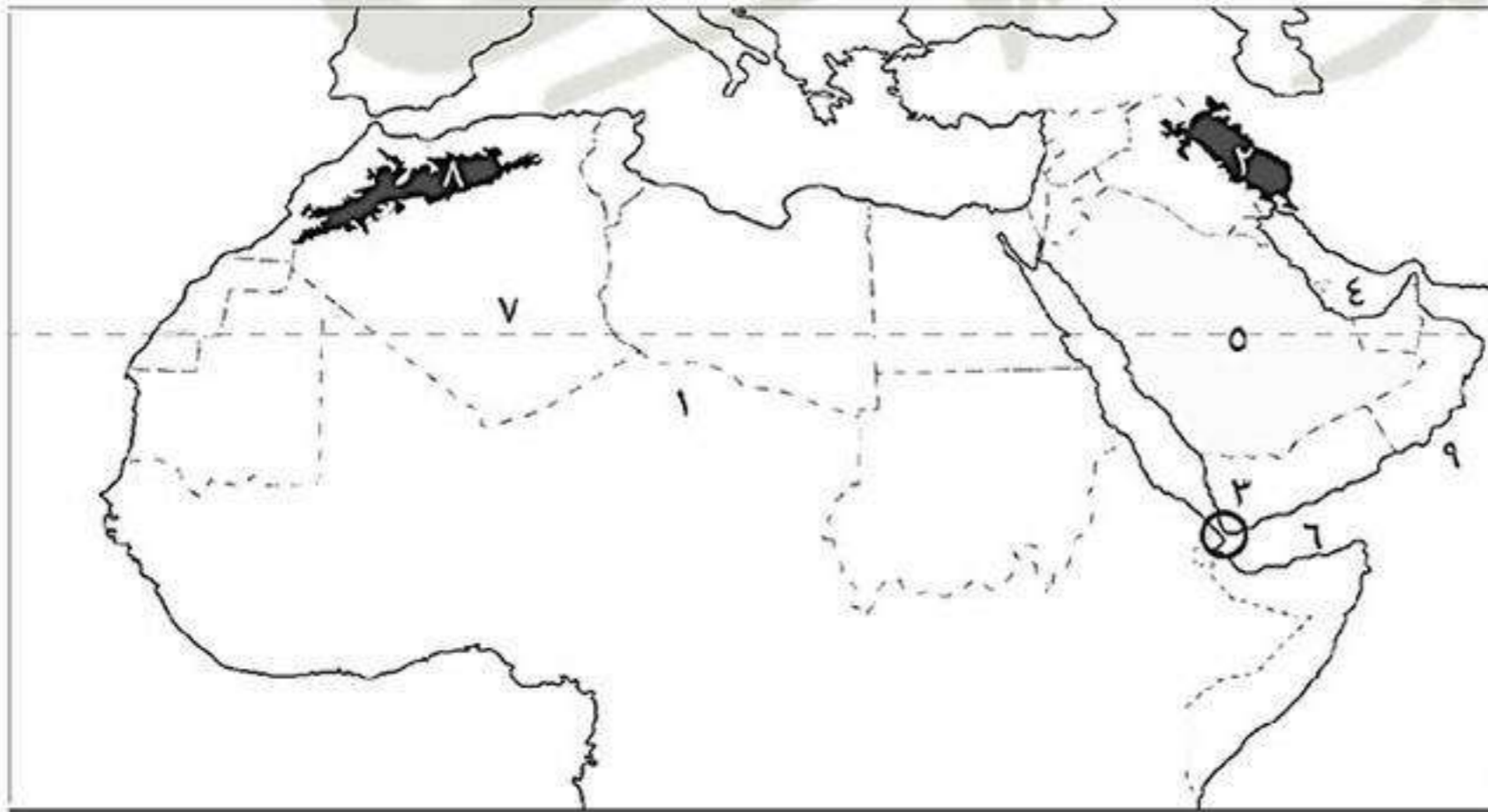
- (١) تكون السهول الفيضية ؟
- (٢) أهمية سهول البحر الأحمر ؟
- (٣) سيادة النظام القبلي في شبه الجزيرة العربية ؟
- (٤) الأهمية الاقتصادية للوطن العربي ؟

اكتب ما تشير إليه الجمل الآتية:

- (١) أرض منخفضة ومستوية السطح تمتد على جوانب الأنهار. (.....)
- (٢) عملية نحت الماء للصخور ونقلها وإرسابها فيؤدي لتكون الأنهار والشواطئ. (.....)
- (٣) الأهمية وقت الحرب والسلام. (.....)
- (٤) ممر مائي يقع تحت إشراف عربي خالص. (.....)
- (٥) دولة قديمة اتخذت الديانة المسيحية ديناً رسمياً لها قبل الإسلام. (.....)

اكتب مدلول الأرقام الآتية:

- (١) هضبة
- (٢) جبال
- (٣) مضيق
- (٤) الخليج
- (٥) هضبة
- (٦) خليج
- (٧) دائرة عرض
- (٨) جبال
- (٩) البحر



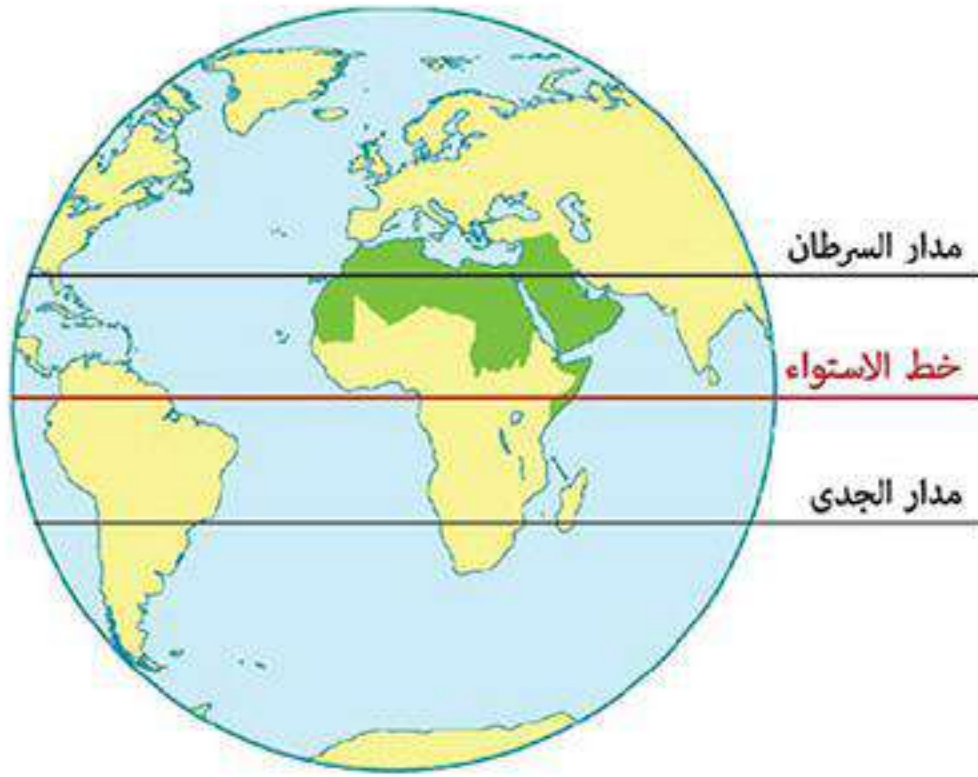
اختر الإجابة الصحيحة:

- (١) الظاهرة التضاريسية التي توجد في الجناح العربي الإفريقي والأسوي هي
(جبال أطلس - هضبة بادية الشام - سهول نهر النيل - جبال البحر الأحمر)
- (٢) اعترفت دولة الروم بالديانة ديناً رسمياً للبلاد.
(اليهودية - المسيحية - الوثنية - الحنيفية)
- (٣) يجري نهر في دولة لبنان.
(النيل - الفرات - الليطاني - العاصي)

المناخ والنبات الطبيعي في الوطن العربي

أولاً

العوامل المؤثرة في مناخ الوطن العربي



١ الموقع بالنسبة لدوائر العرض

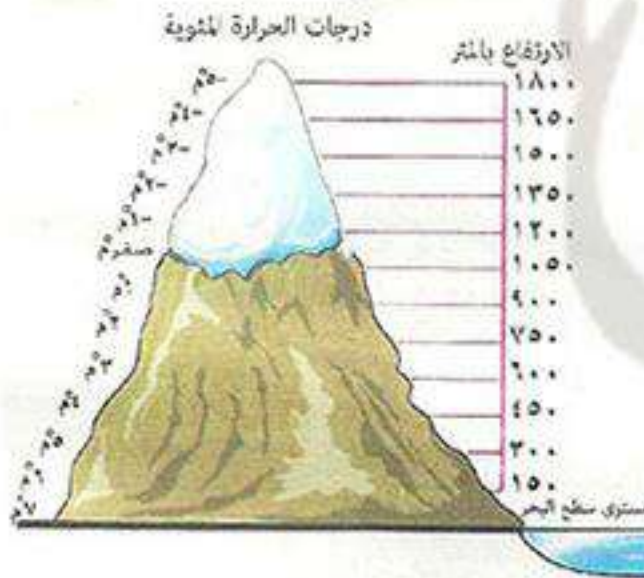
- يؤثر الموقع بالنسبة لدوائر العرض في المناخ حيث:
 - ترتفع الحرارة كلما اقتربنا من خط الاستواء.
 - تنخفض الحرارة كلما ابتعدنا عن خط الاستواء شمالاً أو جنوباً.

٢ القرب أو البعد عن المسطحات المائية

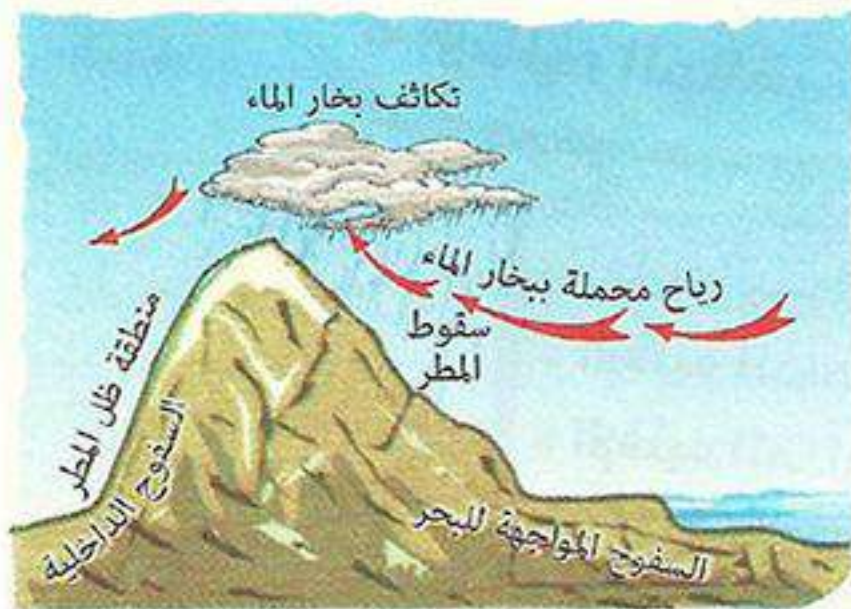


- يؤثر القرب أو البعد عن المسطحات المائية في المناخ حيث:
 - المناطق الساحلية: المطلة على البحار أو المحيطات تتميز بـ (المناخ المعتدل).
 - المناطق الداخلية (القارية): البعيدة عن المسطحات المائية مثل المناطق الصحراوية تتميز بارتفاع الحرارة صيفاً وانخفاض الحرارة شتاءً.

٣ التضاريس



- تؤثر التضاريس في المناخ من حيث:
 - الارتفاع: يؤثر في درجة الحرارة لأنه كلما ارتفعنا 150 متر فوق سطح البحر تنخفض درجة الحرارة درجة واحدة مئوية.
 - لذلك نجد بعض قمم الجبال في الوطن العربي يغطيها الثلوج لشدة ارتفاعها مثل: جبال لبنان.



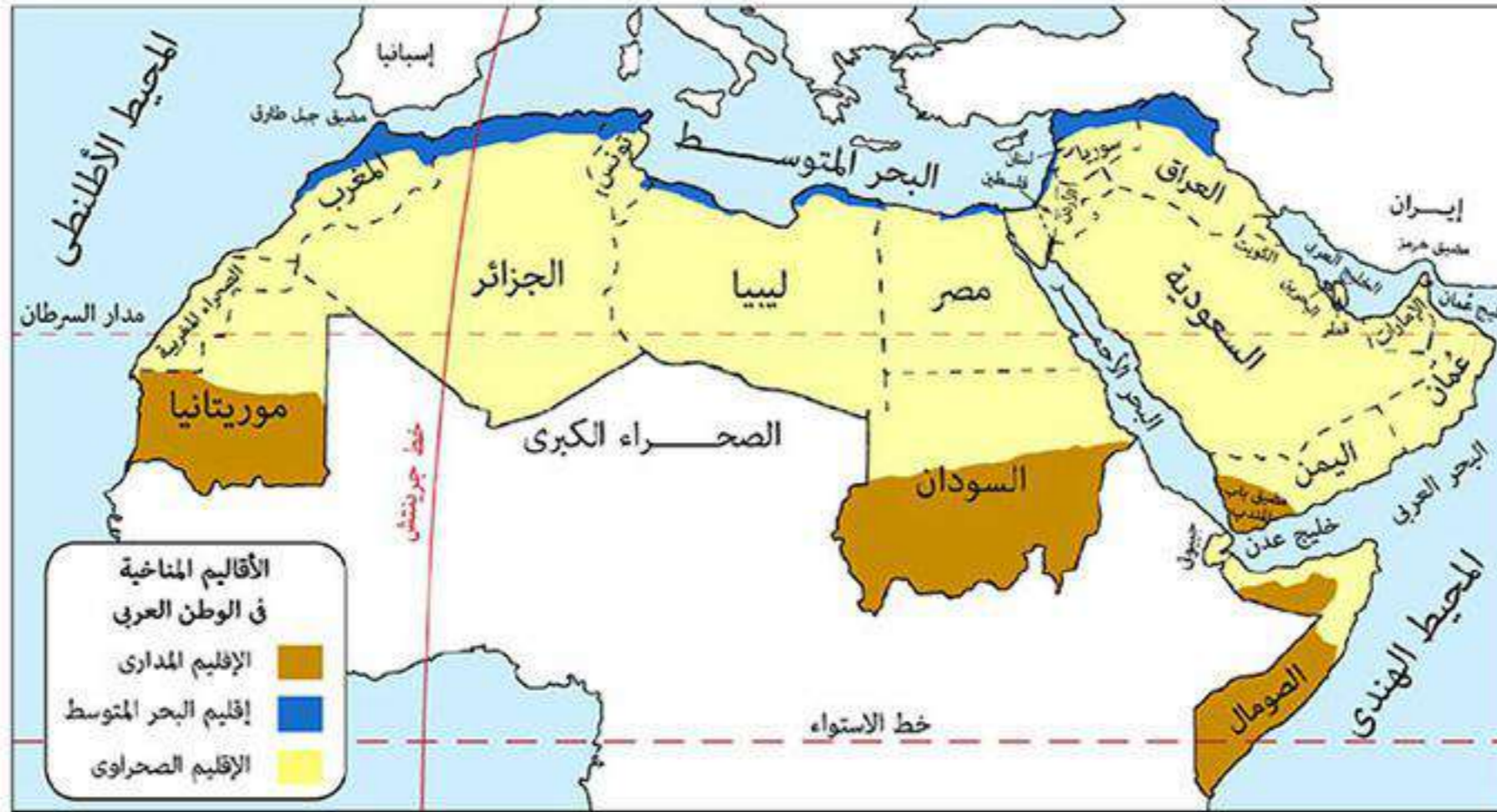
- اتجاه الكتل الجبلية: يؤثر في توزيع المطر حيث إن: جوانب (سفوح) الجبال المواجهة للرياح الممطرة تكون أغزر مطراً من السفوح الداخلية (منطقة ظل المطر). وذلك بسبب: اصطدام الرياح المحملة ببخار الماء القادمة من المسطحات المائية بجوانب الجبال المواجهة لها فتسقط عليها الأمطار مثل: جبال أطلس.

* يتنوع المناخ في الوطن العربي من مكان لآخر.


ما النتائج المترتبة على: تنوع مناخ الوطن العربي؟

كما ترتب على ذلك: تنوع النبات الطبيعي وتنوع المحاصيل الزراعية مما يساعد على تكامل الدول العربية فيما بينها.

ثانياً الأقاليم المناخية في الوطن العربي



إقليم مداري	إقليم صحراوي	إقليم البحر المتوسط	
<p>يقع جنوب الوطن العربي في:</p> <ul style="list-style-type: none"> - معظم دولة السودان. - وسط الصومال. - جنوب موريتانيا. - جنوب غرب شبه الجزيرة العربية. 	<p>يمتد بين إقليم البحر المتوسط شمالاً والإقليم المداري جنوباً.</p> <p>* هو أكبر الأقاليم المناخية مساحة يشغل ٨٠٪ من مساحة الوطن العربي ويوجد في معظم دول الوطن العربي.</p>	<p>يقع في الأطراف الشمالية للوطن العربي المطلة على البحر المتوسط.</p>	الموقع
-----	-----	لبنان - مصر - ليبيا - المغرب	الإقليم دول
<ul style="list-style-type: none"> • صيفاً: ترتفع الحرارة وتسقط الأمطار. • شتاءً: تنخفض الحرارة ويسود الجفاف. 	<ul style="list-style-type: none"> • صيفاً: مناخ قاري شديد الحرارة خاصة في النهار. • شتاءً: مناخ قاري شديد البرودة خاصة في الليل. 	<ul style="list-style-type: none"> • صيفاً: ترتفع الحرارة. • شتاءً: تعادل الحرارة وتسقط الأمطار. 	الخصائص المناخية
<ul style="list-style-type: none"> ■ الغابات المدارية: • تشبه الغابات الاستوائية. • يكثُر بها أشجار السنط التي يستخرج منها الصمغ العربي. ■ حشائش السافانا (الحارة): • تتدرج في الطول من الجنوب إلى الشمال حسب كمية الأمطار. • تعتبر حديقة حيوان طبيعية حيث: يعيش بها حيوانات متنوعة مثل: الأسود والنمور والزراف والأفيال. 	<ul style="list-style-type: none"> ■ يتنوع حسب كمية المطر حيث تنمو: • حشائش قصيرة في المناطق قليلة الأمطار. • نباتات شوكية كالصبار في المناطق نادرة المطر. ■ يعيش به: الزواحف - الإبل - الغزلان. 	<ul style="list-style-type: none"> ■ الغابات المعتدلة: • تنمو فوق منحدرات الجبال غزيرة المطر مثل: جبال أطلس ومرتفعات العراق والشام. • أهم أشجارها: البلوط الفليني - الصنوبر - الأرز (اتخذته لبنان شعاراً لها). ■ الحشائش المعتدلة (أستبس): • تنمو بين إقليم البحر المتوسط والإقليم الصحراوي. • تزدهر شتاءً وتجف صيفاً. • تربي عليها الأغنام والماعز والأبقار. 	النبات الطبيعي والحيوان البري



أسئلة

أكمل:

- (١) تعرف المناطق الداخلية البعيدة عن تأثير المسطحات المائية بالمناطق
- (٢) يغطي جبال في الوطن العربي بالجليد.
- (٣) أكثر أقاليم المناخية في الوطن العربي مساحة هو الإقليم
- (٤) تنمو الغابات في إقليم البحر المتوسط بينما تنمو غابات في الإقليم المداري.
- (٥) ينتمي جنوب دولة موريتانيا إلى الإقليم المناخي
- (٦) يؤثر في توزيع كمية المطر.
- (٧) تسقط الأمطار في الإقليم المداري بينما تسقط في إقليم البحر المتوسط

ضع علامة (✓) أو (×) مع التصويب:

- () (١) من العوامل المؤثرة في مناخ الوطن العربي الموقع بالنسبة للخطوط الطول.
- () (٢) تربي الأغنام والماعز على حشائش السافانا.
- () (٣) تنخفض درجة الحرارة بمعدل درجة واحدة مئوية كلما ارتفعنا ١٥٠ م فوق سطح البحر.
- () (٤) السفوح الداخلية للجبال تكون أغزر مطراً من السفوح المواجهة للمسطحات المائية.
- () (٥) مصر وليبيا ولبنان والأردن تنتمي لإقليم البحر المتوسط.

بم تفسر:

- (١) تدرج حشائش السافانا في الطول؟
- (٢) تغطي قمم جبال لبنان الثلوج؟
- (٣) أهمية أشجار السنط؟
- (٤) تعتبر حشائش السافانا حديقة حيوان؟

أكتب ما تشيبر إليه الجمل الآتية:

- (١) أشجار تنمو في الإقليم المداري ويستخرج منها الصمغ العربي. (.....)
- (٢) أشجار اتخذتها لبنان شعاراً لها. (.....)
- (٣) مناطق تطل على سواحل البحار والمحيطات وتتميز بالمناخ المعتدل. (.....)
- (٤) جوانب الجبال الداخلية الغير مواجهة للمسطحات المائية. (.....)
- (٥) إقليم مناخي تنمو به حشائش الاستبس والغابات المعتدلة. (.....)

قارن بين:

الإقليم مداري	الإقليم الصحراوي	إقليم البحر المتوسط	
			الموقع
			موسم سقوط الأمطار
			الخصائص النباتية
			الحيوانات البرية

دل على صحة العبارات الآتية:

- (١) يؤثر الموقع بالنسبة لدوائر العرض على درجات الحرارة؟
- (٢) تعتبر حشائش الاستبس مراعى طبيعية؟

اختبار

أكمل:

- ١) تولت رضاعة النبي ﷺ لمدة
- ٢) تعرف جبال البحر الأحمر في اليمن باسم وفي أفريقيا
- ٣) تسقط الأمطار في إقليم البحر المتوسط بينما تسقط في الإقليم المداري
- ٤) تنمو الغابات فوق جبال أطلس.
- ٥) تقع دولة خارج نطاق الوطن العربي.
- ٦) تزوج النبي ﷺ السيدة وأنجب منها بنات و..... من الصبيان.
- ٧) نزل الوحي على سيدنا محمد ﷺ وهو يتعبد في

بم تفسر:

- ١) الأهمية الدينية للوطن العربي ؟
- ٢) أهمية سهول الخليج العربي ؟
- ٣) كان لقبيلة قريش أهمية تجارية ؟
- ٤) عرف عام ٥٧٠م بعام الفيل ؟
- ٥) اختيار الرسول ﷺ الحبشة ليهاجر إليها المسلمون ؟

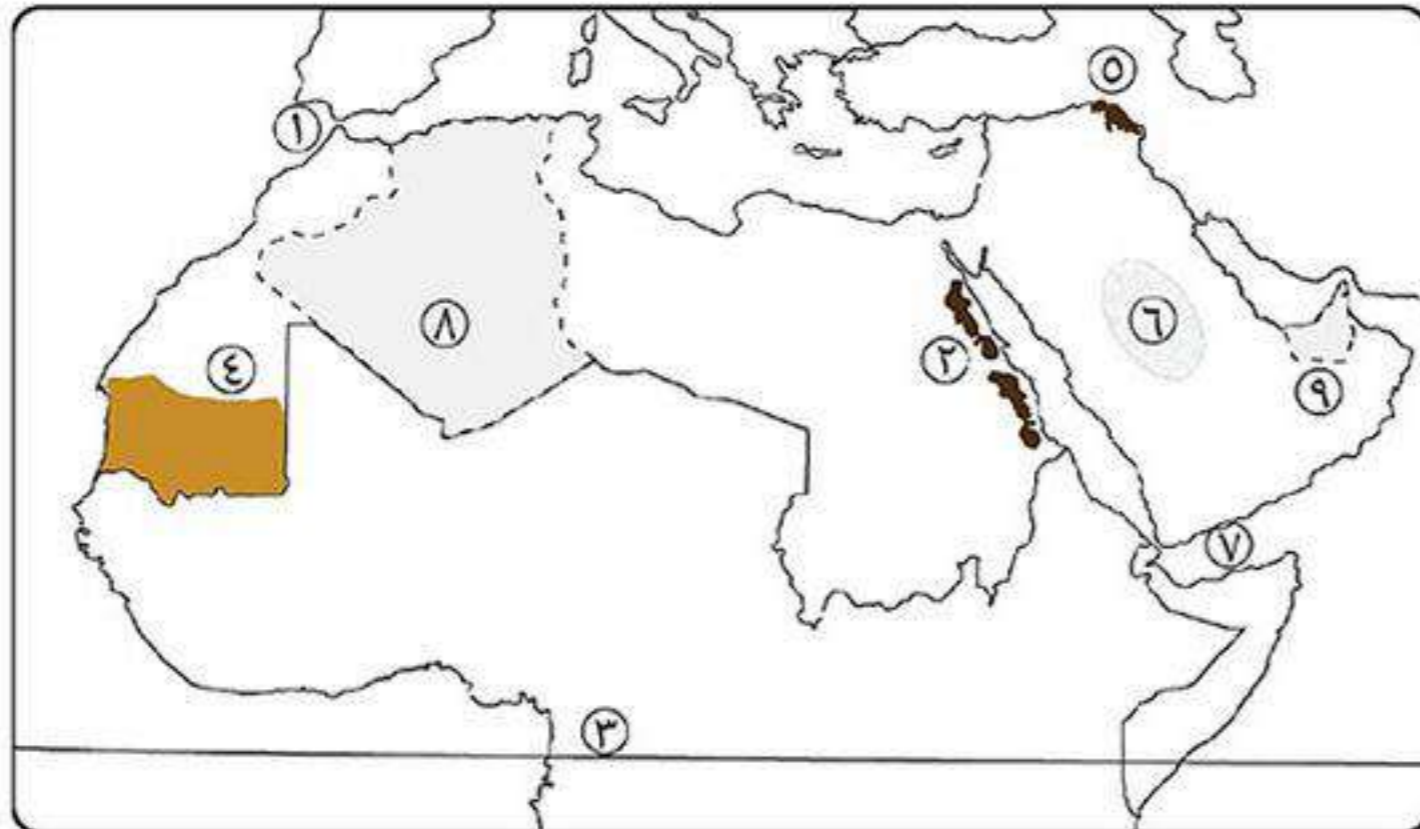
أكتب ما تشير إليه الجمل الآتية:

- ١) أرض منخفضة ومستوية السطح تمتد على جوانب الأنهار. (.....)
- ٢) عملية نحت الماء للصخور ونقلها وإرسابها فيؤدي لتكون الأنهار والشواطئ. (.....)
- ٣) مضيق يقع تحت إشراف عربي خالص. (.....)
- ٤) ابن عم السيدة خديجة وكان عالماً بالإنجيل وعلى دين سيدنا إبراهيم عليه السلام. (.....)

ضع علامة (✓) أو (×) مع التصويب:

- ١) توفت أم النبي ﷺ وهو في سن السادسة. ()
- ٢) من الدول العربية التي مازالت محتلة حتى الآن سبتة ومليلة. ()
- ٣) من أشهر شعراء العرب قديماً حسان بن ثابت. ()
- ٤) أول من أسلم من الرجال هو عمر بن الخطاب. ()
- ٥) أسرى بالنبي ﷺ من المسجد الأقصى إلى المسجد الحرام. ()

أكتب ما تشير إليه الأرقام الآتية:



- ١) مضيق
- ٢) جبال
- ٣) دائرة عرض
- ٤) إقليم مناخي
- ٥) جبال
- ٦) هضبة
- ٧) خليج
- ٨) دولة
- ٩) دولة

توزيع سكان وطننا العربي

* ينتمي سكان الوطن العربي إلى أصل واحد وتربطهم وحدة اللغة والمكان والتاريخ ويدين معظمهم بالإسلام.

أولاً نمو سكان الوطن العربي هو زيادة عدد السكان خلال فترة زمنية معينة.

- تقوم الدول العربية بعمل تعداد سكاني دوري مثل:
 - مصر كل عشر سنوات وتعد مصر أقدم الدول العربية في عمل التعداد السكاني.
 - الأردن كل خمس سنوات.
- سكان الوطن العربي في تزايد مستمر حيث بلغ عددهم عام ٢٠١٤م نحو ٣٨٥ مليون نسمة أي ٥,٣% من سكان العالم.
- يبلغ معدل النمو السكاني في الوطن العربي نحو ٢,٦% وهو معدل نمو مرتفع.

أسباب ارتفاع معدل نمو سكان الوطن العربي

١ الزيادة الطبيعية هي الزيادة السكانية الناتجة عن الفرق بين عدد المواليد والوفيات.

بم تفسر: ارتفاع معدل الزيادة الطبيعية في الوطن العربي ؟
كـ بسبب: (١) ارتفاع معدل المواليد بصفة عامة.
 (٢) انخفاض معدل الوفيات بصفة عامة.



بم تفسر: انخفاض معدل الوفيات ؟
كـ بسبب: (١) تقدم الرعاية الطبية للأطفال.
 (٢) تحسن الأحوال الصحية.
 (٣) ارتفاع مستوى المعيشة.

* معدل الوفيات منخفض في الوطن العربي لكنه مرتفع في دول (سوريا - فلسطين - الصومال - العراق) وذلك بسبب الحروب والمجاعات.

٢ الزيادة غير الطبيعية (الهجرة)

* تؤثر الهجرة في النمو السكاني حيث:

تؤدي إلى زيادة عدد السكان في الدول المستقبلية للمهاجرين مثل دول الخليج العربي.



الهجرة

انتقال الفرد من منطقة لأخرى بغرض الإقامة والعمل.



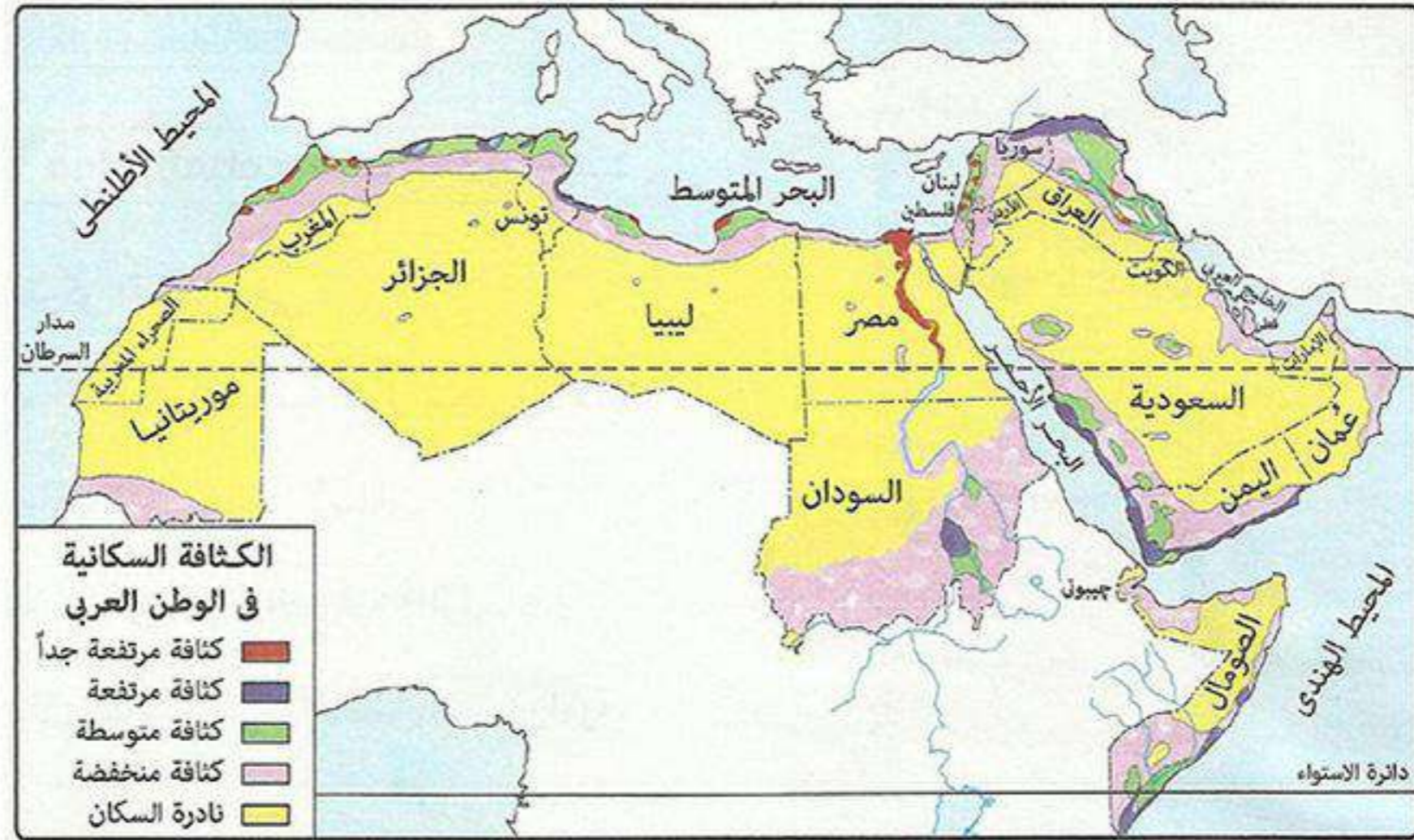
تابعنا على صفحتنا على الفيسبوك
www.facebook.com/ZakroolySite

ثانياً توزيع السكان في الوطن العربي

* يختلف توزيع وكثافة سكان الوطن العربي من منطقة لأخرى كالتالي:

كثافة السكان

نسبة عدد السكان إلى المساحة التي يقيمون عليها.



مرتفعة الكثافة جداً	وادي النيل والدلتا في مصر.
مرتفعة الكثافة	شمال العراق - شمال سوريا - بعض المناطق في سواحل الوطن العربي.
متوسطة الكثافة	الجهات الساحلية في بلاد الشام وشمال أفريقيا (المغرب العربي).
منخفضة الكثافة	هضبة الشطوط بالجزائر - شمال ليبيا - إقليم مريوط وشمال سيناء بمصر.
نادرة السكان	الصحاري العربية كالصحراء الكبرى وغيرها.

بم تفسر: اختلاف توزيع السكان في الوطن العربي؟

- بم سبب: (١) عوامل طبيعية: موارد المياه والتربة الخصبة - التضاريس - المناخ.
(٢) عوامل بشرية: الأنشطة الاقتصادية - الحروب والصراعات - النقل والمواصلات.

أولاً العوامل الطبيعية

١ موارد المياه والتربة الخصبة

- يتركز السكان في: السهول الفيضية حول مجاري الأنهار.
- أماكن سقوط الأمطار.
- مناطق المياه الجوفية بالواحات.
- يقل السكان في: المناطق الصحراوية.

٢ التضاريس

- يتركز السكان في: المناطق السهلية حيث تقوم الزراعة.
 - يقل السكان في: المناطق المرتفعة.
- بم تفسر: يفضل سكان اليمن ولبنان سكنى الجبال؟
بم سبب: اعتدال مناخها.

٣ المناخ

- يتركز السكان في: المناطق ذات المناخ المعتدل والمطر.
- يقل السكان في: المناطق ذات المناخ الحار والجاف.

ثانياً العوامل البشرية

١ الأنشطة الاقتصادية

* تؤثر الأنشطة الاقتصادية في توزيع السكان كالتالي:

النشاط الزراعي	ترتفع الكثافة السكانية في المناطق الزراعية كما في مصر والعراق.
النشاط الصناعي	ترتفع الكثافة السكانية في المدن الصناعية كما في: القاهرة والإسكندرية بمصر.
النشاط التعدين	ترتفع الكثافة السكانية في مناطق التعدين واستخراج مصادر الطاقة بسبب وفرة فرص العمل وارتفاع الأجور.
النشاط الرعوي	تنخفض الكثافة السكانية في المناطق الرعوية كما في الصحاري العربية.



٢ الحروب والصراعات

* من الدول العربية التي تعاني من الحروب سوريا وفلسطين.

دليل: تؤثر الحروب على عدد السكان وكثافتهم؟

كـ حيث: (١) يُقتل أعداد كبيرة من السكان.

(٢) يُجبر السكان على ترك بلادهم.

٣ النقل والمواصلات

دليل: تؤثر وسائل النقل والمواصلات في توزيع السكان؟

كـ حيث: ترتفع الكثافة السكانية في المناطق التي يتوافر بها وسائل النقل والمواصلات

وتمهيد الطرق لأن ذلك يؤدي إلى جذب السكان للإقامة والاستقرار والعمل.

ثالثاً المشكلة السكانية في الوطن العربي

بم تفسر: يعاني الوطن العربي من المشكلة السكانية؟

كـ بسبب: العلاقة غير المتوازنة بين عدد السكان والموارد الاقتصادية المتاحة حيث نجد:

◀ دول عربية لديها زيادة سكانية وقلة الموارد الاقتصادية (دول الفائض السكاني)

بالتالي يرتفع بها معدل البطالة مثل مصر وسوريا.

◀ دول عربية لديها نقص (عجز) سكاني وزيادة في الموارد الاقتصادية

بالتالي يوجد بها عجز في القوى العاملة مثل: دول الخليج العربي (السعودية والكويت).

بعض المقترحات لحل المشكلة السكانية:

(١) نشر الوعي بخطورة الزيادة السكانية في دول الفائض السكاني.

(٢) توفير الموارد المالية لإقامة مشاريع كبرى في دول الفائض السكاني لتوفير فرص عمل.

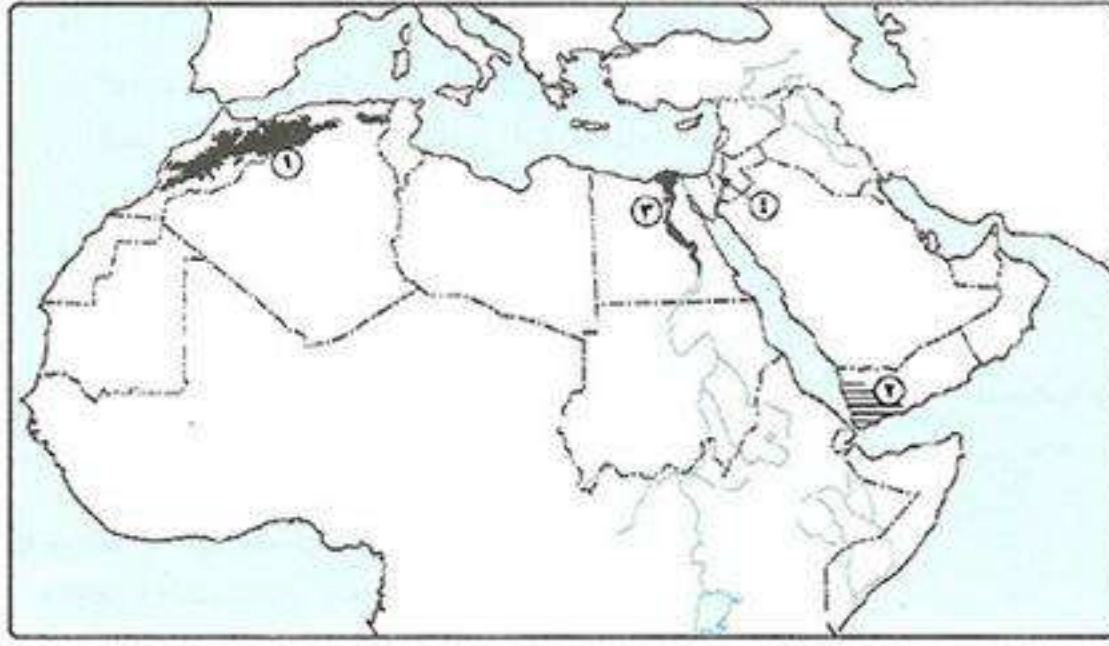
(٣) تشجيع انتقال القوى العاملة من دول الفائض السكاني للعمل في دول العجز السكاني.

المشكلة السكانية

هي خلل في توزيع السكان بالوطن العربي.



أسئلة

**أكتب ما تشير إليه الأرقام الآتية :**

- (١) جبال
- (٢) إقليم مناخي
- (٣) منطقة كثافة سكانية مرتفعة
- (٤) دولة

أختر الإجابة الصحيحة:

- (١) من المناطق منخفضة الكثافة السكانية في الوطن العربي.
 - (٢) سواحل بلاد المغرب العربي من المناطق الكثافة السكانية.
 - (٣) تنخفض الكثافة السكانية في الوطن العربي في مناطق النشاط
 - (٤) من دول الوطن العربي التي بها زيادة سكانية
 - (٥) دول الخليج العربي لديها
- (هضبة الشطوط - شمال ليبيا - إقليم مريوط - جميع ما سبق)
 (مرتفعة - متوسطة - منخفضة - نادرة)
 (الزراعي - الصناعي - الرعوي - التعدين)
 (السعودية - الكويت - مصر - فلسطين)
 (فائض سكاني وعجز في الموارد - فائض في السكان والموارد -
 عجز في السكان وفائض في الموارد - عجز في السكان والموارد)

ما النتائج المترتبة على :

- (١) زيادة عدد السكان بدرجة لا تتناسب مع الموارد الاقتصادية ؟
- (٢) قيام الصراعات والحروب بالنسبة للسكان في الوطن العربي ؟
- (٣) ارتفاع معدل الياد الطبيعية بالوطن العربي ؟

بم تفسر :

- (١) الزيادة الطبيعية للسكان بالوطن العربي ؟
- (٢) ارتفاع معدل الوفيات في الصومال ؟
- (٣) يفضل سكان لبنان سكنى الجبال ؟
- (٤) تركيز السكان في السهول الفيضية ؟

ضع علامة (✓) أو (×) مع التصويب:

- () (١) يبلغ معدل نمو سكان الوطن العربي نحو ٦,٢٪.
- () (٢) يقل السكان في المناطق ذات المناخ الحار والجاف.
- () (٣) يفضل السكان الإقامة في المناطق السهلية الخصبة.
- () (٤) تعد الأردن من أقدم الدول العربية في عمل التعداد السكاني.
- () (٥) ينخفض معدل الوفيات في معظم الدول العربية.
- () (٦) تعتبر العراق من الدول التي يرتفع بها معدل الوفيات.

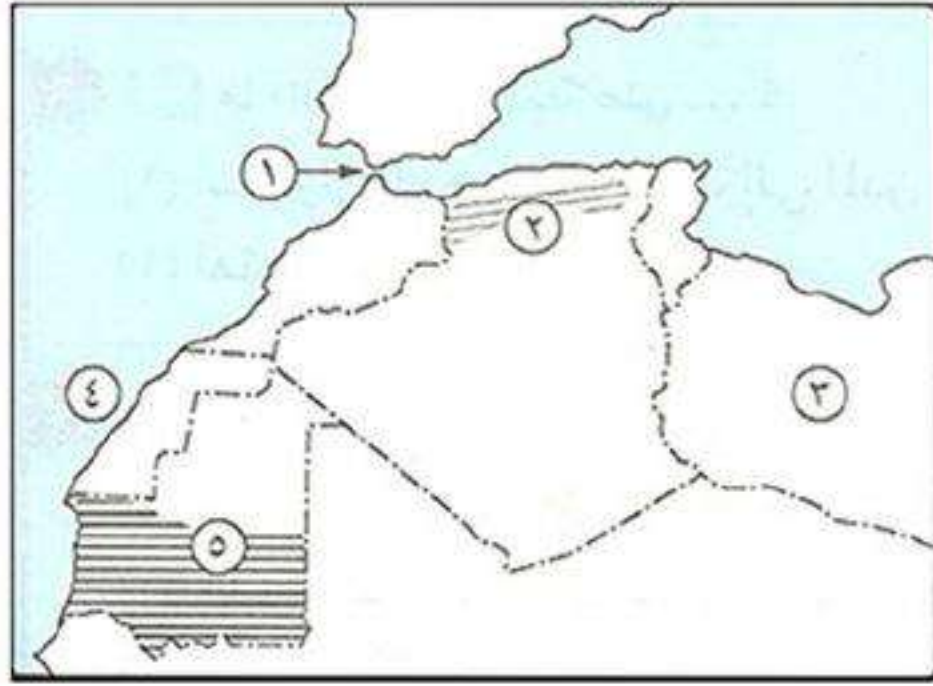
أكتب ما تشير إليه الجمل الآتية:

- (١) زيادة عدد السكان خلال فترة زمنية محددة.
- (٢) انتقال الأفراد من منطقة لأخرى بغرض العمل والإقامة.
- (٣) الزيادة الناتجة عن الفرق بين المواليد والوفيات.

ما العلاقة بين:

- (١) التضاريس وتوزيع السكان في الوطن العربي ؟

اختبار

**أكتب ما تشير إليه الأرقام الآتية :**

- (١) مضيق:
- (٢) هضبة
- (٣) دولة
- (٤) المحيط
- (٥) إقليم مناخي

ما المقصود بالمصطلحات الآتية:

- (١) قبيلة ؟
- (٢) مهاجرون ؟
- (٣) زيادة طبيعية ؟

أكتب ما تشير إليه الجمل الآتية:

- (١) طاف بالرسول ﷺ حول الكعبة وسماه محمد.
- (٢) المكان الذي نزل فيه الوحي على الرسول ﷺ.
- (٣) نحت الماء للصخور ونقلها وإرسالها.
- (٤) أراضي مستوية أو شبه مستوية كونتها الأنهار عن طريق ترسيب المواد العالقة بمياهها على جوانب الأنهار.
- (٥) غزوة أبقى فيها الرسول ﷺ اليهود في مكانهم مقابل أن يحصل على نصف الزرع.
- (٦) ملك الحبشة الذي لا يظلم عنده أحد.

أكمل:

- (١) من الدول العربية المستقبلية للمهاجرين
- (٢) من الأنشطة الاقتصادية الأكثر تأثيراً في توزيع السكان
- (٣) ترتفع الكثافة السكانية بالمدن بمصر مثل و.....
- (٤) يندر وجود السكان في الوطن العربي في منطقة
- (٥) يعيش بعض سكان الوطن العربي فوق الجبال كما في دولتي و.....
- (٦) من أشهر شعراء العرب قبل الإسلام
- (٧) تولى تربية النبي ﷺ بعد وفاة أمه آمنة بنت وهب.
- (٨) كان الرسول ﷺ يتعبد في قبل البعثة.
- (٩) الأركان التي بنيت عليها الدولة الإسلامية في المدينة هي و..... و.....
- (١٠) آخر طائفة من يهود المدينة أخرجها النبي ﷺ من المدينة هي

بم تفسر:

- (١) مبايعة أصحاب الرسول ﷺ له على القتال يوم الحديبية ٦ هـ ؟
- (٢) أهمية سهول الخليج العربي ؟
- (٣) إقامة الرسول ﷺ مسجد في المدينة ؟
- (٤) ارتفاع معدل المواليد في الوطن العربي ؟

ما النتائج المترتبة على: تحكم الوطن العربي في عدة ممرات مائية مهمة ؟

خصائص سكان وطننا العربي

* تتنوع أنماط سكان الوطن العربي بتنوع البيئات وطريقة معيشتهم ونشاطهم الاقتصادي.

١ البدو الرحل «سكان الصحارى»



- يعملون بد: الرعى ويعيشون حياة تنقل وترحال بحثاً عن العشب والماء.
- يمثلون: نسبة قليلة من سكان الوطن العربي.

بم تفسر: سكان الصحارى فى تناقص مستمر؟

- كـ بسبب: (١) تحول أعداد كبيرة منهم للعمل فى التعدين واستخراج البترول.
- (٢) هجرة أعداد منهم للقري والمدن القريبة.
- (٣) قيام الدول العربية بتوطينهم فى قري بهدف تعمير الصحراء.



٢ الريفيون سكان الريف (القري)

- يعملون بد: الزراعة وتربية الحيوانات وما يرتبط بها من أعمال.
- يمثلون: نحو ٤٥٪ من سكان الوطن العربي.

بم تفسر: سكان الريف فى تناقص مستمر؟

كـ بسبب: الهجرة المستمرة من الريف إلى المدن.

* تسعى الدول العربية لتقليل هجرة سكان الريف عن طريق توفير الخدمات وفرص العمل بهدف المحافظة على الأراضي الزراعية.



٣ الحضر سكان المدن

- يعملون بد: الصناعة والتجارة والخدمات كالصحة والتعليم وغيرها.
- يمثلون: نحو ٥٥٪ من سكان الوطن العربي.

بم تفسر: سكان الحضر فى تزايد مستمر؟

- كـ بسبب: (١) الهجرة من الريف إلى المدن.
- (٢) إنشاء المدن البترولية كما فى دول الخليج العربي.
- (٣) إنشاء المدن الصناعية كما فى سوريا ومصر.

ما النتائج المترتبة على: الهجرة من الريف إلى المدن؟

كـ ترتب على ذلك: (١) تناقص سكان الريف وزيادة السكان فى المدن.

(٢) ظهور الأحياء العشوائية حول المدن الكبرى وهى تنشأ بدون تخطيط وتفتقر إلى

المرافق المختلفة وتتدنى بها الخدمات الصحية والاجتماعية وترتفع بها الكثافة

السكانية بدرجة كبيرة وتعتبر من أكبر المشكلات فى المدن الكبرى.

أحياء عشوائية

منطقة تنشأ حول المدن الكبرى أو داخلها دون تخطيط، وتفتقر إلى المرافق والخدمات وترتفع بها الكثافة السكانية.

ثانياً الخصائص الاجتماعية والاقتصادية لسكان وطننا العربي

* يتميز سكان الوطن العربي بعدة خصائص منها:



١ الاهتمام بالتعليم

- زادت نسبة الملتحقين بالتعليم قبل الجامعي في الوطن العربي ووصلت نسبتهم إلى ٦٥,٥٪ نتيجة حرص الحكومات العربية على توفير فرص عادلة لتعليم للجميع (الأسياء وذوى الاحتياجات الخاصة) فأقامت المدارس والجامعات.

٢ تنوع الأنشطة الاقتصادية

- يعمل السكان في الوطن العربي بأنشطة اقتصادية متنوعة مثل (الزراعة - الصناعة - التجارة - التعدين - الرعي).
- تمثل قوة العمل نحو: ٦٣,٥٪ من عدد سكان الوطن العربي إلا أن نسبة الإعاقة مازالت مرتفعة.

بم تفسر: ارتفاع نسبة الإعاقة في الوطن العربي؟

قوة العمل

عدد الأفراد في سن العمل سواء يعملون فعلياً أو يبحثون عن عمل.

- (١) ارتفاع نسبة الأطفال صغار السن نتيجة ارتفاع معدلات الإنجاب.
- (٢) ارتفاع نسبة كبار السن.
- (٣) ارتفاع نسبة من هم في سن التعليم بالنسبة لعدد السكان.
- (٤) ارتفاع نسبة البطالة بين الشباب.

٣ ارتفاع مكانة المرأة

- تتمتع المرأة في المجتمع العربي بمكانة متميزة وقد حصلت على العديد من الحقوق في الفترة الأخيرة مثل:
 - التعليم: زادت نسبة التحاق الإناث بالتعليم الابتدائي إلى ٧٧٪ بعد أن كانت قليلة بسبب العادات والتقاليد الخاطئة التي تمنع الإناث من التعليم.
 - العمل: بدأت نسبة مشاركة المرأة في العمل تزيد بعد أن كانت ضعيفة وأصبح منهن: المعلمة والطبيبة والمهندسة والقاضية وعضو مجلس النواب.

٤ التمسك بالقيم والأخلاق الحميدة

- يجمع سكان الوطن العربي قيم وأخلاق تميزهم عن غيرهم من المجتمعات مثل:
 - القيم الدينية.
 - الترابط الأسرى.
 - العادات والتقاليد الحسنة.
 - المواطنة والتسامح.



تابع جديد زاكروولي على موقعنا
<https://www.zakrooly.com>

أسئلة

أكمل:

- (١) يطلق على سكان الصحارى بينما يطلق على سكان القرى
- (٢) يبلغ نسبة سكان الريف بينما يبلغ نسبة سكان الحضر
- (٣) تقوم الحكومات العربية بتوطين البدو بهدف
- (٤) ازداد عدد سكان المدن في السنوات الأخيرة بسبب إنشاء المدن الصناعية كما في و.....
- (٥) ظهرت المناطق نتيجة الهجرة من الريف إلى المدن.
- (٦) نتيجة اهتمام الحكومات العربية بالتعليم وصلت نسبة المتحقيين بالتعليم ما قبل الجامعى إلى %
- (٧) يطلق على عدد الأفراد الذين في سن العمل ويعملون أو يبحثون عن عمل.

بم نفسير:

- (١) ارتفاع نسبة الإعاالة في الوطن العربى ؟
- (٢) تناقص سكان الصحارى بالوطن العربى ؟
- (٣) زيادة سكان المدن بشكل مستمر ؟

ضع علامة (✓) أو (×) مع التصويب:

- (١) زادت نسبة المتحقيين بالتعليم قبل الجامعى في الوطن العربى ووصلت إلى ٦٥,٥%. ()
- (٢) تبلغ نسبة التحاق الإناث بالتعليم نحو ٨٨%. ()
- (٣) يرتفع مستوى الخدمات الصحية والاجتماعية بالمناطق العشوائية. ()
- (٤) قلت نسبة تعليم الإناث بالوطن العربى. ()
- (٥) يعيش الريفيون حياة تنقل وترحال بحثاً عن الماء والعشب. ()

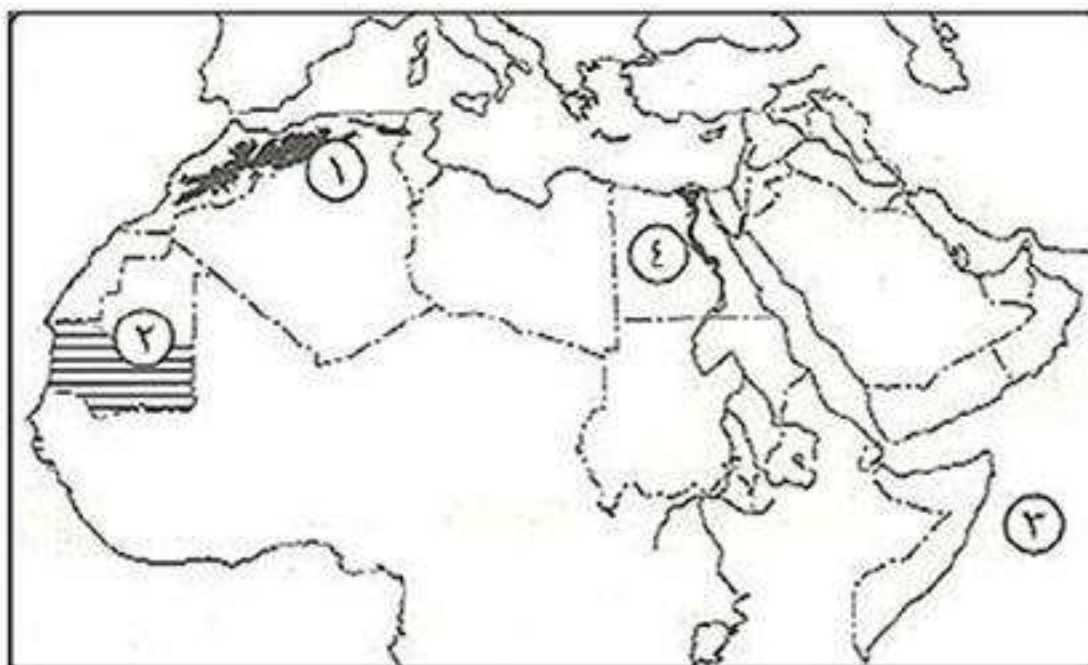
ما النتائج المترتبة على:

- (١) الهجرة من الريف إلى المدن ؟
- (٢) اهتمام الحكومات العربية بالمرأة ؟

دل على صحة العبارات الآتية:

- (١) تشجع الحكومات العربية على تناقص أعداد البدو ؟
- (٢) لسكان الوطن العربى بعض القيم الأخلاقية ؟

اختبار



أكتب ما تشير إليه الأرقام الآتية :

- (١) جبال
- (٢) إقليم مناخ
- (٣) المحيط
- (٤) منطقة تركيز سكانى

ضع علامة (✓) أو (×) مع التصويب:

- () ١) كانت هجرة المسلمين الأوائل إلى اليمن لأن ملكها النجاشي عادل .
 () ٢) أكبر الأقاليم المناخية مساحة في الوطن العربي إقليم البحر المتوسط .
 () ٣) يرتفع معدل الوفيات في الوطن العربي بسبب الرعاية الطبية للأطفال .
 () ٤) يتركز السكان في المناطق السهلية ويقلون في المناطق المرتفعة .
 () ٥) يعد وادي النيل والدلتا من المناطق متوسطة الكثافة السكانية في مصر .

أكمل:

- ١) يندر وجود السكان في الوطن العربي في منطقة
 ٢) يعيش بعض سكان الوطن العربي فوق الجبال كما في دولتي و.....
 ٣) من أشهر شعراء العرب قبل الإسلام
 ٤) تولى تربية النبي ﷺ بعد وفاة أمه آمنة بنت وهب .
 ٥) كان الرسول ﷺ يتعبد في قبل البعثة .
 ٦) الأركان التي بنيت عليها الدولة الإسلامية في المدينة هي و..... و.....
 ٧) آخر طائفة من يهود المدينة أخرجها النبي ﷺ من المدينة هي
 ٨) كانت غزوة ٨هـ درساً للمسلمين بأنهم لن يتصروا بكثرة عددهم وإنما بقوة إيمانهم .

بم تفسر:

- ١) مبايعة أصحاب الرسول ﷺ له على القتال يوم الحديبية ٦هـ ؟
 ٢) أهمية سهول الخليج العربي ؟
 ٣) الزيادة الطبيعية للسكان بالوطن العربي ؟
 ٤) ارتفاع معدل الوفيات في الصومال ؟
 ٥) تغطي الثلوج قمم جبال لبنان ؟
 ٦) من عادات أشرف مكة إرسال أبنائهم ليتربوا في البادية ؟
 ٧) إقامة الرسول ﷺ مسجد في المدينة ؟
 ٨) أهمية معركة نهاوند ٢١هـ ؟

اكتب ما تشير إليه الجمل الآتية:

- ١) ملك أراد هدم الكعبة في العام الذي ولد فيه الرسول ﷺ .
 ٢) ملك الحبشة الذي لا يظلم عنده أحد .
 ٣) أول خطيب في الإسلام .
 ٤) مضيق يصل بين المحيط الهندي والبحر الأحمر .
 ٥) غزوة أبقى فيها الرسول ﷺ اليهود في مكانهم مقابل أن يحصل على نصف الزرع .
 ٦) أسلم في السنة الخامسة من البعثة .
 ٧) نام في فراش النبي ﷺ لخداع المشركين .

ما النتائج المترتبة على:

- ١) تعرض الوطن العربي للاستعمار الأوروبي ؟
 ٢) الزيادة الطبيعية للسكان في الوطن العربي ؟
 ٣) الهجرة من الريف إلى المدن ؟
 ٤) استشهاد عدد كبير من حفظة القرآن الكريم في حروب المرتدين ؟

أحوال شبه الجزيرة العربية قبل ظهور الإسلام

أحوال العالم قبل مجيء النبي محمد ﷺ

* كان العالم قبل مجيء النبي محمد ﷺ يعم فيه الظلم والفساد بين جميع الاجناس في كافة مجالات الحياة وتكثر فيه العبادات البعيدة عن عبادة الله وحده.

* بعض دول العالم التي كانت موجودة قبل مجيء النبي ﷺ:

١) دولة الروم:

- اعترفت بالمسيحية دين رسمي للبلاد.
- احتلت مصر وبلاد الشام.

٢) دولة الفرس:

- كثرت فيها العبادات الوثنية.
- احتلت بلاد اليمن والعراق.

٣) الهند:

- كثرت فيها العبادات فكانوا يقدسون البقر والزواحف وغيرها.

٤) شبه الجزيرة العربية:

- قام على أرضها حضارات قديمة مثل: قوم عاد.
- قوم ثمود.
- ممالك ودول مثل: الحيرة والغساسنة في الشمال.
- معين وسبأ وحمير في الجنوب.
- ظهر بها مدن في الغرب مثل: مكة ويثرب.



تقديس البقر

أحوال شبه الجزيرة العربية قبل ظهور الإسلام

١ الحياة الدينية

- كانت شبه الجزيرة العربية مهداً لكثير من الأنبياء ومنهم: **هود** عليه السلام - **صالح** عليه السلام - **شُعيب** عليه السلام - **إسماعيل** بن إبراهيم عليه السلام.
- * **لذلك** عرف أهل مكة ومن حولها التوحيد والإيمان بالله قبل عبادة الأوثان والأصنام.
- تعددت الديانات والعبادات في شبه الجزيرة العربية حيث ظهر بها:
 - **الحنيفية:** هي عبادة الله وحده لا شريك له على دين **سيدنا إبراهيم** عليه السلام وبقي القليل على الحنيفية بعد انتشار عبادة الأصنام.
 - **عبادة الأصنام:** عرفها الناس مع مرور الوقت واتخذت كل قبيلة صنم.
 - **اليهودية:** هي دين **سيدنا موسى** عليه السلام.
 - **المسيحية:** وهي دين **سيدنا عيسى** عليه السلام.

٢ الحياة السياسية (النظام السياسي)

قبيلة

مجموعة من الناس ينتمون إلى أصل واحد تربطهم رابطة الدم والعصبية والنسب.

- **بم تفسر:** ساد النظام القبلي شبه الجزيرة العربية ؟
- **لأنها:** كانت عبارة عن قبائل متفرقة ولكل قبيلة شيخ يحكمها وقانون يحدد حقوق وواجبات كل فرد في القبيلة.
- * من أشهر القبائل العربية في شبه الجزيرة العربية قبيلة **قريش** في مكة.

٣ الحياة الاقتصادية

مارس أهل شبه الجزيرة العربية عدة أنشطة منها:

- **الرعى:** كانت هي الحرفة السائدة في البادية (الصحراء).
- **الزراعة:** كانت قليلة لندرة الأمطار.
- **الصناعة:** قاموا ببعض الصناعات مثل: صناعة السيوف والرماح.
- **التجارة:** كان لأهل مكة مكانة تجارية متميزة.

■ **بم تفسر:** المكانة التجارية المتميزة لأهل مكة ؟

- **لأنهم قاموا بتنظيم رحلتين:** • رحلة الشتاء: إلى اليمن.
- رحلة الصيف: إلى بلاد الشام.



٤ الحياة الثقافية

- اشتهر العرب بالشعر والخطابة ومن أشهر شعراء العرب: **النابغة الذبياني**.
- **بم تفسر:** لم تكن الأسواق في شبه الجزيرة العربية للتجارة فقط ؟
- **لأنها:** كانت أيضاً ميداناً لتنافس الشعراء والخطباء.
- من أشهر الأسواق في شبه الجزيرة العربية: **سوق عكاظ** - **سوق ذي المجاز**.



٥ الحياة الاجتماعية

- كان المجتمع العربى ينقسم إلى: • بدو: هم سكان الصحراء.
- حضر: هم سكان المدن.
- اتصف العرب قبل الإسلام ببعض الأخلاق ومنها:

عادات سيئة

- وأد البنات (دفن البنات أحياء).
- شرب الخمر.
- لعب الميسر (القمار).
- الأخذ بالثأر.

أخلاق حميدة

- الشجاعة والكرم.
- الصبر.
- حماية الجار.
- العفو عند المقدرة.
- الوفاء بالعهد.

- تمتعت بعض النساء بمكانة عالية فى المجتمع العربى قبل الإسلام مثل: السيدة خديجة رضي الله عنها.
- مارست بعض النساء مهنة الطب مثل: السيدة زينب من بنى أود.

بم تفسر: كان العالم فى حاجة إلى مجيء النبى ﷺ ؟
 لكى: (١) يرشد الناس إلى عبادة الله وحده.
 (٢) ينشر قيم العدل والمساواة والرحمة والتسامح.

أسئلة

أكمل:

- (١) من البلاد العربية التى احتلها الفرس و.....
- (٢) ظهرت ديانات فى شبه الجزيرة العربية مثل و..... واليهودية والمسيحية.
- (٣) من الحضارات القديمة التى قامت فى شبه الجزيرة العربية حضارة قوم وحضارة قوم
- (٤) من ممالك شمال شبه الجزيرة العربية و..... فى الشمال.
- (٥) من أشهر مدن شبه الجزيرة العربية و.....
- (٦) من أشهر شعراء العرب قديماً

أكتب ما تشير إليه الجمل الآتية:

- (١) مجموعة من الناس ينتمون إلى أصل واحد تربطهم رابطة الدم والعصبة والنسب. (.....)
- (٢) دولة قديمة اتخذت المسيحية دين رسمى لها واحتلت مصر وبلاد الشام. (.....)
- (٣) بلاد كانت قبيلة قريش تقوم برحلة تجارية إليها فى فصل الشتاء. (.....)

ضع علامة (✓) أو (×) مع التصويب:

- () (١) كان النظام الملكى هو النظام السياسى السائد فى شبه الجزيرة العربية.
- () (٢) من أشهر أسواق العرب فى شبه الجزيرة العربية سوق عكاظ وسوق الجمعة.
- () (٣) عرف أهل مكة عبادة الأصنام قبل الحنيفية دين سيدنا إبراهيم عليه السلام.

بم تفسر:

- (١) حاجة العالم إلى مجيء النبى محمد ﷺ ؟

اختبار

أكمل:

- ١) يمتد الوطن العربي بين خطى طول و.....
- ٢) يمر في الوطن العربي خط طول رئيسى هو ويمر في دولة
- ٣) من الدول العربية التى تقع خارج نطاق الوطن العربي دولة
- ٤) من الدول التى كانت قبل مجىء الإسلام دولة وقام أهلها بتقديس البقر والزواحف.
- ٥) انقسم المجتمع العربى فى شبه الجزيرة العربية إلى و.....
- ٦) من العادات السيئة عند العرب قبل الإسلام البنات وشرب ولعب والأخذ
- ٧) من ممالك جنوب شبه الجزيرة العربية و..... و.....

بم تفسر:

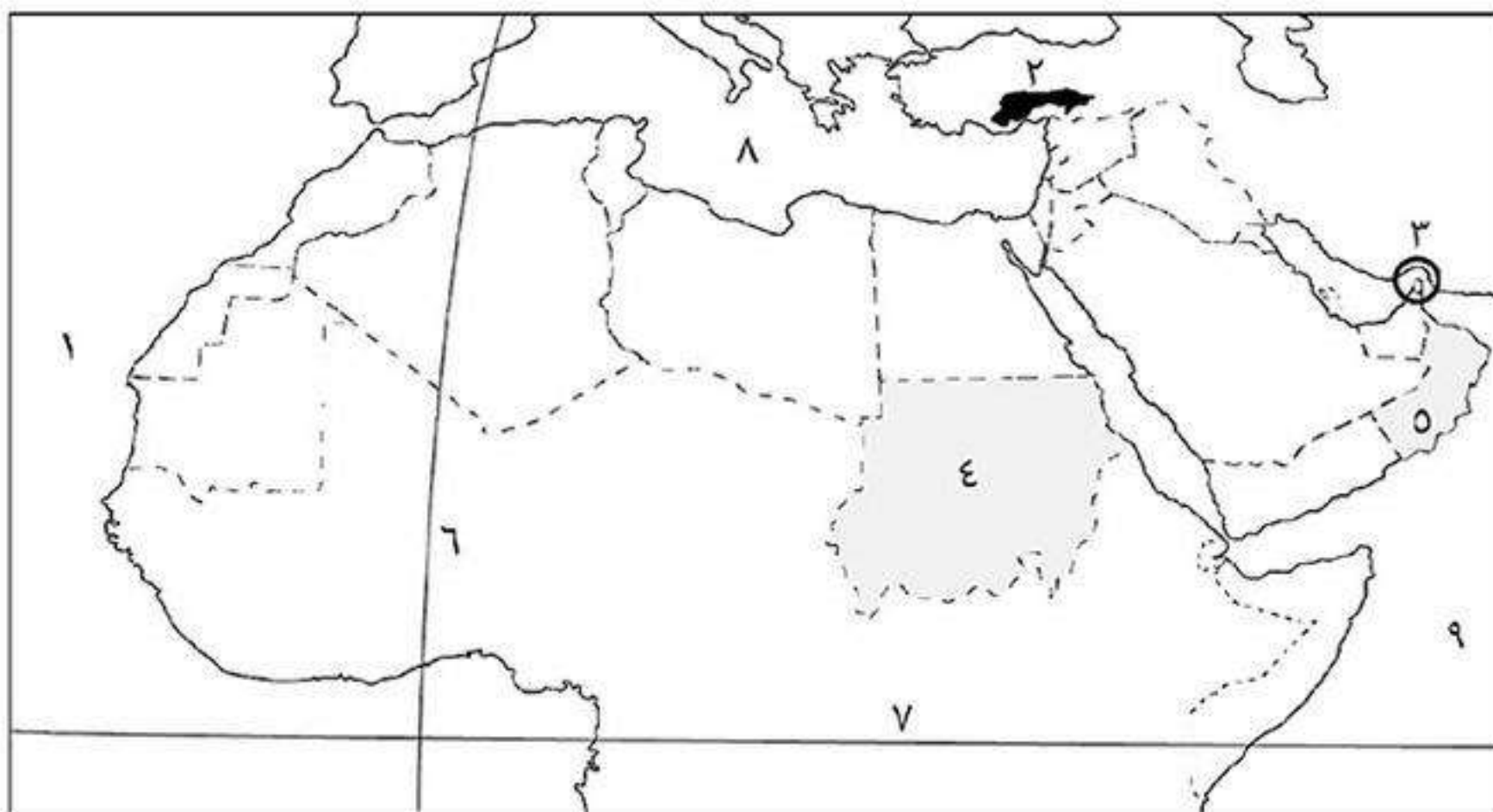
- ١) للوطن العربى أهمية استراتيجية ؟
- ٢) الأهمية الحضارية للوطن العربى ؟
- ٣) سيادة النظام القبلى فى شبه الجزيرة العربية قبل الإسلام ؟
- ٤) لم تكن أسواق العرب للتجارة فقط ؟
- ٥) تمتع أهل مكة بمكانة تجارية متميزة ؟

أكتب ما تشير إليه الجمل الآتية:

- ١) موقع المكان بالنسبة لليابس والماء. (.....)
- ٢) موقع المكان بالنسبة لخطوط الطول ودوائر العرض. (.....)
- ٣) الأهمية وقت الحرب والسلام. (.....)
- ٤) دولة عربية ما زالت محتلة حتى الآن. (.....)
- ٥) مجموعة من الناس يتمون إلى أصل واحد تربطهم رابطة الدم والعصبية والنسب. (.....)

اكتب مدلول الأرقام الآتية:

- ١) المحيط
- ٢) جبال
- ٣) مضيق
- ٤) دولة
- ٥) دولة
- ٦) خط طول
- ٧) دائرة عرض
- ٨) البحر
- ٩) المحيط



قارن بين:

- ١) دولة الفرس ودولة الروم من حيث: (الديانة - الدول التى احتلتها) ؟
- ٢) دول الجناح العربى الإفريقى ودول الجناح العربى الأسيوى من حيث: (العدد - المسطحات المائية التى تطل عليها) ؟

ما النتائج المترتبة على: امتداد حدود الوطن العربى مع ظواهر طبيعية ؟

مولد ونشأة النبي محمد ﷺ

مولد النبي محمد ﷺ

■ ولد النبي محمد ﷺ في مكة يوم الاثنين الموافق الثاني عشر من شهر ربيع الأول عام ٥٧٠م وعرف هذا العام بـ (عام الفيل).



بم تفسر: تسمية عام ٥٧٠م بعام الفيل؟

كـ لأن: في هذا العام حاول أبرهة الحبشي حاكم اليمن هدم الكعبة وجهد جيشاً كبيراً يضم عدد من الأفيال ولكن الله حفظ بيته وأهلك أبرهة وجيشه.

بم تفسر: محاولة أبرهة الحبشي هدم الكعبة؟

كـ لكي: يصرف العرب عن زيارة وتعظيم الكعبة ويتجهوا لزيارة كنيسته التي بناها بأرض اليمن.

■ ولد النبي ﷺ يتيماً: حيث مات أبوه أثناء عودته من رحلة تجارية لبلاد الشام ودفن في يثرب (المدينة المنورة حالياً).

■ فرح بمولد النبي ﷺ جده عبد المطلب وبنى هاشم **لأنه:** كان عطاء لهم من الله وتعويضاً عن فقد أبيه وأخذه جده وطاف به حول الكعبة.

■ سماه جده «محمد» ليكون محموداً في الأرض وفي السماء، وهو اسم لم يكن مألوفاً عند العرب وقتها.

نسب النبي محمد ﷺ

■ كان من أفضل الأنساب حيث:

• أبوه: هو عبدالله بن عبد المطلب بن هاشم بن عبد مناف بن قصي بن كلاب ويمتد نسبه إلى عدنان

من ولد سيدنا إسماعيل بن سيدنا إبراهيم ﷺ.

• أمه: هي أمينة بنت وهب من خيرة قريش.

طفولة النبي محمد ﷺ

■ كان من عادات أشرف قريش يرسلون أبناءهم لمرضعات في البادية (الصحراء).

بم تفسر: إرسال أشرف مكة أبناءهم إلى البادية؟

كـ لأن العيش في البادية يكسبهم: قوة البنيان - رجاحة العقل - فصاحة اللسان.

■ أرسل النبي ﷺ للعيش في البادية عند مرضعة هي حليلة السعدية فأقام النبي ﷺ عندها أربعة أعوام

كانت كلها خير وبركة على بني سعد ثم أعادته إلى أمه.

■ أقام النبي ﷺ مع أمه حتى توفيت وهو في السادسة من عمره.

■ ثم كفله جده عبد المطلب لكنه توفي والنبي ﷺ في الثامنة من عمره فكفله عمه أبو طالب.

حياة النبي محمد ﷺ فيه بيت عمه «أبو طالب»

- عاش النبي ﷺ في بيت عمه أبو طالب وكان أحب إليه من أولاده فأحسن تربيته ورعايته.
- اشتغل النبي ﷺ في طفولته برعى الأغنام ليساعد عمه ويخفف عنه العبء لأنه كان فقيراً كثير الأبناء.
- ما النتائج المترتبة على: اشتغال النبي محمد ﷺ برعى الأغنام؟
- كم ترتب على ذلك: اكتساب النبي ﷺ عدة صفات هي: الشجاعة - الرحمة والعطف - الصبر - التواضع.

شباب النبي محمد ﷺ

- استمر النبي ﷺ يعمل في شبابه برعى الأغنام ثم عمل بحرفة التجارة وخرج في أكثر من رحلة تجارية إلى الشام.
- حفظ الله النبي ﷺ من أي سوء أو انحراف طوال فترة شبابه حيث عُرف عنه: العفة والطهارة ورجاحة العقل والصدق والأمانة فلقبوه بـ (الصادق الأمين).
- زواج النبي ﷺ من السيدة خديجة رضي الله عنها:
 - عندما سمعت السيدة خديجة بمحمد ﷺ أرسلت إليه ليخرج تاجراً يباهيها إلى بلاد الشام مع غلامها (خادمها) ميسرة فوافق النبي ﷺ.
 - بعد عودة النبي ﷺ وميسرة من الرحلة، أخبر ميسرة السيدة خديجة بصفات النبي ﷺ ولمست أمانته في التجارة.
 - ثم تزوج النبي ﷺ السيدة خديجة فكانت خير زوجة لخير شاب.
- أبناء النبي محمد ﷺ من السيدة خديجة:
 - ولدان: عبدالله - القاسم.
 - ٤ بنات: زينب - رقية - أم كلثوم - فاطمة.

النبي محمد ﷺ

أبوه: عبد الله
 جده: عبد المطلب
 مرضعته: حليمة السعديّة
 زوجته: السيدة خديجة
 أبنائه (أولاد): عبد الله - القاسم
 أبنائه (بنات): رقية - زينب - أم كلثوم - فاطمة

أسئلة

أكمل:

- ١) ولد الرسول ﷺ في مدينة يوم من شهر ربيع الأول عام
- ٢) سُمى عام الذي ولد فيه الرسول ﷺ بعام
- ٣) توفت أم النبي ﷺ وهو في سن
- ٤) بعد موت أم النبي ﷺ كفله جده ثم توفي وكفله عمه
- ٥) عمل النبي ﷺ في طفولته بحرفة ثم اشتغل بحرفة في شبابه.
- ٦) خرج النبي ﷺ يتاجر بهال السيدة ومعه غلامها

ضع علامة (✓) أو (×) مع التصويب:

- ١) يمتد نسب الرسول ﷺ إلى سيدنا إسماعيل. ()
- ٢) بعد مولد الرسول ﷺ توفي والده عبدالله. ()
- ٣) مكث الرسول ﷺ عند حليلة السعدية ثلاثة أعوام. ()
- ٤) بدأ النبي ﷺ بممارسة حرفة التجارة ثم عمل بالرعى. ()
- ٥) عرف الرسول ﷺ في شبابه بالصادق الأمين. ()

بم تفسر:

- ١) تسمية عام الفيل بهذا الاسم؟
- ٢) رغبة أبرهة الحبشي في هدم الكعبة المشرفة؟
- ٣) إرسال النبي ﷺ للعيش في البادية مع حليلة السعدية؟

أكتب ما تشير إليه الجمل الآتية:

- ١) خرج بجيشه وحاول هدم الكعبة عام ٥٧٠م. (.....)
- ٢) طاف بالرسول ﷺ حول الكعبة وسماه محمد. (.....)
- ٣) المرضعة التي أقام النبي ﷺ عندها أربعة أعوام. (.....)
- ٤) تولى تربية النبي ﷺ بعد موت جده عبد المطلب. (.....)
- ٥) حرفة عمل بها النبي ﷺ أكسبته صفات كالرحمة والعطف والصبر والشجاعة. (.....)
- ٦) خرج مع النبي ﷺ في رحلة للشام ليتاجر بهال السيدة خديجة. (.....)

أختر الإجابة الصحيحة مما بين القوسين:

- ١) اكتسب النبي ﷺ عدة صفات من عمله بحرفة. (التجارة - النجارة - الرعى)
- ٢) أبو النبي ﷺ هو. (عبد المطلب - أبو طالب - عبدالله)
- ٣) توفي جد النبي ﷺ وهو في سن. (السادسة - الثامنة - الثانية عشر)
- ٤) أرسلت السيدة خديجة إلى النبي ﷺ ليتاجر بهاها مع غلامها. (أبرهة - ميسرة - بحيرا)
- ٥) دفن أبو النبي ﷺ في مدينة. (الشام - مكة - يثرب)
- ٦) ولد النبي ﷺ في مدينة (يثرب - المدينة - الشام - مكة)

ما النتائج المترتبة على:

- ١) عمل النبي ﷺ بحرفة الرعى؟
- ٢) شهرة النبي ﷺ بـ (الصادق الأمين)؟

اختبار

حدد أوجه الشبه والاختلاف بين: (جبال الشام – جبال البحر الأحمر) ؟

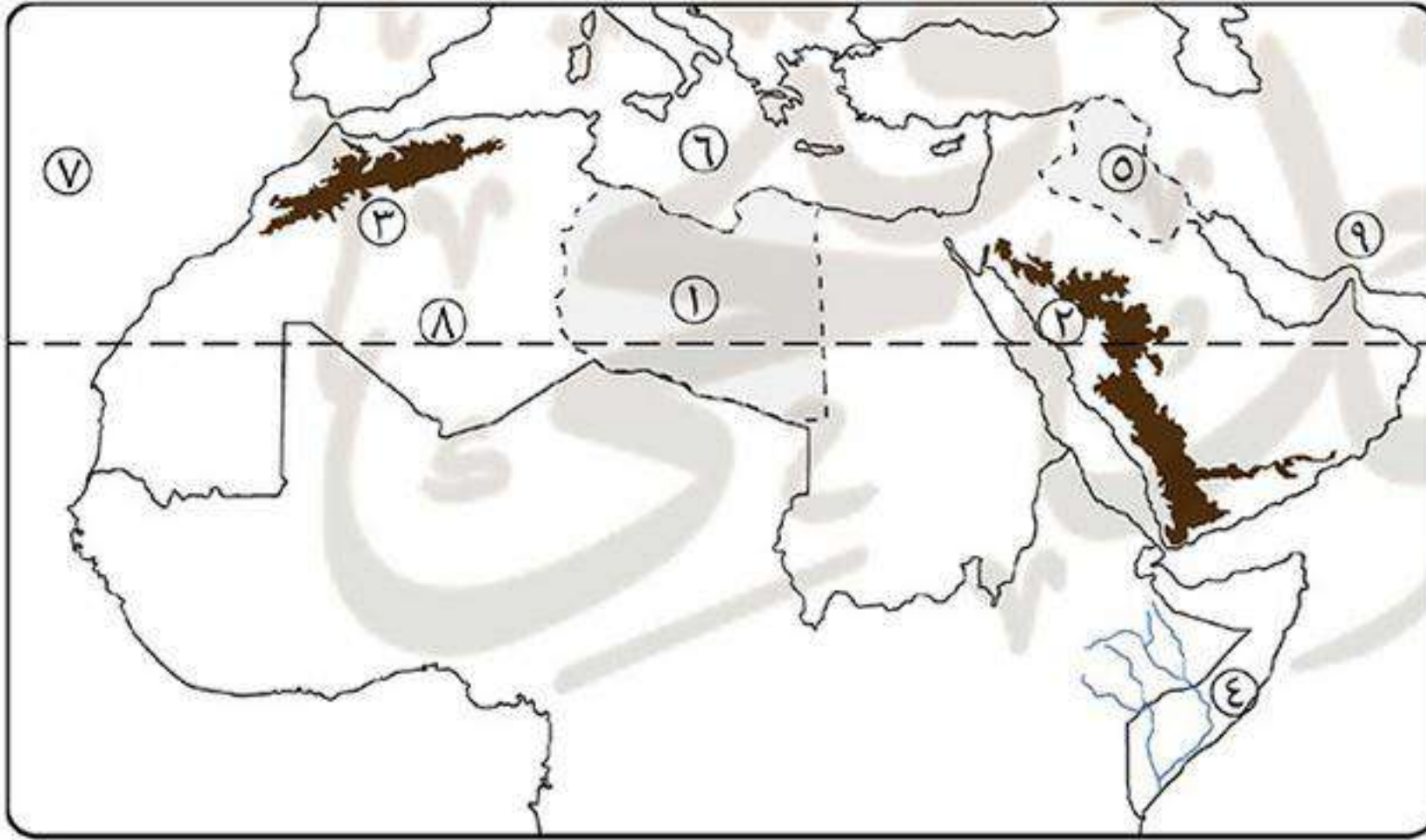
بم تفسر:

- (١) تقسيم الوطن العربي إلى دول مختلفة المساحة ؟
- (٢) أهمية الأودية الجافة ؟
- (٣) أهمية أسواق العرب قديماً ؟

أكتب ما تشير إليه الجمل الآتية:

- (١) موقع المكان بالنسبة لليابس والماء.
- (٢) موقع المكان بالنسبة لخطوط الطول ودوائر العرض.
- (٣) الأهمية وقت الحرب والسلام.
- (٤) دولة عربية ما زالت محتلة حتى الآن.
- (٥) مجموعة من الناس يتمون إلى أصل واحد تربطهم رابطة الدم والعصية والنسب. (.....)

اكتب مدلول الأرقام الآتية:



- (١) دولة
- (٢) جبال
- (٣) جبال
- (٤) نهر
- (٥) دولة
- (٦) البحر
- (٧) المحيط
- (٨) دائرة عرض
- (٩) مضيق

ما المقصود بالمصطلحات الآتية:

- (١) حنيفة ؟
- (٢) حركات انكسارية؟
- (٣) قبيلة ؟
- (٤) أهمية استراتيجية ؟

ما النتائج المترتبة على:

- (١) تعرض الوطن العربي للاستعمار الأوروبي ؟

اختر الإجابة الصحيحة:

- (١) توجد هضبة بادية الشام في شبه الجزيرة العربية.
 - (٢) تعد سهول من السهول الساحلية الصالحة للزراعة.
 - (٣) تشرف دولة إيران وعمان على مضيق
 - (٤) احتلت دولة العراق واليمن قبل الإسلام.
 - (٥) أكبر هضاب الوطن العربي هضبة
- (جنوب – شمال – وسط – غرب)
- (البحر الأحمر – الخليج العربي – البحر المتوسط – المحيط الأطلنطي)
- (باب المنذب – جبل طارق – هرمز – قناة السويس)
- (الروم – الفرس – الهند – مصر)
- (نجد – بادية الشام – أفريقيا الشمالية – حضرموت)

بعثة النبي محمد ﷺ

* لقد عاش النبي ﷺ طفولته وشبابه في رعاية ربه فقد حفظه من كل سوء أو انحراف ليعده لحمل رسالة الإسلام.
- كان النبي ﷺ يخرج إلى غار حراء ليتعبد فيه وكان يمكث فيه أياماً بعيداً عن الناس يتأمل في خلق الله حتى نزل عليه الوحي وهو في سن الأربعين من عمره.

أولاً نزول الوحي

الوحي

هو ما ينزله الله على الأنبياء عن طريق سيدنا جبريل ﷺ.

■ نزل جبريل ﷺ على النبي ﷺ في إحدى ليالي شهر رمضان وهو يتعبد في غار حراء.

■ عاد النبي ﷺ إلى بيته وأخبر زوجته السيدة خديجة فطمأنته وقالت له:

«والله لا يخزيك الله أبداً»، وذكرته ببعض خصاله الحميدة مثل إنه:

- يصل الرحم. - يحمل الكل.

- يكسب المعدوم. - يعين على نواب الحق.

■ ثم أخذت السيدة خديجة النبي ﷺ إلى ابن عمها ورقة بن نوفل الذي كان على دين سيدنا إبراهيم ﷺ وعالماً بالإنجيل،

فطمأن النبي ﷺ وأخبره أن هذا هو الناموس (الوحي) الذي نزل على سيدنا موسى ﷺ وأنه سيكون نبي هذه الأمة.

■ نزل سيدنا جبريل ﷺ مرة أخرى على النبي ﷺ وأخبره إنه رسول الله وكلفه بحمل رسالة الإسلام إلى الناس.

ومن هنا بدأ الرسول ﷺ الدعوة إلى عبادة الله.

ثانياً مراحل دعوة النبي ﷺ

عالمية الدعوة

مواجهة المعتدين على الدعوة

المرحلة الجهرية

الدعوة السرية

المرحلة الأولى سرية الدعوة

■ استغرقت ثلاث سنوات حيث بدأت من البعثة وحتى السنة الثالثة للبعثة.

■ دعا فيها الرسول ﷺ أهل بيته والمقربين منه فكان أول من أسلم:

• من النساء: زوجته السيدة خديجة.

• من الرجال: صديقه أبو بكر الصديق.

• من الصبية: ابن عمه علي بن أبي طالب (كان عمره ١٠ سنوات).

• من الموالى: مولاة (خادمه) زيد بن حارثة.

■ عندما زاد عدد المسلمين إلى أكثر من ٣٠ اختار لهم الرسول ﷺ دار الأرقم بن أبي الأرقم ليتعلموا فيها مبادئ

الدين الإسلامي فأصبحت أول مدرسة في الإسلام.

المرحلة الثانية الدعوة الجهرية (العلنية)

- بعد انتهاء ٣ سنوات من دعوة الرسول ﷺ للإسلام سرّاً جاء أمر الله له بأن يعلن بما جاءه من الحق.
- صعد الرسول ﷺ جبل الصفا ونادى على الناس فاجتمعوا إليه، وبدأ يدعوهم إلى عبادة الله وحده وترك عبادة الأصنام.

ومنذ ذلك اليوم بدأت مرحلة المحنة والابتلاء للرسول ﷺ وأصحابه.

موقف قريش من الدعوة الإسلامية

* رفضت قريش دعوة النبي ﷺ وحاربتة منذ اللحظة الأولى.

بم تفسر: رفضت قريش دعوة الرسول ﷺ وحاربتة منذ اللحظة الأولى ؟
 كـ لأنها: (١) ظنت أن الدعوة تهدد مصالحها ومكانتها بين القبائل.
 (٢) أن الدعوة الإسلامية تخالف دين آبائهم وأجدادهم.

ما النتائج المترتبة على: رفض قريش لدعوة الرسول ﷺ ؟
 كـ ترتب على ذلك: (١) قامت قريش بإيذاء النبي ﷺ واتهامه بالسحر والجنون والكذب.
 (٢) قامت قريش بتعذيب أصحاب الرسول ﷺ بأشد أنواع العذاب ولكنهم صبروا وثبتوا على دينهم.

* عندما فشلت قريش في رد الرسول ﷺ وأصحابه عن دينهم قامت بـ:

- (١) عرضت الأموال والزعامة على الرسول ﷺ ولكنه رفض.
- (٢) حاصرت وقاطعت المسلمين وكل من وقف بجوارهم من بنى هاشم وبنى المطلب، واستمر الحصار والمقاطعة ثلاث سنوات ولكن ذلك فشل في رد المسلمين عن دينهم.

الهجرة إلى الحبشة

بم تفسر: هجرة أصحاب الرسول ﷺ إلى الحبشة ؟
 كـ بسبب: اشتداد إيذاء قريش للنبي ﷺ وأصحابه، فأمرهم النبي ﷺ بالهجرة إلى الحبشة لأن ملكها النجاشي لا يظلم عنده أحد وهي أرض صدق فهاجر بعض المسلمين إليها.

رحلة الطائف

بم تفسر: رحلة الرسول ﷺ إلى الطائف ؟
 كـ بسبب: (١) رغبة الرسول ﷺ في البحث عن مكان آخر للدعوة غير مكة بعد أن فقد عمه أبو طالب والسيدة خديجة اللذين كانا عوناً له على قومه.
 (٢) التماس الرسول ﷺ النصر من قبيلة ثقيف بالطائف.

* موقف أهل الطائف من دعوة الرسول ﷺ: رفض أهل الطائف دعوة الرسول ﷺ وأمروا بإيذائه فانطلق النبي ﷺ عائداً إلى مكة.

لاحظ!

لم تدرك قريش: أن الإسلام سيكون سبب في عزتها ورفع مكانتها بين العالم من حولها.

لاحظ!

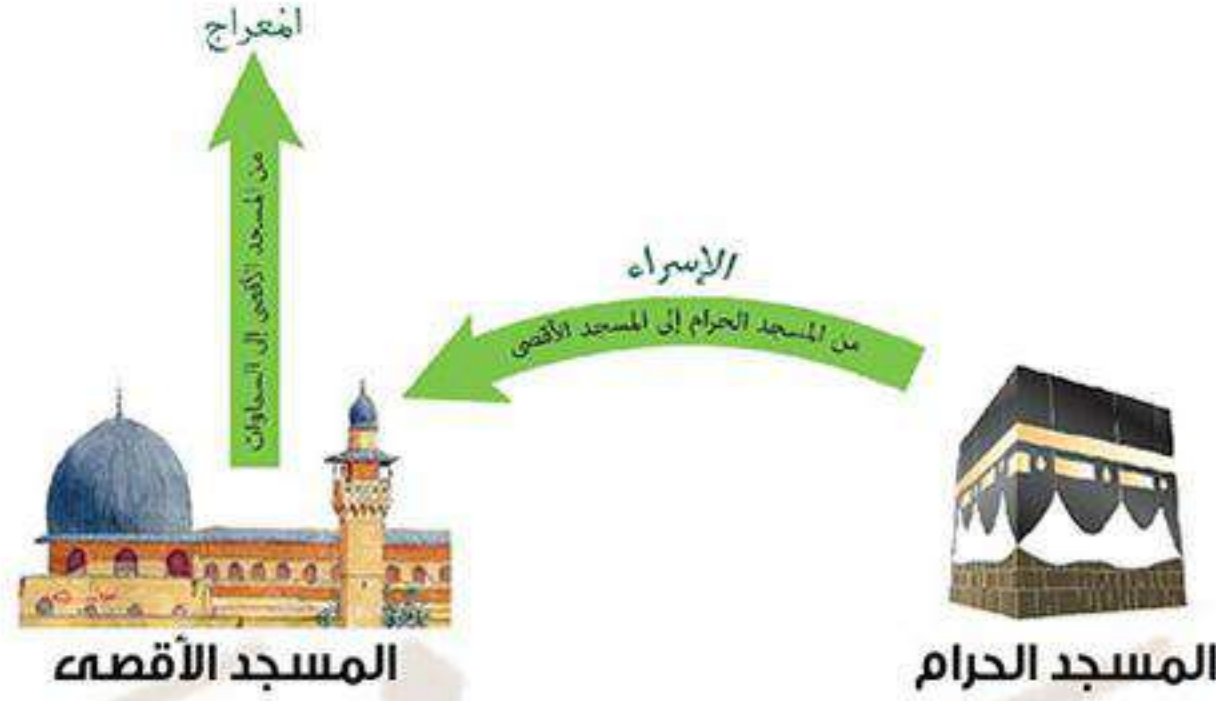
توفى أبو طالب عم النبي ﷺ والسيدة خديجة زوجة النبي ﷺ في عام واحد ومن شدة حزن النبي ﷺ عليهما سُمي هذا العام بعام الحزن.

رحلة الإسراء والمعراج

- أراد الله أن يخفف عن النبي ﷺ بعد فقد عمه وزوجته ورفض أهل الطائف لدعوته فأرسل إليه جبريل ﷺ ليصطحبه في رحلة كانت معجزة **حيث**: أسرى بالرسول ﷺ ليلاً من المسجد الحرام (بمكة) إلى المسجد الأقصى (بيت المقدس).
- ثم عاد النبي ﷺ وأخبر قريش بما حدث فكذبوه ولكن صدقه أبو بكر وقال: «إن قال ذلك فقد صدق».

بم تفسر: تسمية أبو بكر الصديق بهذا الاسم؟

لأنه: صدق النبي ﷺ حين كذبه قريش عندما أخبرهم برحلة الإسراء والمعراج.



أسئلة

أكمل:

- (١) نزل الوحي على النبي ﷺ وهو في في إحدى ليالي شهر
- (٢) أخبر النبي ﷺ إنه سيكون نبي هذه الأمة.
- (٣) استغرقت الدعوة السرية للنبي ﷺ سنوات.
- (٤) كان أول من أسلم من النساء ومن الصبية ومن الموالى
- (٥) أمر النبي ﷺ أصحابه بالهجرة إلى لأن ملكها لا يظلم عنده أحد.
- (٦) عندما وصل عدد المسلمين أكثر من ٣٠ اختار لهم النبي ﷺ دار لتكون أول مدرسة في الإسلام.
- (٧) خرج النبي ﷺ إلى الطائف ليلتمس نصرة قبيلة
- (٨) أسرى الله بالنبي ﷺ ليخفف عنه بعد وفاة و.....

ضع علامة (✓) أو (×) مع التصويب:

- () ١- وافق أهل الطائف على دعوة الرسول ﷺ.
- () ٢- أسرى بالنبي ﷺ من المسجد الأقصى إلى المسجد الحرام.
- () ٣- سُمى أبو بكر بالصديق لأنه صدق النبي ﷺ لما ذكر رحلة الإسراء والمعراج.
- () ٤- أول مدرسة في الإسلام هي غار حراء.
- () ٥- سُمى عام الحزن بهذا الاسم لحزن النبي ﷺ على وفاة جده وزوجته.

بم تفسر:

- (١) اختيار النبي ﷺ الحبيشة ليهاجر إليها المسلمون؟
- (٢) رفض قريش لدعوة النبي ﷺ؟
- (٣) رحلة النبي ﷺ إلى الطائف؟

ما النتائج المترتبة على:

- (١) وفاة السيدة خديجة وعم الرسول ﷺ؟
- (٢) رفض قريش لدعوة النبي ﷺ؟
- (٣) اشتداد إيذاء قريش للمسلمين في مكة؟

أكتب ما تشير إليه الجمل الآتية:

- (١) مرحلة من مراحل دعوة الرسول ﷺ بدأت بعد انتهاء مرحلة الدعوة السرية. (.....)
- (٢) سير النبي ﷺ ليلاً من المسجد الحرام إلى المسجد الأقصى. (.....)
- (٣) صعود النبي ﷺ من المسجد الأقصى إلى السموات. (.....)

اختبار**أكمل:**

- (١) يمتد الوطن العربي في قارتي و ويفصل بينهما
- (٢) يشرف على مضيق باب المندب دولتي و
- (٣) تنحصر هضبة الشطوط بين سلسلتي جبال و
- (٤) أشار الرسول ﷺ على المسلمين الأوائل بالهجرة إلى
- (٥) من النساء التي عملت بمهنة الطب في المجتمع العربي قديماً السيدة من بني

بم تفسر:

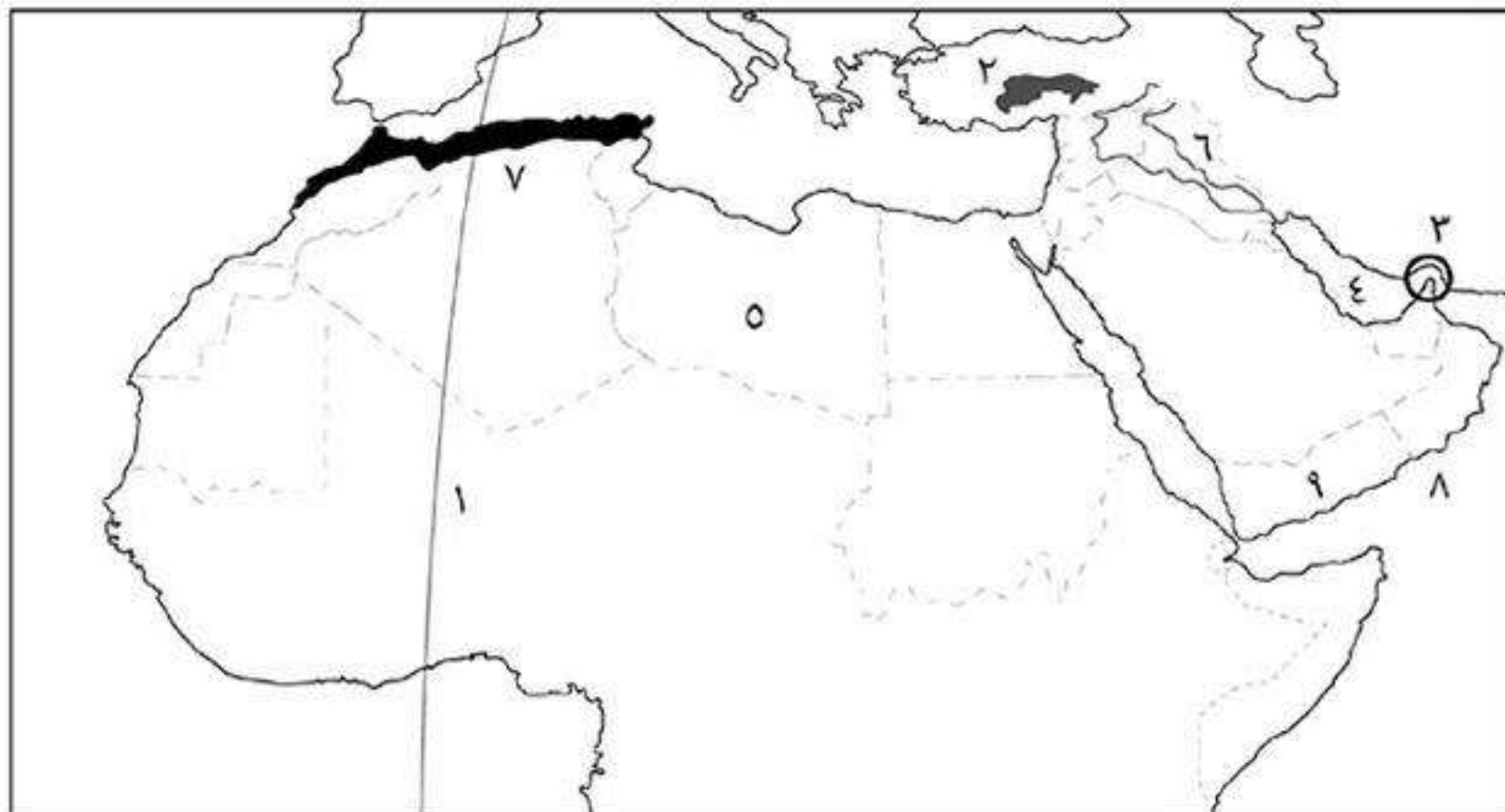
- (١) تقسيم الوطن العربي إلى دول مختلفة المساحة؟
- (٢) أهمية سهول البحر الأحمر والخليج العربي؟
- (٣) شهرة أسواق العرب قديماً؟
- (٤) حرص السيدة خديجة على الزواج من النبي ﷺ؟

أكتب ما تشير إليه الجمل الآتية:

- (١) الأهمية وقت الحرب والأزمات ووقت السلم. (.....)
- (٢) العام الذي حاول فيه أبرهة الحبشي هدم الكعبة. (.....)
- (٣) أرض منخفضة في الصحراء يعيش بها السكان. (.....)
- (٤) ما ينزله الله على الأنبياء بواسطة سيدنا جبريل عليه السلام. (.....)

اكتب مدلول الأرقام الآتية:

- (١) خط طول
- (٢) جبال
- (٣) مضيق
- (٤) الخليج
- (٥) دولة
- (٦) نهرى
- (٧) إقليم مناخى
- (٨) البحر
- (٩) دولة



هجرة النبي ﷺ وبناء الدولة

* بعد رفض قريش دعوة الرسول ﷺ للإسلام ورفض أهل الطائف دعوته، بدأ النبي ﷺ يفكر في أسلوب آخر للدعوة وهو أن يعرض نفسه على الوفود والقبائل التي تأتي للحج.

بم تفسر: قيام الرسول ﷺ بعرض نفسه على القبائل والوفود التي تأتي للحج؟
لكي: يدعوهم إلى الإسلام ويطلب منهم النصرة والمساعدة في تبليغ رسالة الله.

تمهيد الرسول ﷺ للهجرة إلى يثرب

- في موسم الحج في العام الحادي عشر للبعثة التقى الرسول ﷺ بستة رجال من أهل يثرب ودعاهم للإسلام فاستجابوا له بعد أن تيقنوا أنه النبي الذي حدثهم عنه اليهود، ثم عاد الرجال إلى يثرب يدعون قومهم للإسلام.
- في موسمي الحج التاليين حدث: **بيعتا العقبة الأولى والثانية.**

بيعة العقبة الثانية	بيعة العقبة الأولى	
السنة الثالثة عشر للبعثة.	السنة الثانية عشر للبعثة.	تاريخها
التقى الرسول ﷺ سراً بوفد من أهل يثرب عددهم ثلاثة وسبعين رجلاً وامرأتين وبايعوه.	التقى الرسول ﷺ بوفد من أهل يثرب وكان عددهم اثني عشر رجلاً وبايعوه (١٠ من قبيلة الخزرج و٢ من قبيلة الأوس).	أحداثها
أن يحموه وينصروه إن هاجر إليهم فبايعهم الرسول ﷺ.	- ألا يشركوا بالله. - ألا يسرقون ولا يزنون ولا يقتلون أولادهم. - ألا يعصونه في معروف.	شروطها
أصبحت يثرب مهينة لهجرة النبي ﷺ وأصحابه.	أرسل الرسول ﷺ معهم مصعب بن عمير ليعلمهم أمور دينهم فكان أول سفير في الإسلام.	نتائجها

الهجرة إلى يثرب

- أمر الرسول ﷺ أصحابه بالهجرة إلى يثرب (المدينة) فخرج الكثير من المسلمين قاصدين يثرب فارين بدينهم وتاركين وراءهم أموالهم وديارهم.

مؤامرة قريش ضد الرسول ﷺ

- أدركت قريش خطورة تجمع المسلمين في يثرب، فسعت لمنع الرسول ﷺ من الهجرة واللحاق بالمسلمين في يثرب.
- اجتمع زعماء قريش في دار الندوة وقرروا أن يأخذوا من كل قبيلة شاباً قوياً ليضربوا النبي ﷺ ضربة رجل واحد بسيفهم أثناء خروجه من بيته فيتفرق دمه بين القبائل، لكن الله كشف للنبي ﷺ تلك المؤامرة.



خطة الرسول ﷺ للهجرة إلى يثرب

- (١) أخبر الرسول ﷺ أبا بكر بصحبته في الهجرة وطلب منه إعداد راكبتين (ناقتين) للسفر.
- (٢) استأجر دليلاً أميناً وهو عبدالله بن أريقط ليدلها على الطريق ولم يكن قد أسلم بعد.
- (٣) كلف علي بن أبي طالب برد الأمانات إلى أصحابها، وتركه في فراشه فانخدع المشركون، وخرج النبي ﷺ من بيته ليلاً من أمام المشركين فلم يره أحد منهم.
- (٤) أختبأ النبي ﷺ وصاحبه أبو بكر الصديق في غار ثور جنوب مكة ثلاث ليال وكلف النبي ﷺ كلاً من:
 - عبد الله بن أبي بكر: بتتبع أخبار قريش.
 - أسماء بنت أبي بكر: بإحضار الطعام لهما.
 - عامر بن فهيرة: يقوم برعى الأغنام حول غار ثور ليخفي آثارهما.

عندما وصل المشركون إلى غار ثور فحفظ الله بعنايته الرسول ﷺ وصاحبه أبو بكر ﷺ فلم يستطع المشركون رؤيتهما.

- (٥) أتى إليهما الدليل عبدالله بن أريقط وسار بهما في طريق غير طريق القوافل حتى وصلوا يثرب فاستقبل أهلها الرسول ﷺ بالترحاب.

بم تفسر: نجاح خطة النبي ﷺ في الهجرة إلى يثرب؟

- ١) توفيق الله وعنايته بالرسول ﷺ.
- ٢) السرية التامة.
- ٣) التخطيط الجيد للأمر.
- ٤) اختيار القادرين على تنفيذ التخطيط.

دولة الرسول ﷺ في المدينة وأسس قيامها

* بدخول النبي ﷺ يثرب (المدينة النبوية) أصبح للمسلمين مكان آمن يبارسون فيه شعائر دينهم دون خوف وقام الرسول ﷺ يؤسس لبناء دولة الإسلام والتي قامت على عدة أركان (أسس):



المسجد النبوي

الركن الأول بناء المسجد

قام النبي ﷺ ببناء مسجد وشارك النبي ﷺ أصحابه في بناء المسجد.

بم تفسر: بناء الرسول ﷺ مسجداً في المدينة؟

- ١) دار للعبادة.
- ٢) مقراً للحكم.
- ٣) مدرسة لتعليم مبادئ الدين الإسلامي.

الأنصار

هم أهل يثرب الذين بايعوا الرسول ﷺ وأوووه ونصروه بأموالهم وأنفسهم.

مهاجرين

هم أهل مكة الذين خرجوا من ديارهم إلى المدينة لنشر الدعوة الإسلامية.

الركن الثاني المؤاخاة بين المهاجرين والأنصار

بم تفسر: مؤاخاة النبي ﷺ بين المهاجرين والأنصار؟

لكي يسود الحب والإخاء والتعاون بين المسلمين.

* كان الأنصار يتسابقون في إثارة (تفضيل) المهاجرين عليهم في بيوتهم وأموالهم.

الركن الثالث وضع مبادئ التعايش مع الآخر

بم تفسر: إصدار الرسول ﷺ صحيفة المدينة؟

لأن: الرسول ﷺ أراد أن يضع نظام يحدد حقوق وواجبات وعلاقة كل من يقيم في المدينة من مسلمين وغير مسلمين فكتب صحيفة المدينة (دستور المدينة) يتضمن بنود خاصة باليهود لأنهم أخطر فئة في المدينة وأراد الرسول ﷺ أن يأمن جانبهم فوضع نصوصاً أمنهم فيها على: • دينهم (حرية العقيدة أى عدم إجبار أحد على اعتناق الإسلام). • أموالهم. • دور عبادتهم.

* بشرط أن يتعاون اليهود مع المسلمين في حماية المدينة من أى عدوان.

صحيفة المدينة

كتاب كتبه الرسول ﷺ بين المسلمين وغير المسلمين خاصة اليهود الموجودين في المدينة وأمنهم فيها على دينهم وأموالهم ودور عبادتهم.

هكذا قامت أول دولة إسلامية في المدينة بقيادة النبي ﷺ.

أسئلة

أكمل:

- ١) التقى الرسول ﷺ في العام الحادى عشر من البعثة بوفد من يثرب عددهم رجلاً.
- ٢) في العام الثانى عشر من البعثة التقى الرسول ﷺ بوفد من يثرب عددهم رجلاً.
- ٣) في العام الثالث عشر للبعثة التقى الرسول ﷺ بوفد من يثرب مكون من رجلاً و
- ٤) أول سفير للإسلام هو
- ٥) قررت قريش منع الرسول ﷺ من الهجرة إلى يثرب فاجتمعوا في ليضعوا خطة للقضاء على النبي ﷺ.
- ٦) قبل هجرة النبي ﷺ إلى يثرب استأجر دليلاً أميناً ليدهم على الطريق هو
- ٧) كلف الرسول ﷺ بإحضار الطعام له وهو في غار ثور.
- ٨) كانت بيعة العقبة الأولى في السنة من البعثة والتقى فيها الرسول ﷺ بوفد من أهل يثرب عددهم رجل.
- ٩) أمر الرسول ﷺ بأن يقوم برعى الأغنام حول غار ثور ليخفى آثارهما.
- ١٠) ترك الرسول ﷺ في فراشه عند هجرته ليخدع كفار قريش.
- ١١) أول عمل قام به الرسول ﷺ في المدينة هو بناء
- ١٢) الأركان التى بنى الرسول ﷺ عليها دولته هى بناء المسجد و..... وإصدار.....
- ١٣) كان في المدينة هم أخطر فئة على المسلمين.
- ١٤) تأسست أول دولة إسلامية في بقيادة

بم تفسر:

- ١) نجاح خطة الرسول ﷺ في الهجرة إلى يثرب؟
- ٢) كان المسجد هو أهم الأركان لبناء الدولة الإسلامية؟
- ٣) قيام الرسول ﷺ بوضع صحيفة المدينة؟
- ٤) تدبير قريش مؤامرة لمنع هجرة النبي ﷺ؟

ضع علامة (✓) أو (×) مع التصويب:

- () ١) مهد الرسول ﷺ للهجرة إلى يثرب ببيعة العقبة الأولى.
 () ٢) اجتمع زعماء قريش في دار الأرقم بن أبي الأرقم ليدبروا مؤامرة للقضاء على النبي ﷺ.
 () ٣) أعلن الرسول ﷺ قيام أول دولة إسلامية في مكة.
 () ٤) اقتصر دور المسجد في الإسلام على العبادة فقط.

أكتب ما تشير إليه الجمل الآتية:

- () ١) كلفها الرسول ﷺ بإحضار الطعام له ولصاحبه أبو بكر حينما كانوا في غار ثور.
 () ٢) كلفه النبي ﷺ بتتبع أخبار قريش ونقلها إليه.
 () ٣) مقابلة الرسول ﷺ لثلاثة وسبعين رجلاً وامرأتين من أهل يثرب وبايعوه على نصرته وحمايته.
 () ٤) كتاب كتبه الرسول ﷺ لينظم حقوق وواجبات كل فرد في المدينة مسلم وغير مسلم.
 () ٥) أهل يثرب الذين بايعوا الرسول ﷺ وأووه ونصروه بأموالهم وأنفسهم.

ما النتائج المترتبة على:

- ١) هجرة المسلمين إلى يثرب؟

اختبار**أكمل:**

- ١) من الممرات المائية في الوطن العربي التي تخضع لأشراف عربي تام و.....
 ٢) تقع هضبة نجد في الجزيرة العربية بينما تقع هضبة حصرموت في الجزيرة العربية.
 ٣) من السهول الفيضية في الصومال سهول نهري و.....
 ٤) أكبر هضاب الوطن العربي هضبة
 ٥) توفي جد الرسول ﷺ وهو في العام من عمره.
 ٦) يحدها الوطن العربي من جهة الجنوب و.....

بم تفسر:

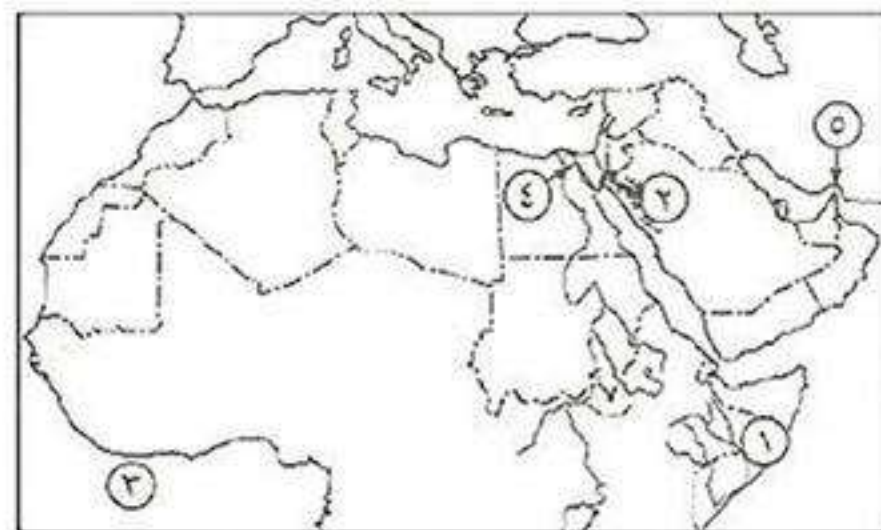
- ١) سيادة النظام القبلي في شبه الجزيرة العربية قديماً؟
 ٢) إرسال الرسول ﷺ مصعب بن عمير إلى يثرب؟
 ٣) إرسال أشراف مكة أبنائهم للبادية؟

أكتب ما تشير إليه الجمل الآتية:

- () ١) عوامل باطنية شكلت سطح الأرض وأدت إلى تكون السلاسل الجبلية.
 () ٢) أراضي منخفضة ومستوية السطح تكونت من ترسيب المواد العالقة بمياه النهر.
 () ٣) منخفضات صحراوية توجد بها مياه جوفية ويوجد بها سكان وتقوم بها حرفة الزراعة.

اكتب مدلول الأرقام الآتية:

- ١) سهول نهري
 ٢) جبال
 ٣) المحيط
 ٤) ممر مائي
 ٥) مضيق



غزوات الرسول ﷺ «دعوته وكفاحه»

المرحلة الثالثة
مواجهة المعتدين على الدعوة

بدأت هذه المرحلة بمواجهة كل من يسعى للقضاء على الدين الإسلامي حيث خاض الرسول ﷺ وأصحابه مجموعة من **السرايا والغزوات** ضد المشركين:

الغزوات	السرايا	تعريفها	هدفها
هي معارك خاضها المسلمون بقيادة الرسول ﷺ ضد المشركين.	هي حملات وجهها الرسول ﷺ ضد المشركين ولم يحضرها.		
الدفاع عن الدين الإسلامي وحماية نشره بين الناس جميعاً.	إضعاف قوة قريش الاقتصادية ليقفوا كيدهم وعداءهم وتحريضهم لليهود ضد الرسول ﷺ وأصحابه بالمدينة.		

أهم غزوات الرسول ﷺ

١ غزوة بدر ٢هـ

■ الأطراف

قريش × المسلمين.

■ الأسباب

- اقترح النبي ﷺ على أصحابه اعتراض قافلة تجارية لقريش كانت عائدة من بلاد الشام تعويضاً عما استولت عليه قريش من المسلمين بعد الهجرة.
- عندما علم **أبو سفيان** قائد القافلة غير طريقه فنجأ بالقافلة من أيدي المسلمين، ولكن أصر زعماء قريش على قتال المسلمين والقضاء عليهم.

■ الأحداث

- خرجت قريش بجيش عدده ما بين (٩٠٠ - ١٠٠٠) مقاتل حتى وصلوا إلى بدر.
- استشار الرسول ﷺ أصحابه فأشاروا عليه بالخروج لقتالهم.
- خرج الرسول ﷺ وأصحابه في جيش بلغ عدده ٣١٣ مقاتل حتى وصلوا إلى بدر.
- أشار **الحباب بن المنذر** على الرسول ﷺ أن يعسكر عند أقرب بئر من المشركين.
- دارت المعركة بين الطرفين وشجع الرسول ﷺ أصحابه على القتال وظل يدعو ربه فأمده الله بملائكة تحارب معه.

■ النتائج

انتصار المسلمين وهزيمة قريش رغم قلة عدد المسلمين وعدتهم **وذلك** لقوة إيمانهم وأخذهم بأسباب النصر.

■ الدروس

- أهمية مبدأ الشورى.
- النصر يأتي من عند الله ولا يعتمد على قوة أو كثرة العدد.
- حسن معاملة الأسرى في الحروب.

■ الاستفادة

٢ غزوة أحد ٣هـ

■ الأطراف قريش × المسلمين.

■ الأسباب رغبة قريش في الانتقام من المسلمين لهزيمتهم في يوم بدر.

- جهزت قريش جيشاً كبيراً عدده ٣٠٠٠ مقاتل واتجهت به نحو المدينة ونزلوا بالقرب من جبل أحد.
- استشار الرسول ﷺ أصحابه فأشاروا عليه بالخروج لقتالهم فخرج الرسول ﷺ بجيش عدده ١٠٠٠ مقاتل وفي الطريق رجع زعيم المنافقين **عبدالله بن أبي بن سلول** بثلاث الجيش.
- خطط الرسول ﷺ للمعركة واختار ٥٠ رامياً للوقوف فوق جبل يشرف على المعركة وأمرهم ألا يتحركوا من أماكنهم في حالة النصر أو الهزيمة إلا بأمره.
- دارت المعركة وفي البداية كان المسلمون متصرفون.
- خالف الرماة أوامر الرسول ﷺ وتركوا أماكنهم ونزلوا لجمع الغنائم.
- استغل **خالد بن الوليد** الفرصة واستدار من خلف الجبل بجيش من مشركي قريش وانقض على المسلمين وتحول نصر المسلمين إلى هزيمة.

■ الأحداث

■ النتائج هزيمة المسلمين وانتصار قريش.

■ الدروس المستفادة الالتزام بأوامر القائد في الحرب.

٣ غزوة الخندق ٥هـ

■ الأطراف قريش وحلفاؤها × المسلمين.

■ الأسباب استجابة قريش وحلفائها لتحريض جماعة من سادات **يهود بنى النضير** لقتال المسلمين.

لاحظ!

يهود بنى النضير:

أخرجهم النبي ﷺ من المدينة عام ٤هـ لغدرهم وخيانتهم.

- خرجت قريش وحلفائها بجيش عدده ١٠ آلاف مقاتل واتجهوا نحو المدينة.
- استشار الرسول ﷺ أصحابه فأشار عليه **سليمان الفارسي** بحفر خندق حول المدينة، فقام النبي ﷺ وأصحابه بحفر الخندق، وانتهوا منه قبل مجيء جيش المشركين.
- خرج الرسول ﷺ وأصحابه في جيش عدده ٣ آلاف مقاتل وكان الجبل خلفه والخندق أمامه.
- رأت قريش الخندق فقالوا (إنها مكيدة ما عرفها العرب من قبل) فقاموا بحصار المسلمين.
- خان **يهود بنى قريظة** العهد وانضموا إلى المشركين، فاشتد الحصار على المسلمين.
- استمر الحصار شهراً كاملاً حتى أرسل الله ريحاً شديدة اقتلعت خيام المشركين وقذف الله في قلوبهم الرعب.

■ الأحداث

■ النتائج انتصار المسلمين بفضل الله وعودة المشركين إلى بلادهم خاسرين.

■ الدروس المستفادة • التماس النصر من عند الله. • أهمية مبدأ الشورى.

* بعد انتصار المسلمين في غزوة الخندق توجه الرسول ﷺ إلى **يهود بنى قريظة** وحاصرهم وأمر بإخراجهم من المدينة بسبب غدرهم وخيانتهم.

(مواجهة من يقف ضد حرية نشرها)

عالمية الدعوة

المرحلة
الرابعة

١ صلح الحديبية ٦هـ

- خرج الرسول ﷺ في جمع من أصحابه قاصدين مكة لأداء العمرة.
- عندما وصل الرسول ﷺ وأصحابه إلى مكان يُسمى الحديبية أرسل **عثمان بن عفان** إلى قريش ليخبرهم بأنه لم يأت للقتال، ولكن قريش أصرت على منع الرسول ﷺ وأصحابه من دخول مكة.
- تأخر عثمان بن عفان في العودة من عند قريش وأُشيع إنه قتل فبايع الرسول ﷺ أصحابه على قتال قريش وسميت «بيعة الرضوان» ولكن سرعان ما عاد عثمان بن عفان.
- أرسلت قريش رسلاً لمفاوضة الرسول ﷺ وتوصل الطرفان إلى عقد صلح أطلق عليه «**صلح الحديبية**».

ظروف عقده

• إيقاف الحرب بين الطرفين عشر سنوات.

• تأجيل دخول المسلمين إلى مكة للعام القادم.

• من أراد أن يدخل في حلف محمد ﷺ دخل فيه مثل **قبيلة خزاعة**، ومن أرادأن يدخل في حلف قريش دخل فيه مثل **قبيلة بكر**.

• من أتى إلى قريش من المسلمين لا ترده، ومن أتى إلى محمد ﷺ من قريش رده إليهم.

شروط الصلح

قام الرسول ﷺ بإرسال الرسل إلى ملوك ورؤساء العالم يدعوهم للدخول في الإسلام وبذلك بدأت (**مرحلة نشر الدعوة عالمياً**) ومواجهة كل من يقف أمام تبليغها ونشر فضائلها بين الناس وبذلك أصبح صلح الحديبية فتحاً على المسلمين.

التأثير

• احترام العهود والمواثيق.

• أهمية دور المرأة في المجتمع الإسلامي.

الدروس المستفادة

٢ غزوة خيبر ٧هـ

■ الأطراف المسلمين × يهود خيبر.

أراد الرسول ﷺ أن يأمن شر اليهود وغدرهم بفتح مدينة خيبر لأنها:

■ الأسباب

• مركز المؤامرات والفساد والغدر والخيانة.

• مأوى لمثیری الشغب من اليهود الذين يرضون القبائل على قتال المسلمين.

■ الأحداث

١) استسلمت كل حصون خيبر وانتصر المسلمون.

٢) أبقى الرسول ﷺ على يهود خيبر يزرعون أرضها على أن يكون

■ النتائج

للمسلمين نصف ما يخرج منها من زرع.

• عدم التأمر على الآخرين.

• التسامح والعفو عند المقدرة.

الدروس المستفادة

لاحظ!

لعبت السيدة أم سلمة زوجة النبي ﷺ دوراً مهماً في صلح الحديبية.

لاحظ!

ظل اليهود في خيبر حتى أخرجهم منها الخليفة **عمر بن الخطاب** وبذلك انتهى وجود اليهود من شبه الجزيرة العربية.

٣ فتح مكة ٨هـ



■ الأطراف المسلمين × قريش

■ الأسباب نقضت قريش عهدها (صلح الحديبية) مع الرسول ﷺ وتحالفت مع قبيلة بكر ضد قبيلة خزاعة حلفاء المسلمين وقتلوهم وهم آمنون مطمئنون.

■ الأحداث خرج الرسول ﷺ بجيش بلغ عدده نحو ١٠ آلاف مقاتل إلى مكة.

(١) فتح الرسول ﷺ مكة دون قتال وعفى عن أهلها.

■ النتائج (٢) أتى إلى الرسول ﷺ رجال ونساء من قريش يعلنون إسلامهم ويباعونه على عبادة الله وحده.

• عدم رد الإساءة.

• التسامح والعفو عند المقدرة.

■ الدروس المستفادة

٤ غزوة حنين ٨هـ

■ الأطراف قبيلتا ثقيف وهوازن × المسلمين

■ الأسباب قررت قبيلة ثقيف وهوازن (أهل الطائف) محاربة المسلمين.

• بعد فتح مكة خرج الرسول ﷺ وأصحابه بجيش إلى حنين لقتال قبيلتي ثقيف وهوازن.

• شعر المسلمون في الطريق بقوتهم لكثرة عددهم وعدتهم وعندما وصلوا حنين

انقض عليهم عدوهم فراجع المسلمون وتفرقوا، لكن الرسول ﷺ أمر عمه العباس

لينادي على أصحابه فاجتمعوا وقتلوا عدوهم.

■ النتائج انتصار المسلمين في نهاية المعركة.

■ الدروس المستفادة النصر لا يأتي بكثرة العدد والعدة فقط ولكن بطاعة الله وقوة الإيمان.

٥ غزوة تبوك ٩هـ



■ الأطراف المسلمين × ضد الروم

■ الأسباب إعداد الروم جيشاً لقتال المسلمين والقضاء عليهم.

• أعد الرسول ﷺ جيشاً بلغ عدده ٣٠ ألف مقاتل.

■ الأحداث تحرك جيش المسلمين نحو تبوك التي كانت خاضعة للروم.

• لم يجد الرسول ﷺ أحداً من الروم حيث قذف الله في قلوبهم الرعب فتفرقوا جميعاً.

(١) انتصار المسلمين.

(٢) عودة الرسول ﷺ بجيشه سالمًا.

■ النتائج

■ الدروس المستفادة بذل النفس والمال في سبيل الله.

وفاة الرسول ﷺ ١١ هـ

- خرج الرسول ﷺ عام ١٠ هـ إلى مكة لأداء فريضة الحج وهناك خطب في المسلمين خطبة الوداع.
- بعد عودة النبي ﷺ إلى المدينة مرض وفي العام التالي انتقل إلى جوار ربه يوم الإثنين ١٢ ربيع الأول عام ١١ هـ (نفس يوم ميلاده) بعد أن أدى الأمانة وبلغ الرسالة فجزاه الله عن الإسلام والمسلمين خير جزاء.

أسئلة

أكمل:

- (١) السرايا هي الحملات التي يرسلها النبي ﷺ ضد المشركين ولم
- (٢) الغزوات هي المعارك التي يخوضها المسلمون ضد المشركين بقيادة
- (٣) كانت غزوة سنة ٢ هـ ضد قريش وانتهت بانتصار المسلمين.
- (٤) المرحلة الثالثة من مراحل دعوة الرسول ﷺ هي
- (٥) كان عدد جيش المسلمين في غزوة بدر مقاتل بينما كان عددهم في غزوة أحد مقاتل.
- (٦) في غزوة أحد عاد زعيم المنافقين بثلت جيش المسلمين.
- (٧) أشار على النبي ﷺ بحفر خندق حول المدينة في غزوة الخندق سنة ٥ هـ.
- (٨) أخرج النبي ﷺ يهود من المدينة سنة ٥ هـ.
- (٩) كانت غزوة تبوك عام هـ بين المسلمين و.....

بم تفسر:

- (١) قيام النبي ﷺ بغزوة بدر ٢ هـ ؟
- (٢) هزيمة المسلمين في غزوة أحد ؟
- (٣) أهمية مبدأ الشورى في غزوة الخندق عام ٥ هـ ؟
- (٤) حدوث بيعة الرضوان ٦ هـ ؟
- (٥) إرسال الرسول ﷺ للسرايا ؟

ضع علامة (✓) أو (×) مع التصويب:

- () حاصرت قريش المسلمين في المدينة شهراً كاملاً في غزوة أحد.
- () عقب انتصار المسلمين في غزوة الخندق أخرج النبي ﷺ يهود بني النضير من المدينة.
- () كان عدد جيش المسلمين في غزوة بدر ٩٠٠ مقاتل.

ما النتائج المترتبة على:

- (١) غزوة خيبر ٧ هـ ؟

دلل تاريخياً على صحة العبارات الآتية:

- (١) تعتبر غزوة حنين درساً للمسلمين ؟
- (٢) قام اليهود بخيانة عهدهم مع النبي ﷺ ؟
- (٣) اتصف النبي ﷺ في غزواته بالتسامح والعفو عند المقدرة ؟

قارن بين:

- (٢) غزوة بدر وغزوة أحد، من حيث: (التاريخ - الأطراف - الأسباب - النتائج)

تابع جديدنا كرولي على
فيسبوك
تويتر
واتس اب
تليجرام

اختبار

أكمل:

- (١) يتميز مناخ المناطق الساحلية طوال العام.
- (٢) من جبال الوطن العربي التي يوجد فوق قممها جليد جبال
- (٣) تكونت سلاسل جبال أطلس نتيجة حركات وهي تحصر بينها هضبة
- (٤) كلف الرسول ﷺ برعى الأغنام حول غار ثور ليخفي آثار أقدامه هو وأبو بكر.
- (٥) أول مدرسة في الإسلام هي وأول سفير في الإسلام هو
- (٦) توفت أم النبي ﷺ وهو في من عمره.
- (٧) يجد الوطن العربي من الشمال جبال والبحر

بم تفسر:

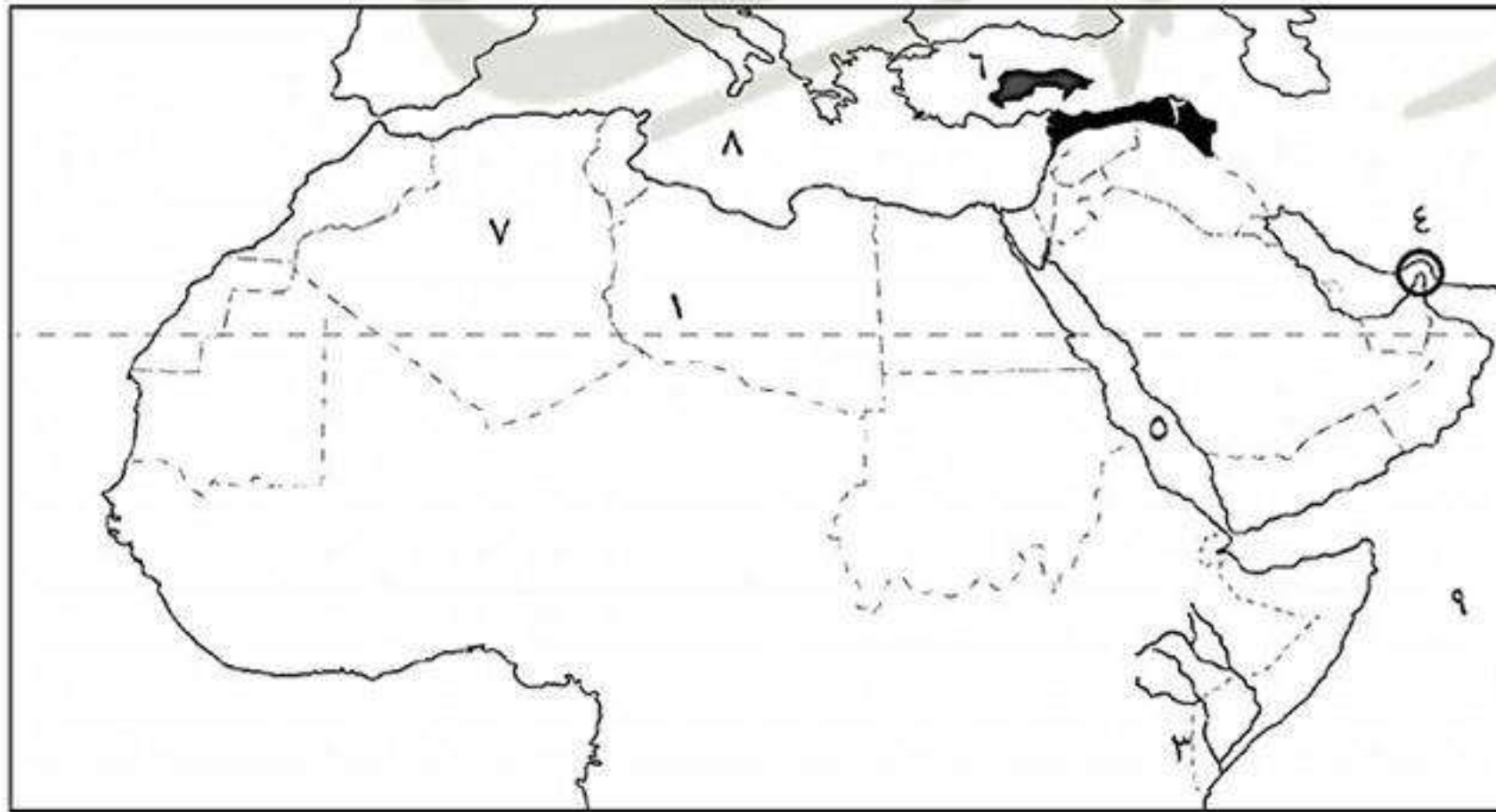
- (١) أهمية موقع الوطن العربي الاقتصادية والاسراتيجية ؟
- (٢) تسمية عام الحزن بهذا الاسم ؟
- (٣) هزيمة المسلمين يوم أحد ؟

أكتب ما تشير إليه الجمل الآتية:

- (١) ما ينزله الله على الأنبياء بواسطة سيدنا جبريل عليه السلام.
- (٢) بلد أمر النبي ﷺ أصحابه بالهجرة إليها لأن ملكها لا يظلم عنده أحد.
- (٣) طائفة من اليهود أمر النبي ﷺ بإخراجهم لأنهم غدروا به وانفقوا مع الأحزاب ضد المسلمين.
- (٤) أراضي منخفضة ومستوية كونتها الأنهار نتيجة ترسيب المواد العالقة في مياهها على جانبي النهر.
- (٥) أودية كانت تجري بها مياه الأمطار في الماضي ثم جفت.

أكتب مدلول الأرقام الآتية:

- (١) دائرة عرض
- (٢) إقليم مناخ
- (٣) سهول نهري
- (٤) مضيق
- (٥) البحر
- (٦) جبال
- (٧) دولة
- (٨) البحر
- (٩) المحيط



ما المقصود بالمصطلحات الآتية:

- (١) المهاجرون ؟
- (٢) واحات ؟

دل على صحة العبارات الآتية:

- (١) حرص الرسول ﷺ على رد الأمانات إلى أهلها قبل الهجرة إلى يثرب ؟
- (٢) الإسلام يقر مبدأ التعايش مع الآخر ؟

أسئلة

أكمل:

- ١) انتهى وجود اليهود من شبه الجزيرة العربية على يد
- ٢) كانت غزوة درساً للمسلمين بأنهم لن يتصروا بكثرة عددهم أو عدتهم ولكن بطاعتهم.
- ٣) كانت مدينة تبوك خاضعة لحكم قبل عام ٩ هـ .
- ٤) انتقل الرسول ﷺ إلى جوار ربه يوم الثاني عشر من شهر عام هـ .
- ٥) كان عدد جيش المسلمين في فتح مكة ٨ هـ مقاتل.
- ٦) عقد الرسول ﷺ مع قريش صلحاً عام ٦ هـ سمي بصلح
- ٧) سميت بيعة المسلمين للرسول ﷺ لقتال قريش عام ٦ هـ ببيعة
- ٨) أرسل الرسول ﷺ ليخبر قريش إنه لم يأتي للقتال وإنما أتى لأداء العمرة سنة ٦ هـ .
- ٩) من شروط صلح الحديبية وقف الحرب بين قريش والمسلمين لمدة
- ١٠) قام الرسول ﷺ بغزوة سنة ٧ هـ وحاصر فيها اليهود وانتهت بانتصار
- ١١) كان للسيدة زوجة النبي ﷺ دوراً مهماً في صلح الحديبية عام

بم تفسر:

- ١) قيام الرسول ﷺ بغزوة خيبر ٧ هـ؟
- ٢) مبايعة الرسول ﷺ للمسلمين على القتال في الحديبية؟
- ٣) تعد غزوة حنين درساً للمسلمين؟
- ٤) قيام غزوة أحد ٣ هـ؟

ما العلاقة بين:

- ١) صلح الحديبية وفتح مكة؟

اختبار

أكمل:

- ١) من المدن العربية التي مازالت تحت الاحتلال و
- ٢) تعتبر حشائش مراعى طبيعية.
- ٣) تحصر جبال أطلس بينها هضبة وهى أهم ظواهر هضبة
- ٤) ترجع أهمية أشجار السنط المدارية إلى إنه يستخرج منها
- ٥) كلف الرسول ﷺ برد الأمانات إلى أصحابها قبل هجرته إلى
- ٦) استأجر النبي ﷺ دليلاً أميناً في رحلته إلى يثرب وهو
- ٧) أشار على النبي ﷺ بحفر خندق عام
- ٨) من النباتات التي تنمو في الإقليم الصحراوي
- ٩) خضعت مصر والشام لحكم قبل ظهور الإسلام.
- ١٠) بايع الرسول ﷺ في بيعة العقبة الأولى رجلاً بينما في بيعة العقبة الثانية بايعه رجلاً.

بم تفسر:

- ١) هزيمة المسلمين في غزوة أحد؟

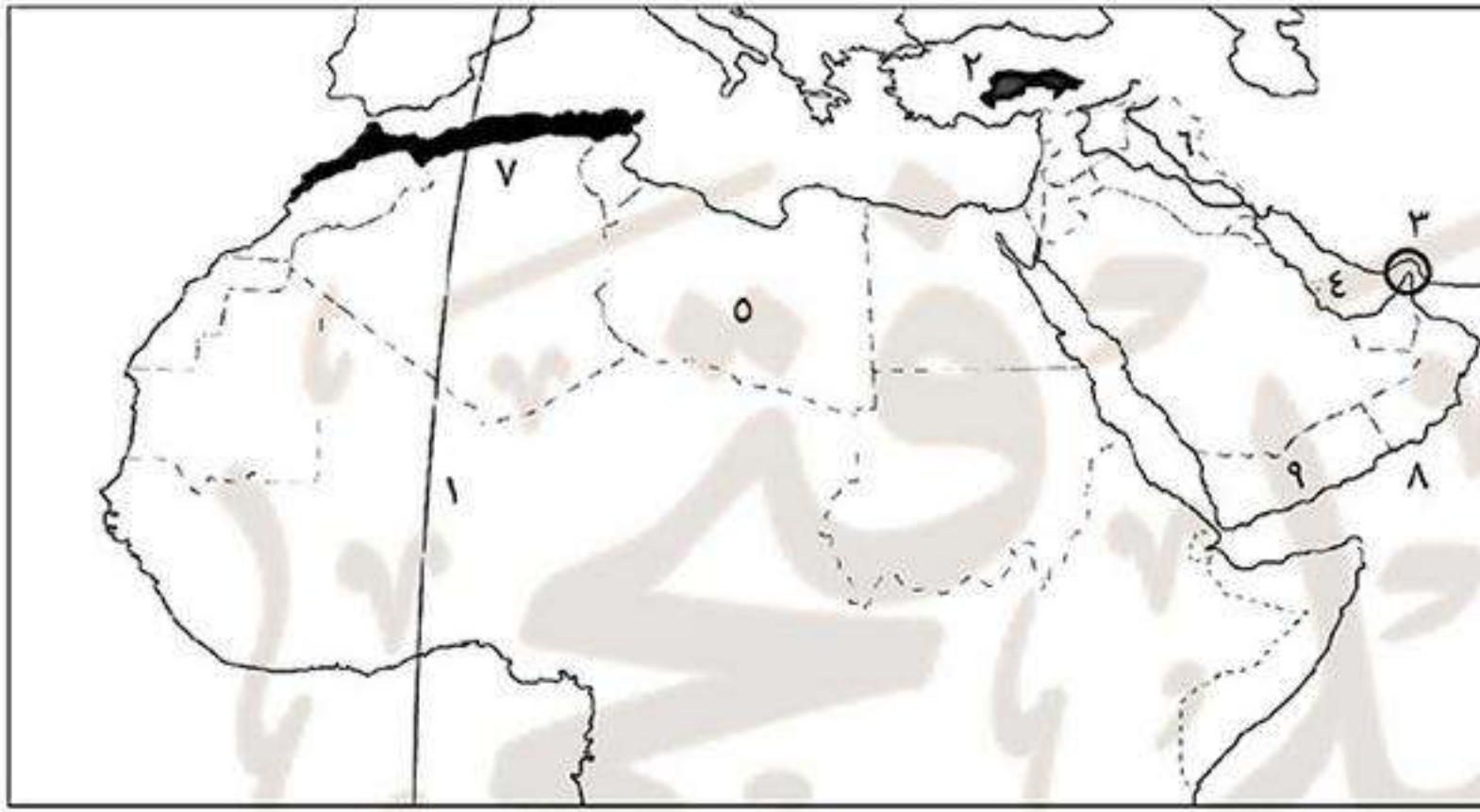
- (٢) يعتبر صلح الحديبية ٦ هـ فتحاً للمسلمين ؟
 (٣) الأهمية الاقتصادية للسهول الساحلية ؟
 (٤) تدرج حشائش السافانا في الطول ؟

أكتب ما تشير إليه الجمل الآتية:

- (١) خانوا العهود والمواثيق التي أبرموها مع الرسول ﷺ.
 (٢) كتاب وضعه الرسول ﷺ أمن فيه كل من يقيم في المدينة على أموالهم وأرواحهم ودور عبادتهم خاصة اليهود.
 (٣) أراضي منخفضة توجد بها مياه جوفية ويتركز بها السكان.
 (٤) منطقة قليلة المطر تقع عند السفوح الداخلية للجبال.
 (٥) غابات تشبه الغابات الاستوائية وتكثر بها أشجار السنط.

قارن بين: (السرايا - الغزوات) ؟

أكتب مدلول الأرقام الآتية:



- (١) خط طول
 (٢) جبال
 (٣) مضيق
 (٤) الخليج
 (٥) دولة
 (٦) سهول نهري
 (٧) جبال
 (٨) البحر
 (٩) دولة

رتب الأحداث الآتية:

- رحلة الإسراء والمعراج.
 - بيعة العقبة الأولى.
 - نزول الوحى في غار حراء.
 - الهجرة إلى الحبشة.
 - عام الفيل.
 - فتح مكة.

أجب عما يأتي:

«لقد وهب الله وطننا العربى أشكالاً مختلفة من مظاهر السطح ساهمت في تحقيق الوحدة بين أبناءه» في ضوء هذه العبارة وضح:

- (١) أنواع الجبال الموجودة بالوطن العربى ؟
 (٢) هضاب الجناح الآسيوى ؟

ما النتائج المترتبة على:

- (١) تعرض الوطن العربى للاستعمار الأوروبى ؟
 (٢) وجود سهول فيضية حول مجارى الأنهار فى الوطن العربى ؟

اختر الإجابة الصحيحة:

- (١) يُعد إقليم أكبر الأقاليم المناخية مساحة في الوطن العربى.
 (٢) تدخل الأجزاء الجنوبية الغربية في شبه الجزيرة العربية ضمن إقليم مناخ
 (٣) يشرف الوطن العربى على
 (٤) ولد النبى ﷺ في الثانى عشر من ربيع الأول عام م.
 (الاستوائى - الصحراوى - البحر المتوسط - المدارى)
 (المدارى - الاستوائى - الصحراوى - البحر المتوسط)
 (مضيق جبل طارق - مضيق باب المندب - مضيق هرمز - كل ما سبق)
 (٧٥٠ - ٥٧٠ - ٧٦٠ - ٦٧٠)



خلافة أبي بكر الصديق (١١: ١٣هـ)

الخلافة

هذه شكل من أشكال الحكم أقره المسلمون بعد وفاة الرسول ﷺ، يقوم عليه: اختيار من يتولى أمور المسلمين في الدين والدنيا نيابة عن الرسول ﷺ.

الشورى

هو نظام اتبعه المسلمون في اختيار الخلفاء الراشدين ويقوم على الانتخاب والترشيح.

الخلفاء الراشدين



* اتبع المسلمون نظام الشورى في اختيار الخلفاء الراشدين.

بم تفسر: تسمية الخلفاء الراشدين بهذا الاسم؟

• **خلفاء:** لأنهم جاءوا بعد وفاة الرسول ﷺ وتولوا أمور المسلمين في دينهم ودنياهم.
• **راشدون:** لأنهم ساروا على نهج الرسول ﷺ واهتدوا بهديه واستكملوا مسيرته في بناء الدولة الإسلامية.

أولاً حياة أبي بكر الصديق ﷺ

- **حياته قبل الإسلام:** • عمل بالتجارة وكان تاجراً ذا مال وفير.
- اتصف بالصدق والإحسان والإنفاق على الفقراء والتواضع والبساطة ولين القلب.
- كان محبوباً من الناس مترفعاً عن عادات الجاهلية فلم يشرب الخمر أبداً.
- **لذلك ارتبط بالرسول ﷺ وأصبح من أهل الرأي والمشورة في قريش.**
- **إسلامه:** دعاه الرسول ﷺ إلى الإسلام فلم يتردد وكان أبو بكر أول من أسلم من الرجال.
- **حياته بعد إسلامه:** قدم نفسه وماله وأسرته وكل ما يملك في سبيل الإسلام **حيث:**
 - خرج داعياً ومجاهداً حتى أسلم على يده الكثير من صحابة الرسول ﷺ.
 - كان أول خطيب في الإسلام حيث قام ليخطب في الناس عند البيت الحرام بعدما أمر الله الرسول ﷺ بأن يجهر بالدعوة.
 - أنفق معظم أمواله على فقراء المسلمين.
 - شارك الرسول ﷺ في كل غزواته.

لذلك أحبه الرسول ﷺ وجعله إماماً للمسلمين في الصلاة أثناء مرضه، وتوفى الرسول ﷺ وهو راضٍ عنه.

دور أبي بكر ﷺ في تهدئة نفوس المسلمين وتقبلهم لوفاء الرسول ﷺ

- لم يتحمل الصحابة خبر وفاة الرسول ﷺ حيث قال عمر بن الخطاب: «من قال أن محمداً ﷺ قد مات ضربت عنقه»، لكن أبو بكر الصديق ﷺ ثبت وصبر وخطب في الناس قائلاً: «من كان يعبد محمداً ﷺ فإن محمداً قد مات، ومن كان يعبد الله فإن الله حي لا يموت»، وبذلك هدأت نفوس المسلمين وتقبل الجميع أمر وفاة الرسول ﷺ.

ثانياً خلافة أبي بكر الصديق ١١: ١٣هـ

- ما أن علم عدد من الأنصار بوفاة الرسول ﷺ حتى دعوا لاجتماع عاجل في سقيفة بني ساعدة لاختيار خليفة للمسلمين للحفاظ على كيان الدولة الإسلامية، لحق بهم عدد من المهاجرين واتفقوا في جو من المودة على أن تكون الخلافة في المهاجرين وتمت مبايعة أبو بكر الصديق وكانت:

البيعة العامة	البيعة الخاصة
هي مبايعة المسلمين لأبي بكر الصديق في المسجد.	هي مبايعة الأنصار والمهاجرين المجتمعين في سقيفة بني ساعدة لأبي بكر الصديق.

بم تفسر: اختيار المسلمين لأبي بكر خليفة بعد وفاة الرسول ﷺ ؟

- (١) لأنه: أول من أسلم من الرجال.
- (٢) اختاره الرسول ﷺ ليصاحبه في الهجرة.
- (٣) جاهد بنفسه وماله وأولاده لرفعة الإسلام.
- (٤) شارك الرسول ﷺ في كل غزواته.
- (٥) جعله الرسول ﷺ إماماً للمسلمين في الصلاة أثناء مرضه.
- (٦) كان أكبر الصحابة سناً عندما توفي الرسول ﷺ.

- بعد أن تمت مبايعة أبو بكر الصديق ﷺ صعد المنبر وخطب في المسلمين موضحاً أهم الأسس التي ستسير عليها الدولة الإسلامية في عهده وهي: (١) الصدق والتواضع والمساواة. (٢) طاعة الله ورسوله ﷺ. (٣) الحث على الجهاد في سبيل الله.

ثالثاً أهم أعمال الخليفة أبي بكر الصديق ﷺ**١** إرسال جيش أسامة بن زيد لبلاد الشام

- أرسل الخليفة أبو بكر جيش أسامة بن زيد إلى بلاد الشام لقتال الروم.
- خرج أبو بكر بنفسه يودع الجيش وسار معهم ماشياً وقائد الجيش أسامة بن زيد ركباً.
- تحرك الجيش نحو بلاد الشام وعاد بعد ٤٠ يوم سالماً غانماً لينضم لجيوش المسلمين في قتال المرتدين.

بم تفسر: نصح بعض الصحابة الخليفة أبو بكر بعدم إرسال جيش أسامة ؟

- بسبب: حاجة الدولة لجيش أسامة في مواجهة خطر المرتدين ولكن أصر أبو بكر على إرسال الجيش تنفيذاً لأمر الرسول ﷺ.



٢ قتال المرتدين

■ تعرضت الدولة الإسلامية بعد وفاة الرسول ﷺ لخطر عظيم وهو المرتدين حيث:

• ارتدت بعض القبائل عن الإسلام وامتنعت عن دفع الزكاة.

• ادعى البعض النبوة مثل مسيلمة الكذاب.

■ اتخذ أبو بكر موقفاً حازماً من المرتدين حيث أرسل عدة جيوش بقيادة صحابة الرسول ﷺ لقتال المرتدين.

■ أوصى أبو بكر الجيوش بمراعاة آداب الحرب في الإسلام وهي:

• عدم الإغارة ليلاً حتى لا تروع النساء والأطفال.

• عدم قتل الشيوخ والأطفال والنساء.

• عدم التعرض للرهبان المتفرغين للعبادة في الصوامع.

• عدم هدم البيوت أو المعابد.

• عدم حرق الزرع أو قطع النخل.

* نجحت هذه الجيوش في مهمتها وعادت القبائل المرتدة إلى الإسلام واستقرت الأمور في الدولة الإسلامية.

مرتدين

هم قبائل عربية خرجت عن الإسلام بعد وفاة الرسول ﷺ منهم من رفض دفع الزكاة ومنهم من اتبع مدعى النبوة.

٣ جمع القرآن

• استشهد عدد كبير من حفظة القرآن الكريم أثناء حرب المرتدين فأشار عمر بن الخطاب

على الخليفة أبو بكر بجمع القرآن الكريم.

• فأمر الخليفة أبو بكر أحد الصحابة وهو زيد بن ثابت (أحد كتّاب الوحي) بجمع القرآن

من يحفظه وتم وضعه في مصحف واحد.



٤ نشر الإسلام خارج شبه الجزيرة العربية

■ بعد الانتصار على المرتدين واستقرار الأمور في الدولة الإسلامية فكر الخليفة أبو بكر في:

• نشر الإسلام خارج شبه الجزيرة العربية.

• تأمين حدود الدولة الإسلامية.

* قام الخليفة أبو بكر بإرسال الجيوش إلى:

• العراق: أرسل إليها جيش بقيادة خالد بن الوليد.

• بلاد الشام: أرسل إليها أربعة جيوش تحت قيادة أبو عبيدة بن الجراح

(وكان على رأس جيش منهم) وهم:

← جيش بقيادة أبو عبيدة بن الجراح إلى حمص.

← جيش بقيادة يزيد بن أبي سفيان إلى دمشق.

← جيش بقيادة شرحبيل بن حسنة إلى بلاد الأردن.

← جيش بقيادة عمرو بن العاص إلى القدس.

* أمر الخليفة أبو بكر الصديق خالد بن الوليد بالتوجه إلى بلاد الشام لقيادة الجيوش

الإسلامية بدلاً من أبو عبيدة بن الجراح وأثناء ذلك توفي الخليفة أبو بكر الصديق ﷺ.



وفاة الخليفة أبي بكر الصديق ﷺ ١٣ هـ

* توفي الخليفة أبو بكر عام ١٣ هـ بعدما استمرت خلافته ستين ونصف وكان عمره آنذاك ٦٣ عام. وخلفه في تولى أمور المسلمين عمر بن الخطاب.

أسئلة

أكمل:

- (١) أطلق على من جاءوا بعد الرسول ﷺ وتولوا أمور المسلمين في دينهم ودنياهم
- (٢) أول الخلفاء الراشدين هو وآخرهم
- (٣) أبو بكر الصديق هو أول في الإسلام حيث خطب في الناس بمكة في مرحلة الدعوة
- (٤) تمت مبايعة أبو بكر بيعة خاصة في والبيعة العامة في
- (٥) من الذين أدعوا النبوة بعد وفاة الرسول ﷺ
- (٦) أول أعمال الخليفة أبو بكر الصديق هو إرسال جيش إلى بلاد الشام.
- (٧) أكبر خطر واجهه الدولة الإسلامية عقب وفاة الرسول ﷺ هو
- (٨) كلف الخليفة أبو بكر الصحابي بجمع القرآن الكريم.

بم تفسر:

- (١) تسمية الخلفاء الراشدين بهذا الاسم؟
- (٢) اختيار المسلمين لأبو بكر ليكون خليفة لهم؟
- (٣) كان لأبو بكر الصديق دور في تهدئة نفوس المسلمين بعد وفاة الرسول ﷺ؟

دل على صحة العبارات الآتية:

- (١) كان لأبو بكر الصديق دور في تهدئة نفوس المسلمين بعد وفاة الرسول ﷺ؟

ما النتائج المترتبة على:

- (١) استشهاد عدد كبير من حفظة القرآن الكريم في حروب المرتدين؟

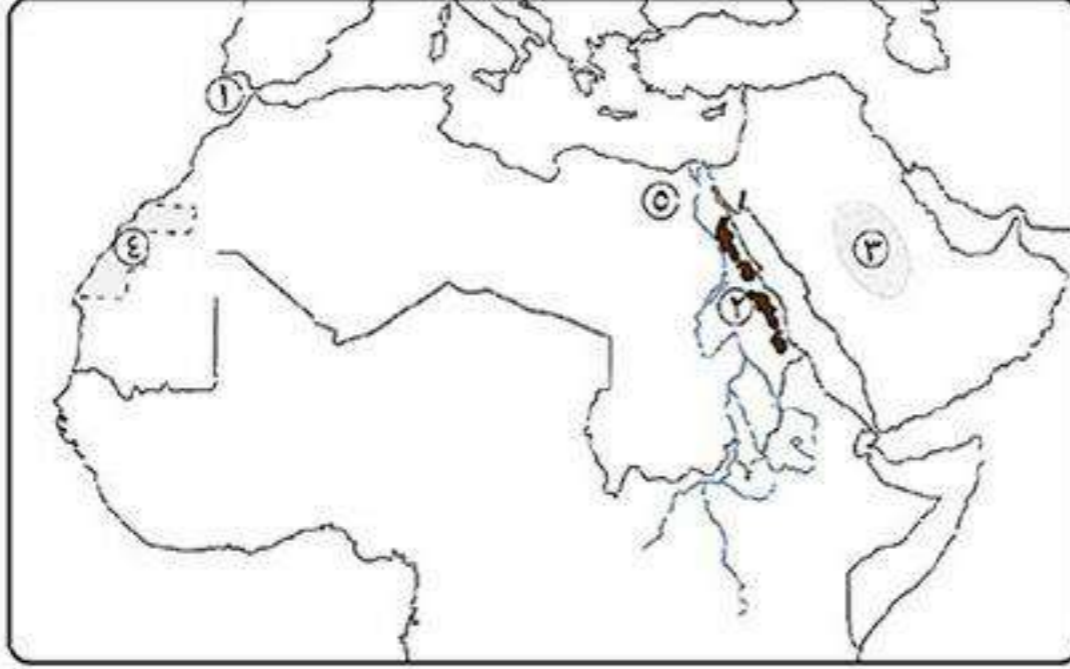
ضع علامة (✓) أو (×) مع التصويب:

- () (١) عمل أبو بكر الصديق بالتجارة قبل دخوله الإسلام.
- () (٢) شارك أبو بكر الصديق في كل غزوات الرسول ﷺ.
- () (٣) اتبع المسلمون نظام الوراثة في اختيار الخلفاء الراشدين.
- () (٤) اتفق كل المهاجرين والأنصار على مبايعة أبو بكر الصديق بالخلافة في دار الندوة.
- () (٥) أول عمل قام به الخليفة أبو بكر هو جمع القرآن الكريم.

أكتب ما تشير إليه الجمل الآتية:

- (١) نظام حكم أقره المسلمون بعد وفاة الرسول ﷺ.
- (٢) ادعى النبوة بعد وفاة الرسول ﷺ.
- (٣) صحابي كلفه الخليفة أبو بكر الصديق بجمع القرآن الكريم في مصحف واحد.
- (٤) قائد الجيش الذي أرسله الخليفة أبو بكر الصديق لفتح القدس.

اختبار



أكتب مدلول الأرقام الآتية:

- ١) مضيق
- ٢) جبال
- ٣) هضبة
- ٤) الصحراء
- ٥) سهول فيضية

أكمل:

- ١) من الممالك التي ظهرت شمال شبه الجزيرة العربية قبل الإسلام
- ٢) حدثت غزوة تبوك في عهد ولقتال
- ٣) أكثر المناطق كثافة سكانية بالوطن العربي هي و..... في مصر.
- ٤) تنتمي الغابات المعتدلة إلى إقليم مناخ وأهم أشجارها وهو شعار دولة لبنان.
- ٥) من الجبال الإنكسارية في الوطن العربي و.....
- ٦) تقع هضبة جنوب شبه الجزيرة العربية.
- ٧) أشار على الرسول ﷺ أن يعسكر عند أقرب بئر من قريش في غزوة بدر ٢ هـ.

بم تفسر:

- ١) للأودية الجافة أهمية كبيرة في الوطن العربي؟
- ٢) معارضة قريش للدعوة الإسلامية؟
- ٣) هجرة المسلمين إلى الحبشة؟
- ٤) تقسيم الوطن العربي إلى دول مختلفة المساحة؟
- ٥) ارتفاع درجة الحرارة جنوب الوطن العربي صيفاً؟

ما النتائج المترتبة على:

- ١) الحدود الطبيعية التي تحيط بالوطن العربي؟
- ٢) مواجهة جبال أطلس للبحر المتوسط؟

ما النتائج المترتبة على:

- ١) بيعة العقبة الثانية؟
- ٢) ترك الرماة أماكنهم في غزوة أحد ٣ هـ؟
- ٣) امتداد حدود الوطن العربي مع ظواهر طبيعية؟
- ٤) تزايد عدد السكان بدرجة لا تتناسب مع الموارد الاقتصادية للدولة؟

أكتب ما تشير إليه الجمل الآتية:

- ١) أرض مستوية أو شبه مستوية كونها النهر عن طريق ترسيب المواد العالقة بمياهه على جانبي النهر.
- ٢) نام في فراش النبي ﷺ يوم الهجرة ليخضع المشركين.
- ٣) أشار على الرسول ﷺ بحفر خندق حول المدينة في غزوة الأحزاب.
- ٤) كلفه الرسول ﷺ برعى الأغنام حول غار ثور ليخفي آثار أقدامه.



خلافة عمر بن الخطاب (١٣: ٢٣ هـ)

أولاً حياة عمر بن الخطاب

- **مولده:** ولد في مكة بعد مولد الرسول ﷺ بثلاث عشرة سنة.
- **نسبه:** هو عمر بن الخطاب بن نفيل القرشي.
- **إسلامه:** أسلم في السنة الخامسة من البعثة بعد أن كان أشد الناس عداوة للإسلام.
- **بم تفسر:** لقب الرسول ﷺ **عمر بن الخطاب بالفاروق** ؟
كأنه لأنه: فرق بين الحق والباطل.
- **حياته بعد إسلامه:**
 - اتصف بالزهد والعدل والرحمة والتواضع ورجاحة العقل حتى قال فيه الرسول ﷺ: «**إن الله قد جعل الحق على لسانه وفي قلبه**».
 - ظل بجوار الرسول ﷺ في مكة حتى أمر الرسول ﷺ أصحابه بالهجرة إلى يثرب.
 - أعلن عمر بن الخطاب أمام قريش إنه مهاجر إلى يثرب فلم يستطع أحد منعه، بينما هاجر أصحاب الرسول ﷺ متخفين أثناء خروجهم من مكة إلى يثرب حتى لا يراهم أحد من كفار قريش.
 - شارك مع الرسول ﷺ في كل غزواته وظل يجاهد بنفسه وماله في سبيل نشر الإسلام.
 - أحبه الرسول ﷺ لإيمانه وعلمه وذكائه وقوته في الحق، وقربه إليه حتى أصبح أحد مستشاريه.
 - ظل بجوار أبي بكر بعد توليه الخلافة يسانده حتى ثبتت أركان الدولة الإسلامية.

ثانياً خلافة عمر بن الخطاب ١٣: ٢٣ هـ

- عندما مرض أبو بكر الصديق ﷺ استشار الصحابة في أمر اختيار **عمر بن الخطاب** خليفة للمسلمين فوافقوا عليه جميعاً.
- بعد وفاة أبي بكر الصديق ﷺ بايع الناس **عمر بن الخطاب** على السمع والطاعة، ثم صعد المنبر وخطب في المسلمين مبيناً الأسس (المبادئ) التي سيقوم عليها حكمه وهي: (العدل - الرحمة - الزهد والتواضع).

ثالثاً أهم أعمال الخليفة عمر بن الخطاب

١ إنشاء الدواوين

- أنشأ عدة دواوين منها: • ديوان بيت المال. • ديوان العطاء. • ديوان الجند.
- أنشأ نظام **الحسبة**.

٢ التقويم الهجري

- اتخذ عمر بن الخطاب من هجرة الرسول ﷺ من مكة إلى المدينة بداية التقويم (التاريخ) الهجري الذي يؤرخ به المسلمون إلى اليوم.



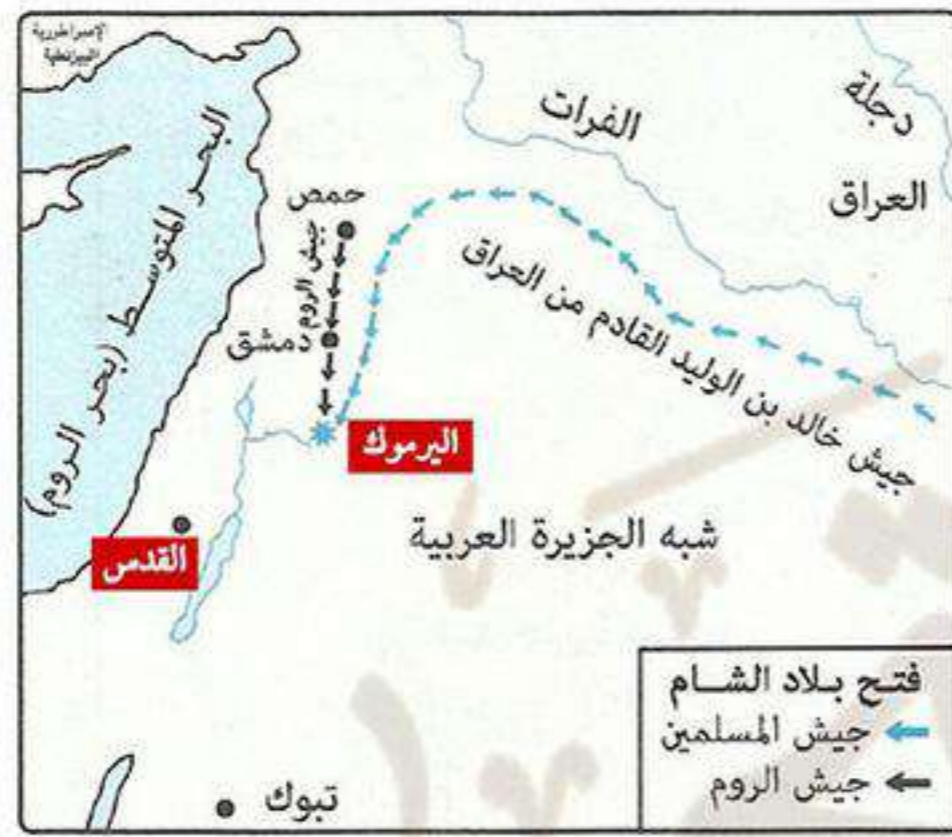
٣ إنشاء المدن

- أمر الخليفة عمر بن الخطاب قادة الفتح الإسلامي في البلاد التي فتحوها بإنشاء مدن جديدة لتكون مكاناً يجمع المسلمين وجيوشهم.
- أهم هذه المدن: • البصرة والكوفة في العراق. • القسطنطينية في مصر.

٤ الفتوحات الإسلامية

* استكمل عمر بن الخطاب الفتوحات الإسلامية التي بدأت في عهد الخليفة أبو بكر الصديق ﷺ وتم في عهده:

أولاً فتح بلاد الشام



١ موقعة اليرموك

١٣ هـ / ٦٣٤ م

المسلمين × الروم

خالد بن الوليد.

(١) انتصار المسلمين وهزيمة الروم.

(٢) مغادرة قيصر الروم بلاد الشام.

التاريخ

الأطراف

قائد المسلمين

النتائج

* بعد معركة اليرموك قام الخليفة عمر بن الخطاب ﷺ بتولية قيادة جيوش المسلمين في بلاد الشام إلى أبو عبيدة بن الجراح بدلاً من خالد بن الوليد.

ب فتح بيت المقدس ١٥ هـ

* تم فتح بيت المقدس وتسلمها أمير المؤمنين عمر بن الخطاب وكتب لأهلها أماناً على أنفسهم وكنائسهم وأموالهم كما أمر الإسلام.

ثانياً فتح العراق وبلاد فارس (إيران حالياً)

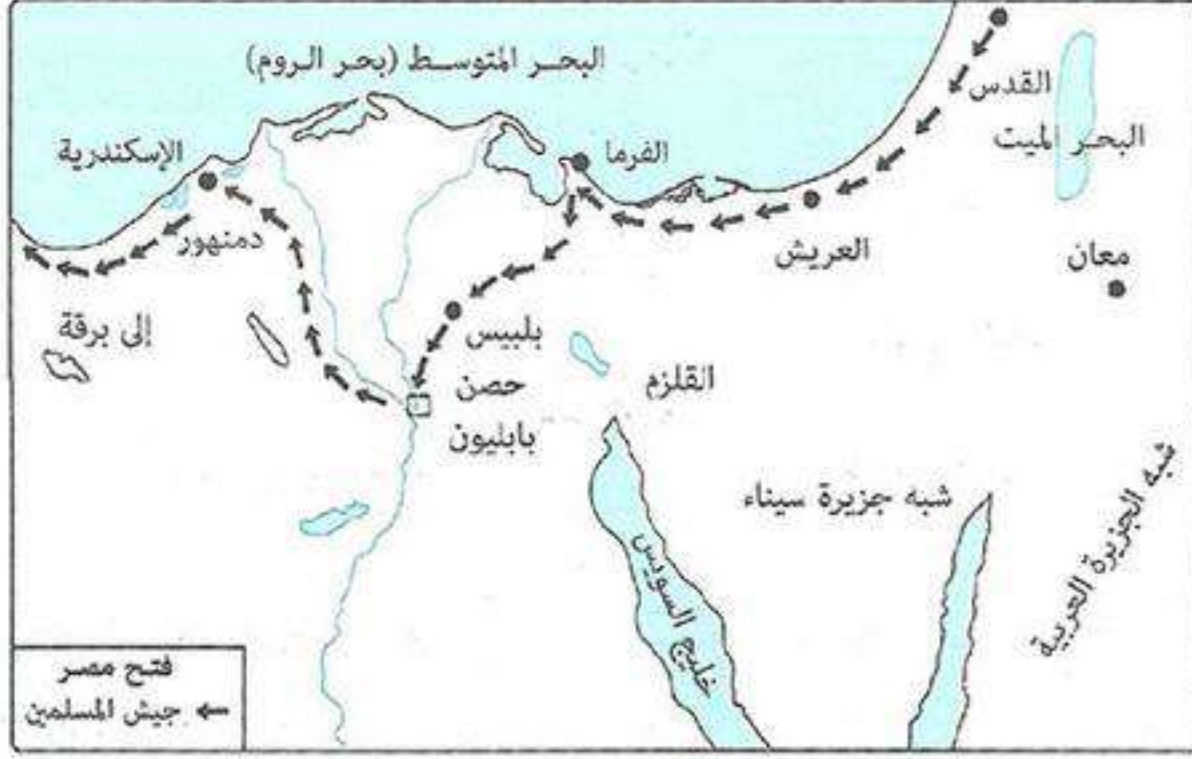
■ خلال فتح العراق وبلاد فارس قامت معركةين هما:

معركة نهاوند (فتح الفتوح)	معركة القادسية	العام
٢١ هـ	١٥ هـ	
المسلمين × الفرس	المسلمين × الفرس	الأطراف
النعمان بن مقرن	سعد بن أبي وقاص	قائد المسلمين
(١) انتصار المسلمين وهزيمة الفرس.	(١) انتصار المسلمين وهزيمة الفرس.	النتائج
(٢) انتهاء دولة الفرس، لذلك سميت هذه المعركة بـ (فتح الفتوح).	(٢) مقتل رستم قائد الفرس.	
	(٣) دخول المسلمين مدينة المدائن عاصمة الفرس.	

ثالثاً فتح مصر ٦٤١ / هـ ٢١

■ انتهز عمرو بن العاص فرصة وجود الخليفة عمر بن الخطاب في بلاد الشام وعرض عليه فكرة فتح مصر قائلاً له: «إنك إن فتحتها كانت قوة للمسلمين وعوناً لهم وتأميناً لفتوحات الشام».

■ تردد الخليفة عمر بن الخطاب في البداية بسبب انشغال جيوش المسلمين بمطاردة جيوش الفرس والروم، ولكنه وافق في النهاية على فتح مصر.



٦٤١ / هـ ٢١

التاريخ

المسلمين × الروم

الأطراف

عمرو بن العاص

قائد المسلمين

■ انطلق عمرو بن العاص بجيشه وقام بفتح:

• مدينة العريش: استقبله أهلها بالترحاب.

• مدينة الفرما: وانتصر فيها على الروم وتمكن من السيطرة عليها.

• مدينة بلبيس: حاصرها واستسلمت المدينة وانتظر بها عمرو بن العاص شهراً

يتنظر الإمدادات من الخليفة عمر بن الخطاب.

• حصن بابليون: نجح عمرو بن العاص في فتحه بعد معارك عنيفة مع الروم.

• مدينة الإسكندرية: هي عاصمة مصر أثناء الحكم الروماني.

جلاء القوات الرومانية من الإسكندرية عام ٦٤١ / هـ ٢١ وأصبحت مصر ولاية إسلامية.

فتح مصر

النتائج

دلل: أعطى عمرو بن العاص لأهل مصر مثلاً للسماحة؟

حيث: أمن الأقباط على أنفسهم وأموالهم وكنائسهم ولم يكره أحد على الدخول في الإسلام ليتعايش الجميع معاً كل له حقوق وعليه واجبات.

استشهاد الخليفة عمر بن الخطاب ٢٣ هـ

■ استشهد الخليفة عمر بن الخطاب في نهاية عام ٢٣ هـ وهو يصلي الفجر بالمسجد على يد رجل غير مسلم هو أبو لؤلؤة المجوسي بعد أن استمرت خلافته عشر سنوات ونصف وكان عمره وقتها ٦٣ عاماً.

مذكرات السلطان

www.facebook.com/EL.Sulttan

تابعنا على صفحتنا

أسئلة

أكمل:

- ١) أسلم عمر بن الخطاب في السنة من البعثة ولقبه الرسول ﷺ
- ٢) ولد عمر بن الخطاب في مدينة بعد مولد النبي ﷺ عام.
- ٣) تولى عمر بن الخطاب خلافة المسلمين أثناء معركة عام هـ.
- ٤) يطلق على معركة فتح الفتوح ومن نتائجها انتهاء دولة
- ٥) من المدن الجديدة التي أنشأها عمر بن الخطاب و في العراق و في مصر.
- ٦) قتل قائد الفرس في معركة عام ١٥ هـ.
- ٧) نجح عمرو بن العاص في فتح حصن في مصر ثم مدينة عاصمة الروم في مصر عام ٢١ هـ.

بم تفسر:

- ١) اهتم عمر بن الخطاب بإنشاء مدن جديدة؟
- ٢) تردد الخليفة عمر بن الخطاب في البداية بفتح مصر؟
- ٣) أهمية معركة نهاوند في التاريخ؟
- ٤) أطلق الرسول ﷺ على عمر بن الخطاب لقب الفاروق؟

ضع علامة (✓) أو (×) مع التصويب:

- ١) أصبحت مصر ولاية إسلامية بعد فتح حصن بابلون. ()
- ٢) قائد المسلمين في معركة القادسية هو خالد بن الوليد. ()
- ٣) تم فتح مصر على يد عمرو بن العاص. ()
- ٤) قائد المسلمين في معركة نهاوند هو سعد بن أبي وقاص. ()
- ٥) أمر الخليفة عمر بن الخطاب أن تكون قيادة جيوش المسلمين في بلاد الشام في يد خالد بن الوليد. ()
- ٦) سمى فتح مصر بفتح الفتوح. ()
- ٧) تم فتح مصر عام ٦٤١ م. ()

من هو:

- ١) قائد مسلم حقق انتصاراً على الفرس في معركة نهاوند؟
- ٢) قائد مسلم انتصر على الروم في معركة اليرموك؟
- ٣) قائد مسلم تمكن من فتح مصر ونشر الإسلام فيها؟
- ٤) قام بقتل الخليفة عمر بن الخطاب وهو يصلي؟

ما النتائج المترتبة على:

- ١) فتح مصر عام ٢١ هـ؟

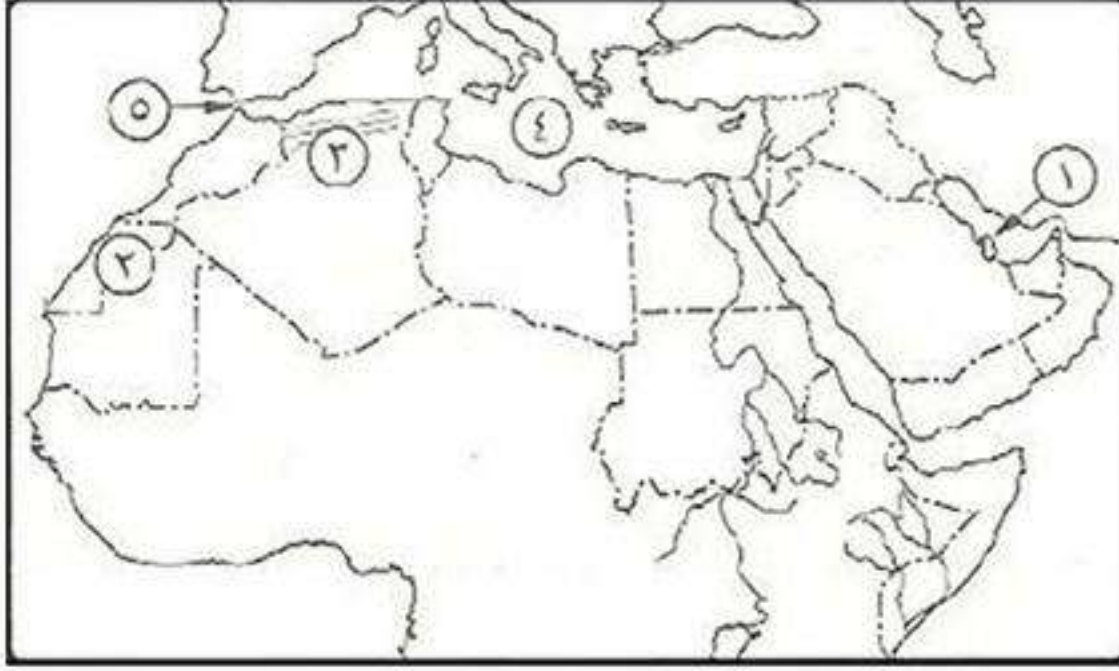
دل على صحة العبارات الآتية:

- ١) قام الخليفة عمر بن الخطاب بتنظيم الدولة الإسلامية؟
- ٢) أعطى عمرو بن العاص المصريين مثلاً في التسامح؟

قارن بين:

- ١) معركة اليرموك وفتح مصر من حيث: (التاريخ - قائد المسلمين - النتائج)؟
- ٢) الخليفة عمر بن الخطاب والخليفة أبو بكر الصديق من حيث: (أهم الأعمال)؟

اختبار



اكتب مدلول الأرقام الآتية:

- (١) دولة.....
- (٢) الصحراء.....
- (٣) إقليم مناخى.....
- (٤) البحر.....
- (٥) مضيق.....

أكمل:

- (١) تم القضاء على المرتدين في عهد الخليفة.....
- (٢) قامت معركة تبوك في عهد.....
- (٣) من هضاب شمال شبه الجزيرة العربية هضبة.....
- (٤) من المناطق منخفضة الكثافة السكانية في مصر..... و.....
- (٥) من الجبال الإنكسارية في السعودية..... و.....

بم تفسر:

- (١) تفكير الخليفة أبو بكر الصديق في جمع القرآن الكريم في مصحف واحد؟
- (٢) اختيار الرسول ﷺ الحبشة ليهاجر إليها المسلمون؟
- (٣) الأهمية الاقتصادية لأشجار السنط؟
- (٤) بناء الرسول ﷺ مسجد في المدينة؟
- (٥) أهمية الواحات؟

اكتب ما تشير إليه الجمل الآتية:

- (١) مجموعة من الناس ينتمون لأصل واحد وتجمعهم رابطة الدم والعصبية والنسب. (.....)
- (٢) ما ينزله الله على الأنبياء عن طريق جبريل ﷺ. (.....)
- (٣) أرض منخفضة في الصحراء يعيش بها السكان. (.....)
- (٤) المعارك التي قادها الرسول ﷺ ضد المشركين. (.....)

ما النتائج المترتبة على:

- (١) استشهاد عدد كبير من حفظة القرآن الكريم في حروب المرتدين؟
- (٢) تعرض الوطن العربي للاستعمار الأوروبي؟
- (٣) الصراعات والحروب بالنسبة لسكان الوطن العربي؟

اختر الإجابة الصحيحة مما بين القوسين:

- (١) يمتد الوطن العربي بين خطى طول شرقاً إلى ١٧° غرباً. (٥٠ - ٦٠ - ٧٠ - ٨٠)
- (٢) يقع وادى العلاقى في دولة (ليبيا - مصر - السودان - السعودية)
- (٣) تولى قيادة الجيوش الأربعة التي أرسلها أبو بكر الصديق إلى الشام (خالد بن الوليد - أبو عبيدة بن الجراح - سعد بن أبي وقاص)
- (٤) حدثت غزوة خيبر عام هـ. (٣ - ٥ - ٦ - ٧)
- (٥) أعد الرسول ﷺ جيشاً كبيراً لقتال في غزوة تبوك ٩ هـ. (قريش - الفرس - الروم - اليهود)
- (٦) انتهت دولة الفرس بعد انتصار المسلمين في معركة ٢١ هـ. (اليرموك - تبوك - نهاوند - القادسية)



خلافة عثمان بن عفان ؓ (٢٣: ٣٥ هـ)

أولاً حياة عثمان بن عفان ؓ

- **مولده:** ولد في مكة بعد مولد الرسول ﷺ (أى بعد عام الفيل) بخمس سنوات.
- **نسبه:** هو عثمان بن عفان بن أبي العاص الأموي القرشي.
- **إسلامه:** اتصف بالخلق والحياء والكرم وحب الحق وأهله فأحبه الناس، لذلك عرض عليه أبو بكر الصديق الإسلام، فأسلم على يده، وهو أحد العشرة المبشرين بالجنة.
- **حياته بعد إسلامه:**
 - شارك الرسول ﷺ في كل غزواته ما عدا غزوة بدر.
 - **بم تفسر:** عدم مشاركة عثمان بن عفان في غزوة بدر؟
 - **بسبب:** مرض زوجته السيدة رقية فأمره النبي ﷺ بأن يجلس بجوارها.
 - أنفق الكثير من أمواله على:
 - تجهيز جيوش المسلمين مثل ما حدث في غزوة تبوك.
 - الفقراء والمحتاجين مثل ما حدث في عهد خلافة أبو بكر الصديق حيث تعرض المسلمون لقحط شديد فوهب عثمان بن عفان قافلة كاملة محملة بالبضائع لفقراء المدينة.

ثانياً خلافة عثمان بن عفان ١٣: ٢٣ هـ

- جعل الخليفة عمر بن الخطاب ؓ عند وفاته الأمر شورى حيث اختار ٦ من الصحابة ليختار المسلمون أحدهم خليفة من بعده وقال لهم: «أحضروا عبدالله بن عمر في المشورة ولكنه ليس له من الأمر شيء».
- اجتمع الصحابة الستة وبدأ يتنازل بعضهم عن حقه في الترشح للآخر حتى استقر الأمر على اختيار عثمان بن عفان خليفة للمسلمين وبايعه المسلمون في المسجد.
- بدأ عثمان بن عفان خلافته بتذكير المسلمين بالإقبال على الآخرة والزهد في الدنيا، وبدأ بنفسه حيث كان ينفق على الناس ويطعمهم ويأكل هو الخل والزيت وبدأ الناس يشعرون في عهده بالأمن والاستقرار.

كتب ذاكرولي في البحث وانضم لجروبات ذاكرولي
مع رياض الأطفال للصف الثالث الإعدادي

ثالثاً أهم أعمال الخليفة عثمان بن عفان

١ كتابة القرآن في مصحف واحد

■ أمر الخليفة عثمان بن عفان زيد بن ثابت وبعض الصحابة بكتابة القرآن في مصحف واحد وتوزيع نُسخ من القرآن الكريم على البلاد المفتوحة.

بم تفسر: أمر عثمان بن عفان بكتابة القرآن في مصحف واحد؟

كـ (١) لأن الناس بدأوا يختلفوا في قراءة القرآن وذلك لدخول الكثير من غير العرب في الإسلام.

(٢) رغبة الخليفة عثمان بن عفان في أن تتوحد قراءة القرآن في كل قبائل العرب والبلاد المفتوحة.

يعتبر قيام الخليفة عثمان بن عفان بكتابة القرآن في مصحف واحد من أعظم أعماله.



٢ إنشاء البحرية الإسلامية

■ أمر الخليفة عثمان بن عفان كلاً من معاوية بن أبي سفيان (والي الشام) وعبدالله بن أبي السرح (والي مصر) بالتعاون فيما بينهما لتوفير كل الإمكانيات اللازمة لإنشاء أول أسطول بحري إسلامي.


بم تفسر: إنشاء البحرية الإسلامية في عهد الخليفة عثمان بن عفان؟

كـ لصد هجمات الروم على سواحل مصر والشام.

* بذلك أمن الخليفة عثمان بن عفان الدولة الإسلامية براً وبحراً.

أسطول بحري

مجموعة كبيرة من السفن التي تستخدم في الحروب أو في التجارة.



٣ الفتوحات الإسلامية

■ استكمل الخليفة عثمان بن عفان الفتوحات الإسلامية وأمر كلاً من:

(١) معاوية بن أبي سفيان (والي الشام) بفتح:

• أرمينية فأرسل معاوية القائد حبيب بن مسلمة ففتحها عام ٢٥ هـ.

• جزيرة قبرص فتحها معاوية عام ٢٨ هـ.

بم تفسر: قيام معاوية بن أبي سفيان بفتح جزيرة قبرص؟

كـ لصد هجمات الروم على سواحل مصر والشام.

(٢) عبدالله بن أبي السرح (والي مصر) بفتح:

• إفريقية (تونس حالياً) قام بفتحها عام ٢٨ هـ.

• بلاد النوبة فتحها عام ٣١ هـ.



الفتوحات الإسلامية في عهد الخليفة عثمان بن عفان

معركة ذات الصواري

- عام: ٣٤ هـ .
- الأطراف: المسلمين × الروم
- الأسباب: إرسال الروم أسطول بحري كبير مكون من ٥٠٠ سفينة لمحاربة المسلمين.
- الأحداث: • أمر الخليفة عثمان بن عفان معاوية بن أبي سفيان بالتوجه إلى أسطول الروم فطلب من عبدالله بن أبي السرح التوجه إليهم.
- التقى عبدالله بن أبي السرح بأسطول الروم في عرض البحر ودارت معركة عظيمة بينهما.
- النتائج: (١) انتصار المسلمين.
- (٢) تدمير أسطول الروم وقتل الآلاف منهم.

ما النتائج المترتبة على: كثرة الفتوحات في عهد الخليفة عثمان بن عفان؟

- كثرت على ذلك: (١) كثرة الخير في عهد الخليفة عثمان بن عفان.
- (٢) تأمين حدود الدولة الإسلامية التي امتدت إلى: - شمالاً: إلى أرمينية.
- جنوباً: إلى بلاد النوبة.
- غرباً: إلى أفريقية.

استشهاد الخليفة عثمان بن عفان ٣٥ هـ

- في أواخر عهد الخليفة عثمان بن عفان ظهر كتحرك داخل الدولة الإسلامية تزعمه عبدالله بن سبأ بهدف إثارة الفتنة بين المسلمين وهدم كيان الدولة الإسلامية.
- * عبدالله بن سبأ: هو رجل يهودى دخل الإسلام وهو حاقد عليه واستمرت الفتنة التي أشعلها إلى عهد الخليفة علي بن أبي طالب.

ما النتائج المترتبة على: الفتنة التي أشعلها عبدالله بن سبأ؟

- كثرت على ذلك: (١) انضمام بعض المنافقين إلى عبدالله بن سبأ وأخذوا يوجهون الاتهامات الباطلة إلى الخليفة عثمان بن عفان وطالبوا بعزله.
- (٢) رفض الخليفة عثمان بن عفان مطلبهم فحاصروه في بيته وقتلوه وهو يرتل القرآن.

أسئلة

أكمل:

- (١) ولد عثمان بن عفان بعد عام الفيل سنوات.
- (٢) شارك عثمان بن عفان في كل غزوات الرسول ﷺ ماعدا غزوة
- (٣) عرض الإسلام على عثمان بن عفان.
- (٤) أمر الخليفة عثمان بن عفان الصحابي بكتابة القرآن في مصحف واحد.

- (٥) قام معاوية بن أبي سفيان بفتح و.....
 (٦) استشهد الخليفة عثمان بن عفان بسبب الفتنة التي أثارها عام ٣٥ هـ.

من هو:

- (١) حضر لاختيار خليفة للمسلمين بعد مقتل عمر بن الخطاب ولم يكن له من الأمر شيء؟
 (٢) أمره الخليفة عثمان بن عفان بكتابة القرآن في مصحف واحد؟
 (٣) والى مصر الذي كلفه الخليفة عثمان بن عفان بتوفير الإمكانات اللازمة لإنشاء أسطول إسلامي؟
 (٤) قائد المسلمين الذي قام بفتح أرمينية عام ٢٥ هـ؟
 (٥) عمل على إثارة الفتن في الدولة الإسلامية في عهد الخليفة عثمان بن عفان؟
 (٦) قائد المسلمين في معركة ذات الصواري ٣٤ هـ؟

ما النتائج المترتبة على:

- (١) موقعة ذات الصواري ٣٤ هـ؟
 (٢) الفتوحات الإسلامية في عهد الخليفة عثمان بن عفان؟
 (٣) الفتنة التي أثارها عبدالله بن سبأ بين المسلمين؟

صحح ما تحته خط:

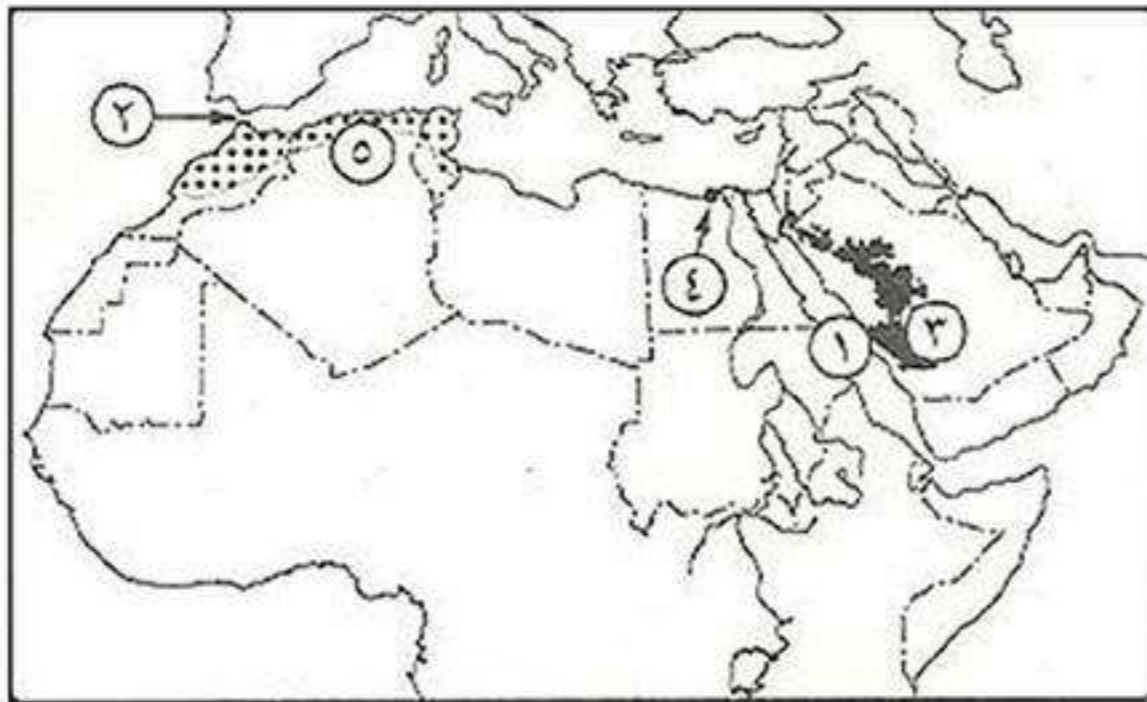
- (١) تولى عثمان بن عفان الخلافة بعد أبي بكر الصديق.
 (٢) وقعت معركة ذات الصواري بين المسلمين والفرس.
 (٣) استمر حكم الخليفة عثمان بن عفان ٣٣ عام.
 (٤) شارك عثمان بن عفان في كل الغزوات ماعدا غزوة الخندق ٥ هـ.

دل على صحة العبارة:

- (١) أنفق عثمان بن عفان الكثير من أمواله في سبيل الله؟

بم تفسر:

- (١) لم يشارك عثمان بن عفان في غزوة بدر ٢ هـ؟
 (٢) قيام الخليفة عثمان بن عفان بكتابة القرآن الكريم في مصحف واحد؟
 (٣) قيام الخليفة عثمان بن عفان بإنشاء أسطول إسلامي؟

اختبار**اكتب مدلول الأرقام الآتية:**

- (١) البحر
 (٢) مضيق
 (٣) جبال
 (٤) مدينة صناعية مرتفعة الكثافة السكانية
 (٥) إقليم مناخ

بم تفسر:

- ١) تقسيم الوطن العربي إلى دول مختلفة المساحة؟
- ٢) أهمية الأودية الجافة؟
- ٣) أهمية أسواق العرب قديماً؟
- ٤) ارتفاع الزيادة الطبيعية لسكان الوطن العربي؟
- ٥) تركيز سكان الصحارى في الواحات؟

قارن بين:

- ١) معركة نهاوند ومعركة اليرموك من حيث: (قائد المسلمين - الأطراف - النتائج)
- ٢) البدو الرحل والريفيون من حيث: (نسبتهم - الحرف التي يعملون بها)

أكتب ما تشير إليه الجمل الآتية:

- ١) موقع المكان بالنسبة لخطوط الطول ودوائر العرض. (.....)
- ٢) الأهمية وقت الحرب والسلام. (.....)
- ٣) دولة عربية ما زالت محتلة حتى الآن. (.....)
- ٤) مجموعة من الناس ينتمون إلى أصل واحد تربطهم رابطة الدم والعصبية والنسب. (.....)
- ٥) عبادة الله وحده لا شريك له على دين سيدنا إبراهيم عليه السلام. (.....)
- ٦) نسبة عدد السكان إلى المساحة التي يقيمون عليها. (.....)

ما النتائج المترتبة على:

- ١) ارتفاع جبال لبنان ارتفاعاً شاهقاً؟
- ٢) الهجرة المستمرة من الريف إلى المدن؟
- ٣) وجود أماكن مقدسة بالوطن العربي يقصدها الناس لزيارتها؟
- ٤) تزايد السكان بدرجة لا تتناسب مع الموارد الاقتصادية للدولة؟

دل تاريخياً على صحة كل عبارة مما يأتي:

- ١) أهمية صلح الحديبية للمسلمين؟
- ٢) وقف الخليفة أبو بكر الصديق موقفاً حازماً من المرتدين؟

ما العلاقة بين:

- ٣) المناخ وتوزيع السكان؟
- ٤) وقف الخليفة أبو بكر الصديق موقفاً حازماً من المرتدين؟

ضع علامة (✓) أو (×) مع التصويب:

- ١) تنخفض الكثافة السكانية في السهول الفيضية. ()
- ٢) كان النظام القبلي هو النظام السائد في شبه الجزيرة العربية. ()
- ٣) بُعث الرسول ﷺ في سن الثلاثين من عمره. ()
- ٤) غزوة حنين هي آخر غزوات الرسول ﷺ. ()

رتب الأحداث الآتية:

- صلح الحديبية. - عام الفيل. - بيعة العقبة الأولى. - غزوة أحد.



خلافة علي بن أبي طالب (٣٥: ٤٠ هـ)

أولاً حياة علي بن أبي طالب

- **مولده:** ولد في مكة بعد مولد الرسول ﷺ بثلاثين سنة.
- **نسبه:** هو علي بن أبي طالب بن عبد المطلب الهاشمي القرشي (ابن عم الرسول ﷺ).
- **نشأته:** نشأ وتربى في بيت الرسول ﷺ فكان له القدوة الصالحة والمثل الأعلى.
- **إسلامه:** كان في العاشرة من عمره حينما نزل الوحي على الرسول ﷺ وأسلم على يديه (أول من أسلم من الصبيان).
- **مور مضيئة من حياته:**
 - عاصر علي بن أبي طالب ﷺ مسيرة الإسلام منذ ساعاته الأولى.
 - تلقى العلم على يد معلمه الأول (الرسول ﷺ) في أول مدرسة للإسلام (دار الأرقم بن أبي الأرقم).
 - نام في فراش النبي ﷺ يوم الهجرة لينخدع المشركين فكان أولى فدائي في الإسلام.
 - زوجه الرسول ﷺ بابنته السيدة فاطمة وأنجبت له الحسن والحسين سيدي شباب أهل الجنة.
 - أعلن له الرسول ﷺ حب الله ورسوله له يوم خيبر حينما قال الرسول ﷺ: «لأعطين الراية غداً لرجل يحب الله ورسوله».
 - شارك مع الرسول ﷺ في كل غزواته ماعدا غزوة تبوك لأن الرسول ﷺ استخلفه على أهل المدينة.
 - جاهد مع كل من أبو بكر الصديق وعمر وعثمان أثناء خلافتهم وتوفوا وهم راضون عنه.

ثانياً خلافة علي بن أبي طالب ٣٥: ٤٠ هـ

- بعد استشهاد الخليفة عثمان بن عفان، أسرع الناس إلى علي بن أبي طالب ليبايعوه بالخلافة، ولكنه كان يرفض ويقول لهم: «لا حاجة لي بأمركم» لكن الصحابة أصرروا على اختياره خليفة للمسلمين فاضطر للموافقة.
- بايع الصحابة علي بن أبي طالب خليفة ثم كانت البيعة العامة في المسجد، وبعدها خطب في المسلمين وطبق على نفسه ما وصى به المسلمين في الخطبة.

دليل: كان علي بن أبي طالب نموذج في الزهد وعدم الحرص على الدنيا؟

كـ حيث: (١) لم يأخذ من بيت المال إلا قدر حاجته.

(٢) كان يترك مقر الخلافة ويذهب للأسواق لشراء حاجاته.

مذكرات السلطان

www.facebook.com/EL.Sulttan



تابعنا على صفحتنا

ثالثاً أهم أعمال الخليفة علي بن أبي طالب

١ نقل مقر الخلافة

قام علي بن أبي طالب بنقل مقر الخلافة من المدينة إلى الكوفة في العراق.

بم تفسر: نقل علي بن أبي طالب مقر الخلافة من المدينة إلى الكوفة؟
كم لكى: يسهل من خلالها الانتقال إلى المدن الإسلامية نظراً لاتساع الدولة الإسلامية بعد كثرة الفتوحات.

٢ تنظيم الشرطة

بم تفسر: قيام الخليفة علي بن أبي طالب بتنظيم الشرطة؟
كم من أجل: (١) الحفاظ على الأمن وسلامة المواطنين.

(٢) ملاحقة الجناة والمفسدين والخارجين على القانون.

استشهاد الخليفة علي بن أبي طالب . ٤٥ هـ

• زادت الفتنة التي أشعلها عبدالله بن سبا اليهودي بين المسلمين بعد مقتل عثمان بن عفان وتولى علي بن أبي طالب الخلافة وانقسم المسلمون إلى فريقين: (١) يطالب بالقصاص من قتلة عثمان بن عفان.

(٢) يطالب بتأجيل القصاص من قتلة عثمان بن عفان حتى تستقر أمور الدولة.

• دارت عدة معارك بين الفريقين حتى اتفقا على التحكيم بينهما إلا أن التحكيم لم ينجح في إنهاء الخلاف.

• وسط هذا الصراع خرجت فئة من الفريق الثاني رافضة للتحكيم وأطلق عليهم الخوارج

وتعاهد ثلاثة منهم على قتل كل من: (علي بن أبي طالب - معاوية بن أبي سفيان - عمرو بن العاص).

• استطاع عبد الرحمن بن ملجم (أحد الخوارج الثلاثة) قتل الخليفة علي بن أبي طالب أثناء خروجه لصلاة الفجر يوم ١٧ رمضان عام ٤٥ هـ وفشل الآخرون في قتل معاوية بن أبي سفيان وعمرو بن العاص.

هكذا استشهد الخليفة علي بن أبي طالب بعد ٥٠ عام من العطاء للإسلام

وبهذا انتهى عصر الخلفاء الراشدين

خوارج

هم فئة من جيش علي بن أبي طالب خرجوا عليه ورفضوا مبدأ التحكيم وحاربوه ثم قتلوه.

لاحظ!

* أطاحت فتنة عبدالله بن سبا بحياة: عثمان بن عفان - علي بن أبي طالب
طلحة بن عبيد الله - الزبير بن العوام وكلهم من المبشرين بالجنة.

أسئلة

أكمل:

- ١) تلقى علي بن أبي طالب دروس العلم في مدرسة علي يد
- ٢) تزوج علي بن أبي طالب من ابنة الرسول ﷺ.
- ٣) نام علي بن أبي طالب في فراش النبي ﷺ يوم الهجرة من مكة إلى فأطلق عليه أول في الإسلام.
- ٤) شارك علي بن أبي طالب في كل غزوات النبي ﷺ ماعدا غزوة
- ٥) أعلن الرسول ﷺ حب الله ورسوله لعلي بن أبي طالب في غزوة
- ٦) قتل عدد من الصحابة بسبب فتنة عبدالله بن سبأ مثل طلحة بن عبيد الله و.....
- ٧) نقل علي بن أبي طالب مقر الخلافة من إلى الكوفة.
- ٨) قتل الخليفة علي بن أبي طالب على يد عام ٤٠ هـ.

من هو:

- ١) ابنة الرسول ﷺ التي تزوجها علي بن أبي طالب ؟
- ٢) فرقة قام بتنظيمها الخليفة علي بن أبي طالب لحفظ الأمن والنظام وملاحقة الخارجين عن القانون ؟
- ٣) أحد الخوارج الذي قام بقتل الخليفة علي بن أبي طالب يوم ١٧ رمضان ؟

رتب الأحداث الآتية:

مقتل الخليفة علي بن أبي طالب - التحكيم - مقتل الخليفة عثمان بن عفان - فتنة عبدالله بن سبأ

ضع علامة (✓) أو (×) مع التصويب:

- ١) ولد علي بن أبي طالب في مكة بعد مولد الرسول ﷺ بستين ونصف. ()
- ٢) أسلم علي بن أبي طالب على يد أبو بكر الصديق. ()
- ٣) تولى علي بن أبي طالب الخلافة بعد مقتل الخليفة عمر بن الخطاب. ()
- ٤) نجح الخوارج في قتل علي بن أبي طالب وعمرو بن العاص ومعاوية بن أبي سفيان. ()

بم تفسر:

- ١) قيام الخليفة علي بن أبي طالب بنقل مقر الخلافة من المدينة ؟
- ٢) قيام الخليفة علي بن أبي طالب بإنشاء تنظيم الشرطة ؟
- ٣) أطلق علي الخليفة علي بن أبي طالب (أول فدائي في الإسلام) ؟
- ٤) عدم مشاركة علي بن أبي طالب في غزوة تبوك ؟

ما النتائج المترتبة على:

- ١) استشهاد الخليفة علي بن أبي طالب ؟
- ٢) اشتداد الفتنة التي أثارها عبد الله بن سبأ في عهد الخليفة علي بن أبي طالب ؟

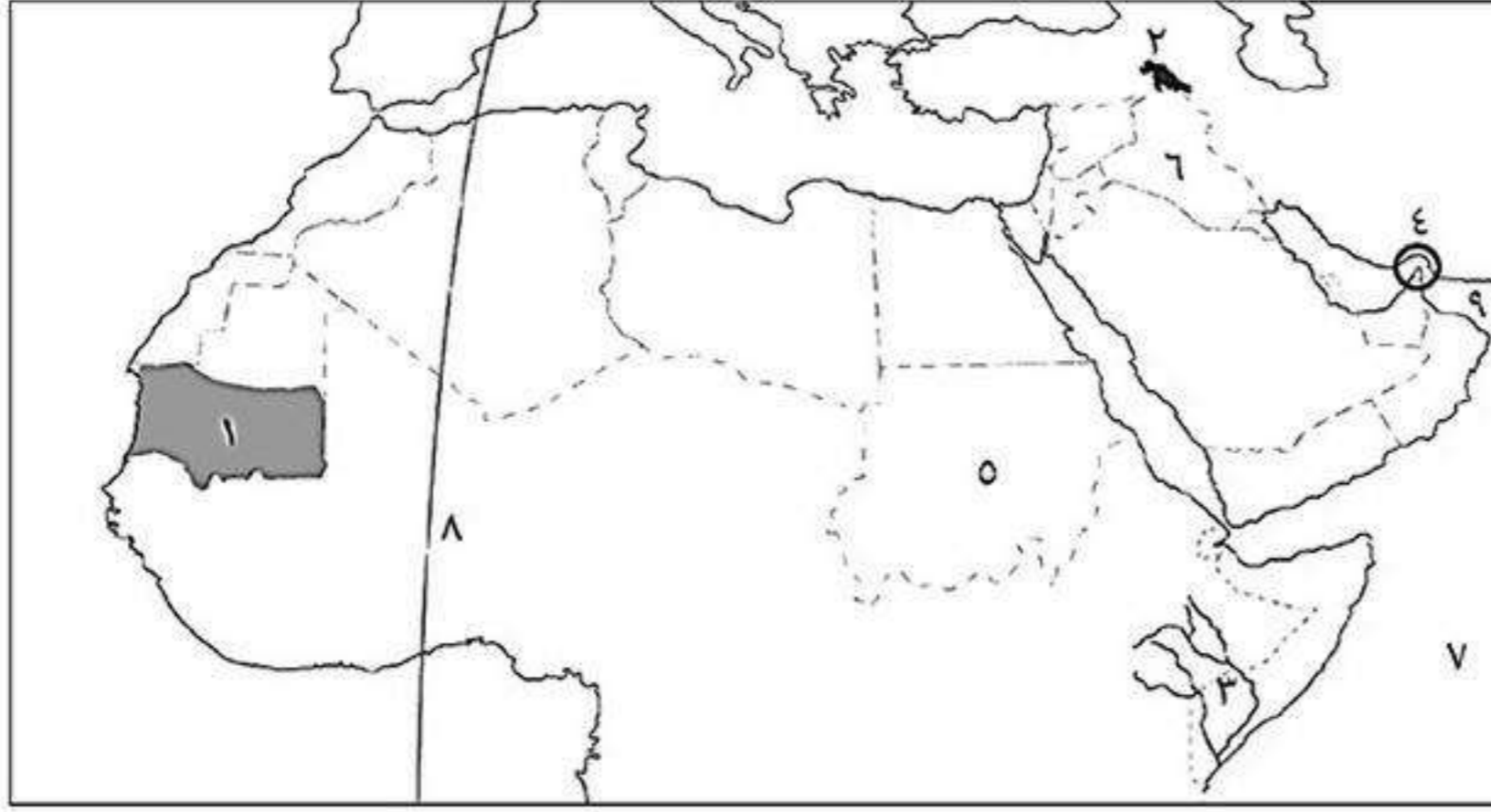
دل على صحة العبارات الآتية:

- ١) كان الخليفة علي بن أبي طالب قدوة في الزهد وعدم الحرص على الدنيا ؟

صوب ما تحته خط:

- ١) اتخلف الرسول ﷺ على بن أبي طالب على المدينة في غزوة اليرموك.
- ٢) تزوج علي بن أبي طالب السيدة رقية بنت رسول الله ﷺ.
- ٣) نقل الخليفة علي بن أبي طالب مقر الخلافة من المدينة إلى البصرة.

اختبار



اكتب مدلول الأرقام الآتية:

- (١) إقليم مناخ
- (٢) جبال
- (٣) نهري
- (٤) مضيق
- (٥) دولة
- (٦) دولة
- (٧) المحيط
- (٨) خط طول
- (٩) خليج

أكمل:

- (١) ظل النبي ﷺ يتعبد في غار حتى سن الأربعين.
- (٢) احتل الفرس دولتي و.....
- (٣) قام بقتل الخليفة عمر بن الخطاب أثناء أداءه صلاة الفجر.
- (٤) ينتمي نبات الصبار إلى إقليم مناخ بينما ينتمي شجر البلوط الفليني لإقليم مناخ
- (٥) من المناطق منخفضة الكثافة السكانية في الجزائر وفي ليبيا.
- (٦) تقع كنيسة المهد في دولة

بم تفسر:

- (١) ساد النظام القبلي في شبه الجزيرة العربية قبل الإسلام؟
- (٢) اهتمام عمر بن الخطاب بإنشاء مدن جديدة؟
- (٣) يفضل سكان اليمن ولبنان العيش على الجبال بالوطن العربي؟
- (٤) ارتفاع درجة الحرارة في معظم الوطن العربي؟

اكتب ما تشير إليه الجمل الآتية:

- (١) انتقال الفرد من منطقة لأخرى بغرض العمل أو الإقامة.
- (٢) ما ينزله الله على الأنبياء بواسطة سيدنا جبريل ﷺ.
- (٣) الزيادة الناتجة عن الفرق بين المواليد والوفيات.
- (٤) نسبة عدد السكان إلى المساحة التي يقيمون عليها.
- (٥) العلاقة غير المتوازنة بين السكان والموارد الاقتصادية.
- (٦) أرض مستوية أو شبه مستوية كونها النهر عن طريق ترسيب المواد العالقة بمياهه على جانبي النهر.

ما النتائج المترتبة على:

- (١) الأهمية الاستراتيجية للوطن العربي؟
- (٢) العلاقة غير المتوازنة بين عدد سكان الوطن العربي والموارد المتاحة؟

ماذا كان يحدث إذا:

- (١) أطاع الرماة أوامر الرسول ﷺ في غزوة أحد؟

فهرس الموضوعات

الصفحة

أولاً: الجغرافيا

◀ الوحدة الأولى: وطننا العربي (مكان واحد وطبيعة متنوعة)

- ١ الدرس الأول: وطننا العربي (الموقع والمساحة)
- ٦ الدرس الثاني: تضاريس وطننا العربي
- ١١ الدرس الثالث: المناخ والنبات الطبيعي في وطننا العربي

◀ الوحدة الثانية: سكان وطننا العربي (الوحدة والتنوع)

- ١٥ الدرس الأول: توزيع سكان وطننا العربي
- ٢٠ الدرس الثاني: خصائص سكان وطننا العربي

◀ الوحدة الثالثة: حياة محمد ﷺ (قصة بناء أمة)

- ٢٤ درس تمهيدى: أحوال شبه الجزيرة العربية قبل ظهور الإسلام
- ٢٨ الدرس الأول: محمد ﷺ المولد والنشأة
- ٣٢ الدرس الثاني: بعثة النبي محمد ﷺ
- ٣٦ الدرس الثالث: هجرة النبي محمد ﷺ وبناء الدولة
- ٤٠ الدرس الرابع: غزوات الرسول ﷺ (دعوته وكفاحه)

◀ الوحدة الرابعة: الخلفاء الراشدون (١١: ٤٠ هـ)

- ٤٨ الدرس الأول: خلافة أبي بكر الصديق ﷺ (١١: ١٣ هـ)
- ٥٣ الدرس الثاني: خلافة عمر بن الخطاب ﷺ (١٣: ٢٣ هـ)
- ٥٨ الدرس الثالث: خلافة عثمان بن عفان ﷺ (٢٣: ٣٥ هـ)
- ٦٣ الدرس الرابع: خلافة علي بن أبي طالب ﷺ (٣٥: ٤٠ هـ)



مذكرات السلطان

www.facebook.com/EL.Sulttan



تابعنا على صفحتنا

إهداء إلى الجمعيات الخيرية



السلاطون

 012 000 28 345

 EL Sultan